

ریاضی حصہ - II

نویں جماعت



بھارت کا آئین

حصہ 4 الف

بنیادی فرائض

حصہ 51 الف

بنیادی فرائض - بھارت کے ہر شہری کا یہ فرض ہوگا کہ وہ...

- (الف) آئین پر کاربند رہے اور اس کے نصب العین اور اداروں، قومی پرچم اور قومی ترانے کا احترام کرے۔
- (ب) ان اعلیٰ نصب العین کو عزیز رکھے اور ان کی تقلید کرے جو آزادی کی تحریک میں قوم کی رہنمائی کرتے رہے ہیں۔
- (ج) بھارت کے اقتدار اعلیٰ، اتحاد اور سالمیت کو مستحکم بنیادوں پر استوار کر کے ان کا تحفظ کرے۔
- (د) ملک کی حفاظت کرے اور جب ضرورت پڑے قومی خدمت انجام دے۔
- (ه) مذہبی، لسانی اور علاقائی و طبقاتی تفرقات سے قطع نظر بھارت کے عوام الناس کے مابین یک جہتی اور عام بھائی چارے کے جذبے کو فروغ دے نیز ایسی حرکات سے باز رہے جن سے خواتین کے وقار کو ٹھیس پہنچتی ہو۔
- (و) ملک کی ملی جلی ثقافت کی قدر کرے اور اُسے برقرار رکھے۔
- (ز) قدرتی ماحول کو جس میں جنگلات، جھیلیں، دریا اور جنگلی جانور شامل ہیں محفوظ رکھے اور بہتر بنائے اور جانداروں کے تئیں محبت و شفقت کا جذبہ رکھے۔
- (ح) دانشورانہ رویے سے کام لے کر انسان دوستی اور تحقیقی و اصلاحی شعور کو فروغ دے۔
- (ط) قومی جائیداد کا تحفظ کرے اور تشدد سے گریز کرے۔
- (ی) تمام انفرادی اور اجتماعی شعبوں کی بہتر کارکردگی کے لیے کوشاں رہے تاکہ قوم متواتر ترقی و کامیابی کی منازل طے کرنے میں سرگرم عمل رہے۔
- (ک) اگر ماں باپ یا ولی ہے، چھ سال سے چودہ سال تک کی عمر کے اپنے بچے یا وارڈ، جیسی بھی صورت ہو، کے لیے تعلیم کے مواقع فراہم کرے۔

سرکاری فیصلہ نمبر: ابھیاس - ۲۱۱۶/پر.نمبر (۴۳/۱۶) ایس ڈی - ۴ مورخہ ۲۵ اپریل ۲۰۱۶ء کے مطابق قائم کی گئی رابطہ کمیٹی کی نشست
۳ مارچ ۲۰۱۷ء میں اس کتاب کو درسی کتاب کے طور پر منظوری دی گئی۔

ریاضی

حصہ - II

نویں جماعت



مہاراشٹر راجیہ پاٹھیہ پستک نرمتی وابھیاس کرم سنشودھن منڈل، پونہ - ۴۱۱۰۰۴



اپنے اسمارٹ فون میں انسٹال کردہ Diksha App کے ذریعے درسی کتاب
کے پہلے صفحے پر درج Q.R. code اسکین کرنے سے ڈیجیٹل درسی کتاب اور
ہر سبق میں درج Q.R. code کے ذریعے متعلقہ سبق کی درس و تدریس کے
لیے مفید سمعی و بصری ذرائع دستیاب ہوں گے۔

پہلا ایڈیشن: ۲۰۱۸ء (2018)
تیسرا اصلاح شدہ ایڈیشن:
۲۰۲۲ء (2022)

© مہاراشٹر راجیہ پاٹھیہ پیٹنک نرمتی و ابھیاس کرم سنشودھن منڈل، پونہ - ۴۱۱۰۰۴
اس کتاب کے جملہ حقوق مہاراشٹر راجیہ پاٹھیہ پیٹنک نرمتی و ابھیاس کرم سنشودھن منڈل، پونہ کے حق میں محفوظ ہیں۔ اس کتاب کا کوئی بھی حصہ ڈائریکٹر، مہاراشٹر راجیہ پاٹھیہ پیٹنک نرمتی و ابھیاس کرم سنشودھن منڈل کی تحریری اجازت کے بغیر کسی بھی شکل میں شائع نہ کیا جاسکتا۔

Urdu Translators

Mr. Ansari Abdul Hameed Abdul Majeed
Mr. Momin Al-Nasir Abdus Samad

Co-ordinator (Urdu)

Khan Navedul Haque Inamul Haque
Special Officer for Urdu,
M.S. Bureau of Textbooks, Balbharati - Pune

Co-ordinator (Marathi)

Smt. Ujwala S. Godbole
I/C. Special Officer for Mathematics
M.S. Bureau of Textbooks, Balbharati - Pune

Urdu D.T.P. & Layout

Altaf Amcen (Sadan Graphics)
Malgaon-423203

Cover, Art work & Designing

Dhan Shri Mukashi, Pune

Computer Designing

Sandcep Koli, Mumbai

Production

Shri Sachin Mehta (C.P.O)
Shri Sanjay Kamble (Production Officer)
Shri Prashant Harnic (Asst. Production Officer)

Paper

70, GSM Creamvowe

Print Order

N/PB/2017-18/

Printer

Publisher

Shri Vivek Uttam Gosavi (Controller)
M.S. Bureau of Textbook Production,
Prabhadevi, Mumbai - 25

ریاضی مضمون کی کمیٹی

- ❖ ڈاکٹر منگلا نارلیکر (صدر)
- ❖ ڈاکٹر شریمتی جے شری اترے (رکن)
- ❖ شری رما کانت سرودے (رکن)
- ❖ شری دادا سوسرڈے (رکن)
- ❖ شری سندھیا پنچ بھائی (رکن)
- ❖ شریمتی لتا تلے کر (رکن)
- ❖ شریمتی اجولا گوڈبولے (رکن سکریٹری)

ریاضی مضمون کی مجلس عاملہ

- شری رام وینال کر
- جناب انصاری
- شریمتی سورنا دلش پانڈے
- شری گیش کولتے
- شری سریش داتے
- شری پرکاش جھینڈے
- شری شری کانت رتن پارکھی
- شری سوربہ کانت شہانے
- شری پرکاش کاپسے
- جناب سلیم ہاشمی
- شریمتی آریا بھڑے
- شری ملند بھاکرے
- شری گینا نیشور ماشالکر
- شری لکشمن داونکر
- شری سدھیر پائل
- شری راجا رام بندگر
- شری پردیپ گوڈسے
- شری رویندر کھنڈارے
- شری ساگر سکولڈے
- شریمتی پوجا جادھو
- شری پرمودھونبرے
- شری راجندر چودھری
- شری اننا پاپریٹ
- شری شری پاد دیشپانڈے
- شری ہنسی ہوالے
- شری امیش ریلے
- شری چندن کلکرنی
- شریمتی انیتا جاوے
- شریمتی باگیٹری چوبان
- شری کلیان کڑیکر
- شری سندیش سوناوے
- شری سجیت شندے
- ڈاکٹر ہنومنٹ جگتاپ
- شری پرتاپ کاشد
- شری کاشی رام بویسانے
- شری پوجا گڈے
- شریمتی روہنی شرکے

- شریمتی پراجکتی گوکھلے (مہمان رکن)
- شری وی۔دی۔گوڈبولے (مہمان رکن)
- شریمتی تروپین پوپٹ (مہمان رکن)

بھارت کا آئین

تمہید

ہم بھارت کے عوام متانت و سنجیدگی سے عزم کرتے ہیں کہ بھارت کو
ایک مقتدر سماج وادی غیر مذہبی عوامی جمہوریہ بنائیں
اور اس کے تمام شہریوں کے لیے حاصل کریں:
انصاف، سماجی، معاشی اور سیاسی؛
آزادی خیال، اظہار، عقیدہ، دین اور عبادت؛
مساوات بہ اعتبار حیثیت اور موقع،
اور ان سب میں
اُخوت کو ترقی دیں جس سے فرد کی عظمت اور قوم کے اتحاد اور
سالمیت کا تئیں ہو؛
اپنی آئین ساز اسمبلی میں آج چھبیس نومبر ۱۹۴۹ء کو یہ آئین
ذریعہ ہذا اختیار کرتے ہیں،
وضع کرتے ہیں اور اپنے آپ پر نافذ کرتے ہیں۔

راشٹر گیت

جَنَگَنَ مَنَ - اِدِه نایک جیہ ہے
بھارت - بھاگیہ ودھاتا۔

پَنجاب، سِنڈھ، گجرات، مراٹھا
دراوڑ، اُتکل، بنگ،

وَنڈھیہ، ہماچل، یَمنا، گنگا،
اُچھل جَل دھ ترنگ،
تو شہ نامے جاگے، تو شہ آسشس ماگے،
گا ہے تو جیہ گاتھا،

جَنَگَنَ منگل دایک جیہ ہے،
بھارت - بھاگیہ ودھاتا۔

جیہ ہے، جیہ ہے، جیہ ہے،
جیہ جیہ جیہ جیہ ہے۔

عہد

بھارت میرا ملک ہے۔ سب بھارتی میرے بھائی اور بہنیں ہیں۔

مجھے اپنے وطن سے پیار ہے اور میں اس کے عظیم و گونا گوں ورثے پر
فخر محسوس کرتا ہوں۔ میں ہمیشہ اس ورثے کے قابل بننے کی کوشش کروں گا۔

میں اپنے والدین، استادوں اور بزرگوں کی عزت کروں گا اور ہر ایک
سے خوش اخلاقی کا برتاؤ کروں گا۔

میں اپنے ملک اور اپنے لوگوں کے لیے خود کو وقف کرنے کی قسم کھاتا
ہوں۔ اُن کی بہتری اور خوش حالی ہی میں میری خوشی ہے۔

پیش لفظ

عزیز طلبہ!

نویں جماعت میں آپ کا استقبال ہے۔

ابتدائی تعلیم کا نصاب مکمل کر کے آپ ثانوی سطح پر مطالعہ کی ابتدا کر رہے ہو۔ آٹھویں جماعت تک ریاضی کے لیے صرف ایک درسی کتاب تھی۔ اب ریاضی حصہ I اور ریاضی حصہ II، ان کتابوں کا مطالعہ کرنا ہے۔

آٹھویں جماعت تک ریاضی کی درسی کتاب میں خط، مثلث، ذواربعۃ الاضلاع، دائرہ وغیرہ کی خصوصیت کی تصدیق کر چکے ہو۔ اب مزید کچھ خصوصیت کا آپ منطقی دلائل کے ذریعے مرحلہ وار ثابت کرنا سیکھیں گے۔ منطقی دلائل پیش کرنے کی مہارت کاروباری تمام شعبوں میں اہمیت کی حامل ہے۔ درسی کتاب میں یہ مہارت سیکھنے کا موقع ہے۔

درسی کتاب میں مذکور سرگرمیوں (عملی کام) سے متعلق اساتذہ سے، جماعت کے دوست یا سہیلیوں سے بحث و مباحثہ کیجیے اور ان سرگرمیوں پر عمل کر کے خصوصیت کے ثبوت کا مطالعہ کیجیے۔ ثبوت کے ہر مرحلے کی دی ہوئی وجوہات پر بحث و مباحثہ کیجیے اور اس خصوصیت کو سمجھ لیجیے۔ اس درسی کتاب میں اعلیٰ ریاضی کے مطالعہ کے لیے کارآمد 'علم مثلث اور محدودی علم ہندسہ' جیسی اکائیوں کو شامل کیا گیا ہے۔ اسی طرح کاروبار اور لین دین میں کارآمد و مفید 'سطح کارقبہ اور حجم' اکائیوں کا مطالعہ بھی آپ کریں گے۔

انٹرنیٹ کا استعمال کر کے مختلف عملی کام سمجھ لیجیے۔ درسی کتاب کا تفصیلی مطالعہ، عمل سے مربوط درس اور اعادہ، ان تین طریقوں سے ہی بلاشبہ ریاضی کا سفر آپ خوشی و مسرت سے مکمل کر سکیں گے۔ آئیے تو پھر اساتذہ سرپرست، دوست یا سہیلیاں اور انٹرنیٹ ان سب کو ہمراہ لے کر ریاضی کا مطالعہ کریں۔ اس مطالعہ کے لیے آپ کو نیک تمنائیں!

ڈاکٹر سنیل مگر

ڈائریکٹر

مہاراشٹر راجیہ پاٹھیہ پبلیکیشنز

واہیاس کرم سنشو دھن منڈل، پونہ

پونہ

مورخہ : ۲۸ اپریل ۲۰۱۷ء اکتیہ ترتیہ

بھارتی سنشی تاریخ : ۸/۱۰/۱۹۳۹

نویں جماعت ریاضی حصہ II نصاب سے طلبہ میں درج ذیل صلاحیتوں کا ارتقا متوقع ہے۔

متوقع صلاحیتیں	اکائی	زمرہ
<ul style="list-style-type: none"> ● دیے ہوئے بیان سے استعمال کے قابل دستیاب معلومات (دیا ہوا ہے) اور اس کی بنا پر ثابت کرنے کے لیے بیان (ثابت کرنا ہے) اسے ٹھیک ڈھنگ سے پیش کرنا۔ ● منطقی دلائل پیش کر کے ثابت کرنا ہے بیان کو ثابت کرنے کی صلاحیت کو فروغ دینا۔ 	1.1 اقلیدس	1. علم ہندسہ
<ul style="list-style-type: none"> ● متوازی خطوط اور تقاطع کے ذریعے بننے والے زاویوں کی مختلف جوڑیاں پہچاننا۔ ● زاویوں کی جوڑیوں کی خصوصیت سمجھنا اور ان کا استعمال بروقت کرنا۔ 	1.2 متوازی خطوط اور زاویوں کی جوڑیاں	
<ul style="list-style-type: none"> ● دی ہوئی معلومات، دیا ہوا ہے اور ثابت کرنا ہے کی نوعیت میں لکھ کر ثبوت دینا۔ 	1.3 مثلث کے زاویے اور ضلعوں کا مسئلہ	
<ul style="list-style-type: none"> ● متشابہ مثلثوں کو پہچاننا، ان کے اضلاع کی نسبتیں لکھنا۔ 	1.4 متشابہ مثلث	
<ul style="list-style-type: none"> ● متماثل مثلثوں کی آزمائشوں کا استعمال کر کے دائرہ کی خصوصیت ثابت کرنا۔ ● داخلی دائرہ، حائل دائرہ بنانا۔ 	1.5 دائرہ	
<ul style="list-style-type: none"> ● مثلث کی مخصوص باتیں دی ہوں تو مثلث بنانا۔ 	1.6 ہندسی عمل	
<ul style="list-style-type: none"> ● مخصوص ذواربعتہ الاضلاع کی خصوصیات کا ثبوت لکھنا۔ ● ICT Tools کی مدد سے مثلث، ذواربعتہ الاضلاع، دائرہ کی خصوصیات کی تصدیق کرنا۔ 	1.7 ذواربعتہ الاضلاع	
<ul style="list-style-type: none"> ● مستوی میں واقع ہر نقطہ سے مربوط محدودین کی مرتب جوڑی کا مطلب بتانا۔ ● محدودین کا استعمال کر کے مخصوص نقطہ کو بیان کرنا۔ ● ICT Tools کا استعمال کر کے مستوی میں نقاط کے محدودین معلوم کرنا۔ 	2.1 محدودی علم ہندسہ	2. محدودی علم ہندسہ
<ul style="list-style-type: none"> ● کرہ اور مخروط کی سطح کا رقبہ اور حجم معلوم کرنا۔ 	3.1 سطح کا رقبہ اور حجم	3. مساحت
<ul style="list-style-type: none"> ● مشابہ مثلثوں اور فیثاغورث کے مسئلہ کا استعمال کر کے مثلثیاتی نسبتیں بتانا اور ان کا استعمال کرنا۔ 	4.1 علم مثلث	4. علم مثلث

اساتذہ کے لیے ہدایات

نویں جماعت ریاضی حصہ-II کی درسی کتاب کا اساتذہ پہلے تفصیلی مطالعہ کریں۔ اس میں دی ہوئی تمام سرگرمیاں (عملی کام) اور تجربات سمجھ لیں۔ عملی کام کے دو حصے ہیں ایک ثبوت لکھنا اور دوسرا خصوصیات کا اور سیکھے ہوئے نتائج کا تجربے کے ذریعے تصدیق کرنا۔ یہ عملی کام کرنے کے لیے اور کتاب سے زیادہ تحریک دلانے کے لیے بحث و مباحثہ، سوال و جواب، اجتماعی سرگرمی جیسے مختلف طریقوں کا استعمال کرنا اساتذہ سے متوقع ہے۔ درسی کتاب کے عملی کام طلبہ سے کروائیں اور اس جیسے کئی عملی کام تیار کرنے کے لیے طلبہ کی رہنمائی کریں۔

مسئلوں کے ثبوت یاد کرنے کی بجائے ان کے منطقی دلائل پر غور کر کے ان کی پیش کش کرنا زیادہ اہم ہے۔ منطقی دلائل سے غور و فکر کی قوت کو ابھارنے کے لیے مختلف مثالیں درسی کتاب میں شامل کی گئی ہیں۔ ایسی کئی مثالیں استاد اور طالب علم مل کر بنائیں۔ فکر انگیز مثالیں درسی کتاب میں تارے کی علامت لگا کر دی ہوئی ہیں۔ طلبہ مختلف انداز سے غور کر کے منطقی دلائل کے طریقے سے کوئی ثبوت دیں، عملی کام کریں یا مثالیں حل کریں تو اساتذہ ایسے طلبہ کی حوصلہ افزائی کریں۔

قدر پیمائی کرتے وقت آزادانہ جوابی سوالات اور سرگرمی شیٹ پر بھی اساتذہ توجہ دیں۔ قدر پیمائی کے ایسے طریقے کو فروغ دینے کی اساتذہ کوشش کریں۔ اسی کے ساتھ درسی کتاب میں نمونہ کے طور پر تجربات کی فہرست دی ہوئی ہے۔ نیز دستیاب وسائل سے آپ خود انواع و اقسام کے تجربات بنا سکتے ہیں۔ اسی طرح وسائل تعلیم بھی بنائے جاسکتے ہیں۔ درسی کتاب میں مختلف عملی کام کو تجربات کے ساتھ ہم آہنگ کیا گیا ہے۔ اس پر مبنی قدر پیمائی کے طریقے کا استعمال اگلی جماعت کی صلاحیت کو فروغ دینے میں یقیناً کارآمد ہوگا۔ ہمیں ایسی امید ہے۔

نمونہ تجربات کی فہرست

1. عددی خط پر دو نقاط کے درمیان فاصلہ معلوم کرنا۔
2. متوازی خطوط اور تقاطع کے ذریعے بننے والے زاویوں کی خصوصیت کو وسائل کا استعمال کر کے جانچنا۔
3. مختلف وسائل کے ذریعے مثلث کے اضلاع اور زاویوں کی خصوصیت کی جانچ کرنا۔
4. قائمہ الزاویہ مثلث اور وسطانیہ کی خصوصیات کی تصدیق کرنا۔
5. مثلث بنانے کے لیے مثلثوں کی مختلف پیمائشیں لے کر تمام اقسام کے ہندسی عمل کرنا۔
6. مخروط کی خم دار سطح کے رقبہ کا اندازہ لگانے کے لیے ایک عملی کام دیا ہوا ہے۔ وہ عملی کام 'r' نصف قطر والے دائرہ کے لیے کرنا اور دائرہ کا رقبہ πr^2 ہے۔ اس کی تصدیق کرنا۔
7. کسی کمرے اور اس کی تمام چیزوں کی پیمائشوں کو دھیان میں رکھ کر پیمانے کے مطابق نقشہ، تریسی کاغذ پر بنانا۔
8. اسکول کے میدان پر X اور Y محور بنا کر طلبہ کے مقام کے محدودین طے کرنے کے لیے عملی کام انجام دینا۔
9. مستطیلی منشور کی جسامت کے ڈبے کا حجم ضابطے کی مدد سے معلوم کرنا اور اسی ڈبے میں لبالب پانی بھر کر پانی کا حجم ناپنا۔ دونوں جوابوں کا موازنہ کرنا اور اسی طرح کئی سہ رخ اجسام والی چیزوں کے حجم کی تصدیق کرنا۔

فہرست

ابواب	صفحات
1. علم ہندسہ کے بنیادی تصورات	1 سے 12
2. متوازی خطوط	13 سے 23
3. مثلث	24 سے 50
4. مثلث بنانا	51 سے 56
5. ذواربعتہ الاضلاع	57 سے 75
6. دائرہ	76 سے 87
7. محدودی علم ہندسہ	88 سے 99
8. علم مثلث	100 سے 113
9. سطح کا رقبہ اور حجم	114 سے 123
● جوابات کی فہرست	124 سے 128



آئیے، سیکھیں




درمیائیت

مشروط بیانات

ثبوت

نقطہ، خط اور مستوی

نقطہ کے محدد اور فاصلہ



کیا آپ نے بازو کی تصویر پہچان لی؟

مصر کے اہرام کی تصویر ہے۔ 3000 قبل مسیح

میں اتنی عظیم تعمیر پہلے کے لوگوں نے کس طرح کی ہوگی؟

فن تعمیر اور علم ہندسہ ان علوم میں ترقی ہوئے بغیر اس قسم

کی تعمیر ناممکن ہے۔

علم ہندسہ (جیومیٹری) اس کے نام سے ہی اس کے علم کی ابتدا سمجھ میں آتی ہے۔ جیومیٹری یونانی لفظ 'Geo' یعنی زمین اور Metron معنی پیمائش۔ اس بنا پر زمین کی پیمائش کی ضرورت محسوس ہونے سے اس مضمون کی ابتدا ہوئی ایسا قیاس ہے۔

کئی ممالک میں علم ہندسہ کی ترقی مختلف زمانوں اور مختلف تعمیر کے لیے ہوئی۔ ایسی کہانی مشہور ہے کہ 'تھیلیس' قدیم یونانی ریاضی داں مصر میں جا کر اہرام کے سائے کی لمبائی ناپ کر متشابہ مثلثوں کی خصوصیت کا استعمال کر کے اہرام کی اونچائی معلوم کی تھی۔ ایسا قیاس کیا جاتا ہے کہ فیثاغورث بھی تھیلیس کا شاگرد تھا۔

قدیم بھارتیوں کو بھی علم ہندسہ مضمون کا گہرا علم تھا۔ ویدک زمانہ میں بھارتی لوگ یدنیہ کنڈ کی تعمیر کے لیے علم ہندسہ کی خصوصیات کا استعمال کرتے تھے۔ دھاگے کی مدد سے کس طرح ناپا جاتا ہے اور مختلف شکل کس طرح بنا چاہیے اس بات کا ذکر شلوسٹر میں ملتا ہے۔ بعد کے زمانے میں آریہ بھٹ، وراہ میر، برہم گپت، بھاسکر اچاریہ وغیرہ ریاضی دانوں نے اس مضمون میں قیمتی اضافہ کیا۔

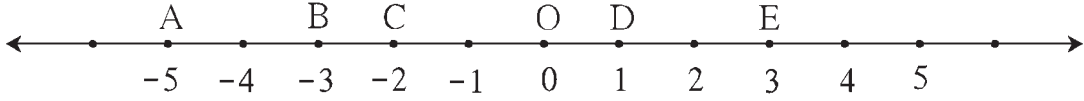
آئیے سمجھ لیں



علم ہندسہ کے بنیادی تصورات : نقطہ، خط اور مستوی۔ (Basic concept in Geometry : Point, line and Plane)

جس طرح ہم اعداد کی تعریف نہیں کرتے، اسی طرح نقطہ، خط اور مستوی کی تعریف نہیں کی جاتی۔ یہ علم ہندسہ کے بنیادی تصورات ہیں۔ خط اور مستوی نقاط کے سیٹ ہیں۔ خط یعنی مستقیم خط ہوتا ہے اسے ذہن میں رکھیے۔

ذیل کے عددی خط دیکھیے۔



شکل 1.1

یہاں نقطہ D عددی خط پر 1 ظاہر کرتا ہے۔ عدد 1 کو نقطہ D کا محدد کہتے ہیں۔ نقطہ B، عددی خط پر -3 عدد کو ظاہر کرتا ہے، اس لیے نقطہ B کا محدد -3 ہے۔ اسی طرح نقطہ A کا محدد -5 اور E کا محدد 3 ہے۔

نقطہ D سے نقطہ E، 2 اکائی فاصلہ پر واقع ہے یعنی E اور D ان دونوں نقطوں کے درمیان فاصلہ 2 اکائی ہے۔ یہاں ہم اکائی ناپ کر دونوں نقطوں کے درمیان کا فاصلہ معلوم کر سکتے ہیں۔ اس عددی خط پر نقطہ A اور B کے درمیان فاصلہ 2 اکائی ہے۔

اب نقاط کے محددین کا استعمال کر کے فاصلہ کس طرح معلوم کیا جاتا ہے، دیکھیں گے۔

دونوں نقطوں کے درمیان فاصلہ معلوم کرنا یعنی ان نقطوں کے محددین میں سے بڑے محدد سے چھوٹا محدد تفریق کرنا۔

نقطہ D کا محدد 1 ہے۔ E کا محدد 3 ہے اور ہم جانتے ہیں کہ $3 > 1$

اس لیے نقطہ E اور D کے درمیان فاصلہ $3 - 1 = 2$ یعنی 2 ہے۔

نقطہ E اور D کے درمیان فاصلہ کو $d(E, D)$ کی صورت میں لکھا جاتا ہے۔ یہ فاصلہ یعنی $l(ED)$ ، قطعہ ED کی لمبائی ہے۔

$$\begin{aligned} d(C, D) &= 1 - (-2) \\ &= 1 + 2 = 3 \\ \therefore d(C, D) &= l(CD) = 3 \\ \text{اسی طرح } d(C, D) &= 3 \end{aligned}$$

$$\begin{aligned} d(E, D) &= 3 - 1 = 2 \\ \therefore l(ED) &= 2 \\ d(E, D) &= l(ED) = 2 \\ \text{اسی طرح } d(E, D) &= 2 \end{aligned}$$

اب $d(A, B)$ معلوم کریں گے۔

نقطہ A کا محدد -5 ہے، نقطہ B کا محدد -3 ہے اور $-3 > -5$

$$\therefore d(A, B) = -3 - (-5) = -3 + 5 = 2 \quad \dots \text{ (یہ مثبت عدد ہے)}$$

اوپر دی ہوئی تمام مثالوں سے سمجھ میں آتا ہے کہ دو مختلف نقطوں کے درمیان فاصلہ مثبت عدد ہوتا ہے۔ اسی طرح اگر P، Q ایک ہی نقطہ ہو تو $d(P, Q) = 0$ اسے دھیان میں رکھیے۔



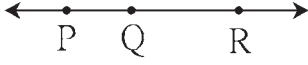
• دونوں نقطوں کے درمیان فاصلہ، ان کے محددین کے بڑے محدد میں سے چھوٹا محدد تفریق کرنے پر حاصل ہوتا ہے۔

• کسی بھی دو نقطوں کے درمیان کا فاصلہ غیر منفی حقیقی عدد ہوتا ہے۔



(Betweenness) درمیانیٹ

اگر P, Q, R ہم خطی نقاط ہوں تو ذیل میں دی ہوئی اشکال کے مطابق تین صورتیں ممکن ہو سکتی ہیں۔



شکل 1.2

(iii) نقطہ Q، نقاط P اور R کے درمیان ہے۔

(ii) نقطہ R، نقاط P اور Q کے درمیان ہے۔

(i) نقطہ P، نقاط R اور Q کے درمیان ہے۔

کے درمیان ہے۔

کے درمیان ہے۔

کے درمیان ہے۔

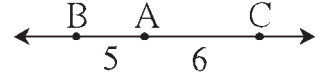
اگر $d(P, Q) + d(Q, R) = d(P, R)$ ہو تو اس طرح کہا جاتا ہے کہ نقطہ Q، نقاط P اور R کے درمیان واقع ہے اور

اسے P-Q-R سے ظاہر کیا جاتا ہے۔

مثال (1) ایک عددی خط پر B, A اور C نقاط اس طرح واقع ہیں کہ $d(A, B) = 5$ ، $d(B, C) = 11$ اور $d(A, C) = 6$ ہو تو بتائیے کون سا نقطہ دیگر دو نقاط کے درمیان واقع ہے؟

حل : یہاں B, A اور C نقاط میں سے کون سا نقطہ دیگر دو نقاط کے درمیان ہے، اسے ہم ذیل کے مطابق بتا سکتے ہیں۔

$$d(B, C) = 11 \quad \dots (I)$$



$$d(A, B) + d(A, C) = 5 + 6 = 11 \quad \dots (II)$$

شکل 1.3

$$\therefore d(B, C) = d(A, B) + d(A, C) \dots \text{ [(I) اور (II) کی رُو سے]}$$

اس لیے نقطہ A، نقاط B اور C کے درمیان واقع ہے۔

مثال (2) ایک راستے پر مستقیم خط میں U، V اور A شہر واقع ہیں۔ U اور A شہروں کے درمیان فاصلہ 215 کلومیٹر، V اور A شہر کے درمیان

فاصلہ 140 کلومیٹر اور U اور V کے درمیان فاصلہ 75 کلومیٹر ہے۔ تو بتائیے کون سا شہر کن دو شہروں کے درمیان واقع ہے؟

$$d(U, A) = 215; \quad d(V, A) = 140; \quad d(U, V) = 75 \quad \text{حل :}$$

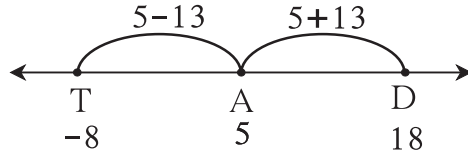
$$d(U, V) + d(V, A) = 75 + 140 = 215; \quad d(U, A) = 215$$

$$\therefore d(U, A) = d(U, V) + d(V, A)$$

اس لیے V شہر، U اور A شہروں کے درمیان واقع ہے۔

مثال (3) ایک عددی خط پر نقطہ A کا محدد 5 ہے۔ اسی عددی خط پر نقطہ A سے 13 اکائی فاصلہ پر واقع نقطہ کا محدد معلوم کیجیے۔

حل : عددی خط پر نقطہ A سے 13 اکائی فاصلہ پر شکل کے مطابق نقطہ A سے بائیں جانب نقطہ T اور دائیں جانب نقطہ D اس طرح دو نقاط لیجیے۔



شکل 1.4

نقطہ A کے بائیں جانب نقطہ T کا محدد $5 - 13 = -8$

نقطہ A کے دائیں جانب نقطہ D کا محدد $5 + 13 = 18$

اس لیے نقطہ A سے 13 اکائی فاصلہ پر واقع نقاط کے محدد -8 اور 18 ہوں گے۔

تصدیق کیجیے۔ $d(A,D) = d(A,T) = 13$

عملی کام :

• A • B • C

(1) نقاط B, A اور C ہم خطی نقاط ہیں؟ رسی کھینچ کر تصدیق کیجیے کہ

وہ ایک خط میں واقع ہوں تو کون سا نقطہ دیگر دو نقاط کے درمیان ہے۔

اسے لکھیے۔

• Q • S

(2) بازو میں دی ہوئی شکل میں P, Q, R اور S چار نقاط دیئے ہوئے

ہیں۔ ان میں سے کون سے تین نقاط ہم خطی ہیں اور کون سے تین نقاط ہم

خطی نہیں ہیں۔ جانچ کیجیے۔ جو تین نقاط ہم خطی ہیں ان کی درمیانیت

لکھیے۔

• P

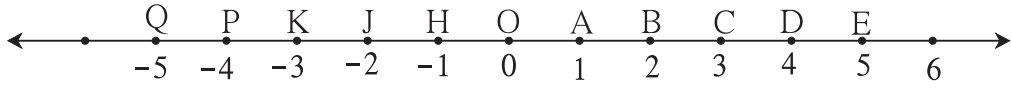
(3) قواعد کے لیے طلبہ کو قطار میں کھڑے رہنے کے لیے کہا گیا ہے۔ ہر قطار کے طلبہ مستقیم خط میں ہیں یا نہیں کیسے آزمائیں گے؟

(4) روشنی کی شعاعیں خط مستقیم میں سفر کرتی ہیں یہ آپ کیسے تصدیق کریں گے؟

گذشتہ جماعت میں آپ نے جو سائنسی تجربہ کیا ہے اسے یاد کیجیے۔

مشقی سیٹ 1.1

(1) ذیل میں دیے ہوئے عددی خط کی مدد سے ذیل کے فاصلے معلوم کیجیے۔



شکل 1.5

- (i) $d(B, E)$ (ii) $d(J, A)$ (iii) $d(P, C)$ (iv) $d(J, H)$
 (v) $d(K, O)$ (vi) $d(O, E)$ (vii) $d(P, J)$ (viii) $d(Q, B)$

(2) نقطہ A کا محور x اور نقطہ B کا محور y ہے۔ تو ذیل کے تعلق سے $d(A, B)$ معلوم کیجیے۔

- (i) $x = 1, y = 7$ (ii) $x = 6, y = -2$ (iii) $x = -3, y = 7$

- (iv) $x = -4, y = -5$ (v) $x = -3, y = -6$ (vi) $x = 4, y = -8$

(3) ذیل میں دی ہوئی معلومات کے مطابق کون سا نقطہ دیگر دو نقاط کے درمیان ہے طے کیجیے۔ دیے ہوئے نقاط غیر ہم خطی ہوں تو اسے بھی لکھیے۔

(i) $d(P, R) = 7, \quad d(P, Q) = 10, \quad d(Q, R) = 3$

(ii) $d(R, S) = 8, \quad d(S, T) = 6, \quad d(R, T) = 4$

(iii) $d(A, B) = 16, \quad d(C, A) = 9, \quad d(B, C) = 7$

(iv) $d(L, M) = 11, \quad d(M, N) = 12, \quad d(N, L) = 8$

(v) $d(X, Y) = 15, \quad d(Y, Z) = 7, \quad d(X, Z) = 8$

(vi) $d(D, E) = 5, \quad d(E, F) = 8, \quad d(D, F) = 6$

(4) ایک عددی خط پر نقاط A، B اور C اس طرح واقع ہیں کہ $d(C, B) = 8, d(A, C) = 10$ تو $d(A, B)$ معلوم کیجیے۔ تمام ممکنات پر غور کیجیے۔

(5) X، Y اور Z ہم خطی نقاط ہیں۔ $d(X, Y) = 17, d(Y, Z) = 8$ ہو تو $d(X, Z)$ معلوم کیجیے۔

(6) شکل بنا کر ذیل کے سوالات کے جوابات لکھیے۔

(i) اگر $A - B - C$ اور $l(AC) = 11, l(BC) = 6.5$ ہو تو $l(AB) = ?$

(ii) اگر $R - S - T$ اور $l(ST) = 3.7, l(RS) = 2.5$ ہو تو $l(RT) = ?$


(iii) اگر $X - Y - Z$ اور $l(XZ) = 3\sqrt{7}, l(XY) = \sqrt{7}$ ہو تو $l(YZ) = ?$

(7) تین غیر ہم خطی نقاط سے کون سی شکل بنتی ہے؟



نویں جماعت کے ریاضی حصہ 1 میں سیٹ باب میں ہم نے اجتماعی سیٹ، انقطاعی سیٹ کا مطالعہ کیا ہے۔ اس کا استعمال کر کے قطعہ خط، شعاع اور خط کی وضاحت نقاط کے سیٹ کی صورت میں کریں گے۔

(1) قطعہ خط (Line Segment) : نقطہ A اور نقطہ B اور ان دونوں نقاط کے درمیان کے



شکل 1.6

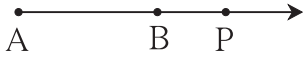
تمام نقاط کا اجتماعی سیٹ قطعہ خط AB ہوتا ہے۔

قطعہ خط AB کو مختصراً قطعہ AB لکھا جاتا ہے۔ قطعہ (AB) کو

قطعہ (BA) بھی کہتے ہیں۔ نقطہ A اور نقطہ B یہ قطعہ AB کے اختتامی نقاط ہیں۔

قطعہ خط کے اختتامی نقاط کے درمیان کے فاصلہ کو قطعہ خط کی لمبائی کہتے ہیں۔ $d(A,B) = l(AB)$ ، $l(AB) = 5$ کو $AB = 5$ بھی لکھتے ہیں۔

(2) شعاع AB (Ray AB)




شکل 1.7

فرض کیجیے A اور B دو مختلف نقاط ہیں۔ قطعہ AB پر واقع نقاط اور $A - B - P$ ایسے تمام نقاط P کا اجتماعی سیٹ شعاع AB ہے۔ یہاں نقطہ A کو شعاع AB کا مبداء کہتے ہیں۔

(3) خط AB : (Line AB)

شعاع AB کے نقاط کا سیٹ اور اس کے مخالف شعاع کے نقاط کا سیٹ مل کر جو اجتماعی سیٹ بنتا ہے وہ خط AB کے نقاط کا سیٹ ہوتا ہے۔ قطعہ AB کے نقاط کا سیٹ، خط AB کے نقاط کے سیٹ کا ضمنی سیٹ ہوتا ہے۔

(4) متماثل قطعات خط (Congruent Segments)



شکل 1.8

اگر دیے ہوئے دو قطعات کی لمبائیاں مساوی ہو تو وہ قطعات متماثل ہوتے ہیں۔

اگر $l(AB) = l(CD)$ ہو تو قطعہ $AB \cong$ قطعہ CD

(5) قطعات کی متماثلت کی خصوصیات (Properties of Congruent Segment)

(i) عکسی خصوصیت (Reflexivity) ہر قطعہ خط، خود کے متماثل ہوتا ہے۔ $AB \cong$ قطعہ AB

(ii) تشاکلی خاصیت (Symmetry) اگر $AB \cong$ قطعہ CD اور $AB \cong$ قطعہ CD ہو تو $AB \cong$ قطعہ CD

(iii) انتقالی عبوری خاصیت (Transitivity) اگر $AB \cong$ قطعہ CD اور $CD \cong$ قطعہ EF ہو تو $AB \cong$ قطعہ EF

(6) قطعہ کا وسطی نقطہ (Mid point of a Segment)

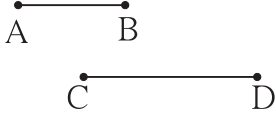


شکل 1.9

اگر $A - M - B$ اور $AM \cong$ قطعہ MB ہو تو نقطہ M،

قطعہ AB کا وسطی نقطہ کہلاتا ہے۔ ہر قطعہ خط کا ایک اور صرف ایک ہی وسطی نقطہ ہوتا ہے۔

(7) قطعات خط کا موازنہ (Comparison of Segments) :



شکل 1.10

قطعه AB کی لمبائی قطعہ CD سے کم ہو، یعنی

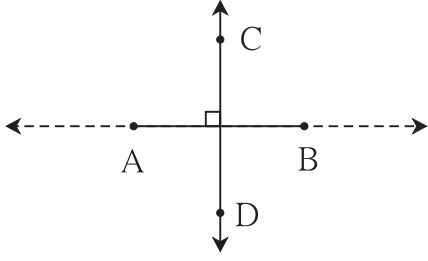
اگر $AB < CD$ قطعہ یا $l(AB) < l(CD)$ ہو تو

قطعہ $AB < CD$ قطعہ اس طرح لکھتے ہیں۔

قطعہ $AB > CD$ قطعہ بڑا پن اُن کی لمبائی پر منحصر ہوتا ہے۔

(8) قطعات یا شعاعوں کی عمودیت

(Perpendicularity of Segments or rays) :

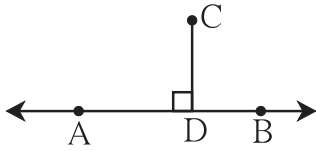


شکل 1.11

دو قطعات، دو شعاعیں یا ایک شعاع اور ایک قطعہ خط انہیں شامل کرنے والے خط اگر ایک دوسرے پر عمود ہوتے ہیں تو وہ دو قطعہ خط، وہ دو شعاعیں یا ایک شعاع اور ایک قطعہ خط ایک دوسرے پر عمود ہوتے ہیں۔

شکل 1.11 میں $AB \perp CD$ قطعہ، $AB \perp$ شعاع CD قطعہ

(9) نقطہ کا خط سے فاصلہ (Distance of a point from a line)



شکل 1.12

اگر $CD \perp AB$ قطعہ اور نقطہ D، خط AB پر واقع ہو تو CD قطعہ کی لمبائی کو نقطہ C کا خط AB سے فاصلہ کہتے ہیں۔ نقطہ D کو عمود کا پایہ (Foot) کہتے ہیں۔

اگر $l(CD) = a$ ہو تو نقطہ C، خط AB سے a فاصلہ پر ہے۔

مشقی سیٹ 1.2

1. ذیل کی جدول میں عمودی خط پر واقع نقاط کے محدود دیے ہوئے ہیں۔ اس بنا پر ذیل کے قطعہ خط متماثل ہیں یا نہیں طے کیجیے۔

نقطہ	A	B	C	D	E
محدود	-3	5	2	-7	9

(i) قطعہ DE اور AB قطعہ (ii) قطعہ AD اور BC قطعہ (iii) قطعہ AD اور BE قطعہ

2. نقطہ M، قطعہ AB کا وسطی نقطہ ہے اور $AB = 8$ ہو تو $AM = ?$

3. نقطہ P، قطعہ CD کا وسطی نقطہ ہے اور $CP = 2.5$ ہو تو قطعہ CD کی لمبائی معلوم کیجیے۔

4. اگر سم $AB = 5$ سم $BP = 2$ سم اور سم $AP = 3.4$ سم ہو تو قطعات خط کا چھوٹا بڑا پن طے کیجیے۔

(5) شکل 1.13 کی بنا پر ذیل کے سوالات کے جوابات لکھیے۔



شکل 1.13

(i) شعاع RP، کی مخالف شعاع کا نام لکھیے۔

(ii) شعاع PQ اور شعاع RP کا انقطاعی سیٹ لکھیے۔

(iii) قطعہ PQ اور قطعہ QR کا اجتماعی سیٹ لکھیے۔

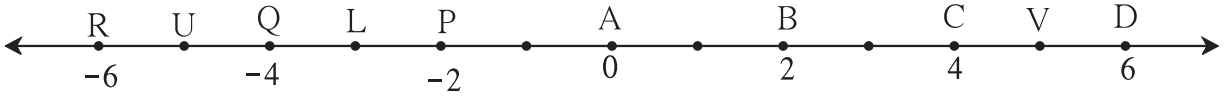
(iv) قطعہ QR کن شعاعوں کا ضمنی سیٹ ہے۔

(v) مبداء R کی دو مخالف شعاعوں کی جوڑیاں لکھیے۔

(vi) مبداء S کی کوئی دو مخالف شعاعوں کے نام لکھیے۔

(vii) شعاع SP اور شعاع ST کا انقطاعی سیٹ لکھیے۔

(6) ذیل کی شکل 1.14 کی بنا پر سوالات کے جوابات لکھیے۔



شکل 1.14

(i) نقطہ B سے ہم فاصلہ واقع نقاط کون سے ہیں۔

(ii) نقطہ Q سے ہم فاصلہ نقاط کی ایک جوڑی لکھیے۔

(iii) معلوم کیجیے۔ $d(U, L)$ ، $d(V, B)$ ، $d(P, C)$ ، $d(U, V)$

آئیے سمجھ لیں



مشروط بیان اور عکس (Conditional Statements and Converse)

جو بیان 'جب- تب' یا 'اگر- تو' کی صورت میں لکھے جاتے ہیں انہیں مشروط بیان کہتے ہیں۔ مشروط بیان میں جب سے شروع ہونے والے بیان کو

مقدم (دیا ہوا ہے) اور تب سے شروع ہونے والے بیان کو 'نتالی' (جوابی) کہتے ہیں۔

مثلاً: 'معین کے وتر ایک دوسرے کے عمودی ناصف ہوتے ہیں' یہ بیان ہے۔

مشروط بیان: جب دیا ہوا ذواربعۃ الاضلاع معین ہو تو اس کے وتر ایک دوسرے کے عمودی ناصف ہوتے ہیں۔ اگر کوئی مشروط بیان دیا گیا ہو اور اس

کے 'مقدم' اور 'نتالی' حصہ کو تبدیل کر دیا گیا ہو تو حاصل ہونے والا نیا بیان اصل بیان کا عکس بیان (Converse) کہلاتا ہے۔

کوئی مشروط بیان صحیح ہو تو ضروری نہیں کہ اس کا عکس بیان بھی صحیح ہی ہو۔ ذیل کی مثال دیکھیے۔

مشروط بیان : جب کوئی ذواربعۃ الاضلاع معین ہو تو اس کے وتر ایک دوسرے کے عمودی ناصف ہوتے ہیں۔
 عکس بیان : جب کسی ذواربعۃ الاضلاع کے وتر ایک دوسرے کے عمودی ناصف ہوں تب وہ ذواربعۃ الاضلاع معین ہوتا ہے۔
 اس مثال میں اصل بیان اور اس کے عکس دونوں صحیح ہیں۔

مشروط بیان : اگر کوئی عدد مفرد عدد ہو تو، وہ عدد جفت یا طاق ہوتا ہے۔
 عکس بیان : اگر کوئی عدد جفت یا طاق عدد ہو تو وہ مفرد عدد ہوتا ہے۔
 اس میں اصل بیان درست ہے مگر عکس بیان درست نہیں۔



ثبوت (Proofs)

ہم نے زاویہ، مثلث، ذواربعۃ الاضلاع وغیرہ شکلوں کی کئی خصوصیات کا مطالعہ کیا ہے۔ ان خصوصیات کو ہم نے تجرباتی طریقے سے سیکھا ہے۔ اس جماعت میں ہم 'علم ہندسہ' مضمون کو دوسرے نقطہ نظر سے دیکھنے والے ہیں۔ اس نقطہ نظر کا سہرا تیسری صدی قبل مسیح کے عظیم یونانی ریاضی داں اقلیدس کے سر جاتا ہے۔ علم ہندسہ کی اس زمانے میں جو معلومات تھی، اسے انھوں نے اچھے ڈھنگ سے مربوط کر کے جمع کیا۔ اس میں باضابطگی پیدا کی۔ انھوں نے خاص طور پر کچھ کلیات یا منظور بیانات کو مفروضہ (Postulate) یا تسلیم کردہ بیان کے طور پر قبول کیا، اور اس کی بنیاد پر منطقی دلائل سے نئی خصوصیت ثابت کر سکتے ہیں۔ ثابت کی ہوئی خصوصیات کو مسئلے (Theorems) کہتے ہیں۔

اقلیدس کے پیش کردہ مفروضات میں سے کچھ مفروضے ذیل میں دیے ہوئے ہیں۔



اقلیدس

- (1) ایک نقطہ سے بے شمار خطوط گزرتے ہیں۔
- (2) دو متفرق نقاط سے ایک اور صرف ایک خط گزرتا ہے۔
- (3) کسی بھی نقطہ کو مرکز مان کر دیے ہوئے نصف قطر کا دائرہ کھینچا جاسکتا ہے۔
- (4) تمام قائمہ زاویے ایک دوسرے کے متماثل ہوتے ہیں۔
- (5) دو خطوط اور ان کا ایک تقاطع ہوں تو تقاطع کے ایک جانب بننے والے داخلہ زاویوں کی جمع دو قائمہ زاویوں سے کم ہو تو وہ خط اسی سمت بڑھانے پر ایک دوسرے کو قطع کرتے ہیں۔

ان میں سے کچھ مفروضات کی ہم نے عملی طور پر تصدیق کر چکے ہیں۔

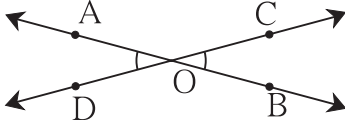
کسی خصوصیت کا منطقی ثبوت دے سکیں تو اس خصوصیت کو صحیح مان لیا جاتا ہے۔ اس کے لیے دی ہوئی منطقی دلیل کو اس خصوصیت یعنی اس مسئلہ کا ثبوت (Proof) کہتے ہیں۔

کوئی مشروط بیان صحیح ہے ایسا ہمیں ثابت کرنا ہوتا ہے اس کے مقدم حصہ کے بیان کو دیا ہوا ہے بیان کہتے ہیں۔ اور تالی حصہ کو 'ثابت کرنا ہے' کہتے ہیں۔
 ثبوت کی راست ثبوت اور بالواسطہ ثبوت اس طرح دو قسمیں ہیں۔

ایک دوسرے کو قطع کرنے والے دو خطوط سے بنے ہوئے زاویوں کی خصوصیت کا راست ثبوت دیں گے۔

خصوصیت : دو خطوط ایک دوسرے کو قطع کرتے ہیں تب متقابلہ زاویے متماثل ہوتے ہیں۔

دیا ہوا ہے : خط AB اور خط CD ایک دوسرے کو نقطہ O پر قطع کرتے ہیں۔



شکل 1.15

C - O - D , A - O - B

(i) $\angle AOC = \angle BOD$: ثابت کرنا ہے

(ii) $\angle BOC = \angle AOD$

ثبوت : (خطی جوڑی کے زاویے) ... (I) ... $\angle AOC + \angle BOC = 180^\circ$

(خطی جوڑی کے زاویے) ... (II) ... $\angle BOC + \angle BOD = 180^\circ$

[بیان (I) اور (II) کی رو سے] ... $\angle AOC + \angle BOC = \angle BOC + \angle BOD$

$\therefore \angle AOC = \angle BOD$... ($\angle BOC$ کا اخراج کر کے)

اسی طرح $\angle BOC = \angle AOD$ ثابت کیا جاسکتا ہے۔

بالواسطہ ثبوت (Indirect Proof)

اس طریقہ میں شروع میں تالی بیان غلط تسلیم کیا جاتا ہے۔ اس کے سہارے صرف منطقی دلائل اور پہلے سے قبول شدہ صحیح بیانات کے سہارے مرحلہ وار ایک نتیجہ تک پہنچتے ہیں۔ یہ نتیجہ معلوم شدہ صحیح خصوصیت یا 'تالی بیان سے، یعنی دی ہوئی معلومات کے برخلاف ہوتا ہے۔ اس لیے تالی بیان غلط ہے، ایسا سمجھنا غلط ہے ایسا نتیجہ نکالنے ہیں۔ یعنی تالی بیان صحیح ہے یہ قبول کیا جاتا ہے۔ درج ذیل مثال کا مطالعہ کیجیے۔

بیان : دو سے بڑا مفرد عدد، طاق عدد ہوتا ہے۔

مشروط بیان : اگر p ، 2 سے بڑا مفرد عدد ہو تو p طاق عدد ہوتا ہے۔

دیا ہوا ہے : اگر p ، 2 سے بڑا مفرد عدد ہے۔ یعنی p کا 1 اور p یہی دو عا د ہیں۔

ثابت کرنا ہے : p ، طاق عدد ہے۔

ثبوت : فرض کیجیے p طاق عدد نہیں ہے۔

یعنی p جفت عدد ہے۔

اس لیے 2، p کا عا د ہے۔ ... (I)

لیکن p ، 2 سے بڑا مفرد عدد ہے ... (دیا ہوا ہے)

اس لیے p کے 1 اور p یہی دو عا د ہیں۔ ... (II)

بیان (I) اور (II) سے 'دیا ہوا ہے' کے متضاد آتا ہے۔

اس لیے فرض کیا ہوا بیان غلط ہے۔

اس لیے p ، 2 سے بڑا مفرد عدد ہو تو وہ طاق عدد ہوتا ہے، ثابت ہوا۔

مشقی سیٹ 1.3

1. ذیل کے بیانات ”اگر-تب“ کی صورت میں لکھیے۔
 - (i) متوازی الاضلاع کے مقابل کے زاویے متماثل ہوتے ہیں۔
 - (ii) مستطیل کے وتر متماثل ہوتے ہیں۔
 - (iii) متساوی الساقین مثلث میں راس اور قاعدے کے وسطی نقطہ کو ملانے والا قطعہ خط قاعدے پر عمود ہوتا ہے۔
2. ذیل کے بیانات کا عکس بیان لکھیے۔
 - (i) دو متوازی خطوط اور ان کا تقاطع دیا جائے تو حاصل ہونے والے متبادلہ زاویے متماثل ہوتے ہیں۔
 - (ii) دو خطوط کو ایک تقاطع سے قطع کریں تو داخلہ زاویوں کی ایک جوڑی متمم ہو تو وہ خطوط متوازی ہوتے ہیں۔
 - (iii) مستطیل کے وتر متماثل ہوتے ہیں۔

مجموعہ سوالات 1

1. ذیل کے کثیر متبادل سوالوں کے جواب میں سے صحیح متبادل منتخب کیجیے۔
 - (i) ہر قطعہ خط کے کتنے وسطی نقاط ہوتے ہیں؟
 کئی (D) تین (C) دو (B) صرف ایک (A)
 - (ii) دو متفرق خطوط ایک دوسرے کو قطع کرتے ہیں تب ان کے انقطاعی سیٹ میں کتنے نقاط ہوتے ہیں؟
 ایک بھی نہیں (D) ایک (C) دو (B) بے شمار (A)
 - (iii) تین مختلف نقاط کو شامل کرنے والے کتنے خطوط ہوتے ہیں؟
 چھ (D) ایک یا تین (C) تین (B) دو (A)
 - (iv) نقطہ A کا محدد 2- اور نقطہ B کا محدد 5 ہو تو $d(A, B) = ?$
 (A) -2 (B) 5 (C) 7 (D) 3
 - (v) اگر $P-Q-R$ ، $d(P, Q) = 2$ ، $d(P, R) = 10$ ، $d(Q, R) = ?$ ہو تو
 (A) 12 (B) 8 (C) $\sqrt{96}$ (D) 20
2. عددی خط پر P, Q, R نقاط کے محدد بالترتیب 3, -5 اور 6 ہیں۔ تو ذیل کے بیانات صحیح ہیں یا نہیں لکھیے۔
 - (i) $d(P, Q) + d(Q, R) = d(P, R)$ (ii) $d(P, R) + d(R, Q) = d(P, Q)$
 - (iii) $d(R, P) + d(P, Q) = d(R, Q)$ (iv) $d(P, Q) - d(P, R) = d(Q, R)$
3. ذیل میں کچھ نقاط کے جوڑیوں کے محدد دیے گئے ہیں۔ اس بنا پر ہر جوڑی کے درمیان کا فاصلہ معلوم کیجیے۔
 - (i) 3, 6 (ii) -9, -1 (iii) -4, 5 (iv) 0, -2
 - (v) $x + 3, x - 3$ (vi) -25, -47 (vii) 80, -85

4. عددی خط پر نقطہ P کا محدد 7- ہے تو نقطہ P سے 8 اکائی فاصلہ پر واقع نقاط کے محدد معلوم کیجیے۔
5. دی ہوئی معلومات کے لحاظ ذیل کے سوالات کے جوابات لکھیے۔
- (i) اگر $d(A, B) = ?$ ، $d(B, C) = 6.5$ ، $d(A, C) = 17$ ، $A-B-C$ ہو تو
- (ii) اگر $d(P, R) = ?$ ، $d(Q, R) = 5.7$ ، $d(P, Q) = 3.4$ ، $P-Q-R$ ہو تو
6. عددی خط پر نقطہ A کا محدد 1 ہے نقطہ A سے 7 اکائی فاصلہ پر واقع نقاط کے محدد معلوم کیجیے۔
7. ذیل کے بیانات مشروط صورت میں لکھیے۔
- (i) ہر معین مربع ہوتا ہے۔
- (ii) خطی جوڑی کے زاویے ایک دوسرے کے متمم ہوتے ہیں۔
- (iii) مثلث تین قطعہ خط سے بنی ہوئی شکل ہوتی ہے۔
- (iv) صرف دو عا دوالے عدد کو مفرد عدد کہتے ہیں۔
8. ذیل کے بیان کے عکس بیان لکھیے۔
- (i) اگر کسی کثیر الاضلاع کے زاویوں کی پیمائشوں کا مجموعہ 180° ہو تو وہ شکل مثلث ہوتی ہے۔
- (ii) دو زاویوں کی پیمائشوں کا مجموعہ 90° ہو تو وہ ایک دوسرے کے مکملہ زاویہ ہوتے ہیں۔
- (iii) دو متوازی خطوط اور تقاطع کے قطع کرنے سے بننے والے نظیری زاویے متماثل ہوتے ہیں۔
- (iv) کسی عدد کے ہندسوں کا مجموعہ 3 سے تقسیم ہوتا ہو تو وہ عدد 3 سے تقسیم پذیر ہے۔
9. مقابل کے بیانات میں 'دیا ہوا ہے' اور 'ثابت کرنا ہے' بیان لکھیے۔
- (i) اگر مثلث کے تینوں اضلاع متماثل ہوں تو اس کے تینوں زاویے متماثل ہوتے ہیں۔
- (ii) متوازی الاضلاع کے وتر ایک دوسرے کی تنصیف کرتے ہیں۔
10. ذیل کے بیانات کے لیے نامزدہ شکل بنا کر اس بنا پر دیا ہوا ہے اور ثابت کرنا ہے، لکھیے۔
- (i) دو متساوی الاضلاع مثلث، متشابہ مثلث ہوتے ہیں۔
- (ii) اگر خطی جوڑی کے زاویے متماثل ہوں تو اس کا ہر زاویہ قائمہ زاویہ ہوتا ہے۔
- (iii) مثلث کے دو ضلعوں پر کھینچے ہوئے ارتفاع اگر متماثل ہوں تو وہ دونوں ضلعے متماثل ہوتے ہیں۔



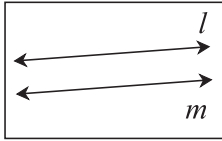


آئیے، سیکھیں

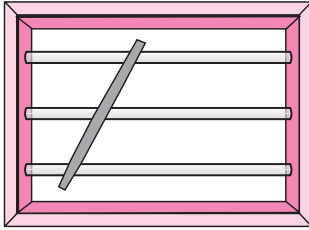


- متوازی خطوط اور تقاطع کے ذریعے بننے والے زاویوں کی خصوصیت
- متوازی خطوط کے لیے آزمائشیں

آئیے ذرا یاد کریں



متوازی خطوط : جو خطوط ایک ہی مستوی میں واقع ہوتے ہیں لیکن ایک دوسرے کو کبھی بھی قطع نہیں کرتے تو ان خطوط کو متوازی خطوط کہتے ہیں۔

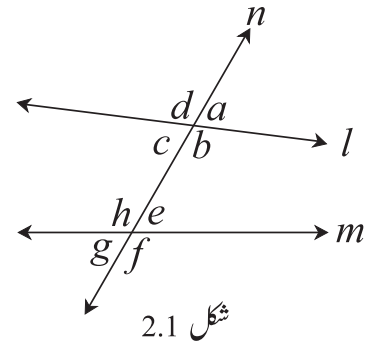


بازو کی شکل دیکھیے۔

کھڑکی کی افقی متوازی سلاخ پر ایک لکڑی ترچھی پکڑ کر دیکھیے۔ کتنے زاویے بنے ہوئے دکھائی دیتے ہیں؟

دو خطوط اور ان کے تقاطع سے بننے والے زاویوں کی جوڑیاں یاد آتی ہیں؟

شکل 2.1 میں خط l اور خط m کا خط n تقاطع ہے یہاں 8 زاویے بن جاتے ہیں۔ ان کی جوڑیاں ذیل کے مطابق ہیں۔



شکل 2.1

تقاطع کے ایک جانب کے داخلہ زاویوں کی جوڑیاں

- (i) $\angle c, \angle h$
- (ii) $\angle b, \angle e$

داخلی متبادلہ زاویوں کی جوڑیاں

- (i) $\angle c, \angle e$
- (ii) $\angle b, \angle h$

خارجی متبادلہ زاویوں کی جوڑیاں

- (i) $\angle d, \angle f$
- (ii) $\angle a, \angle g$

نظیری زاویوں کی جوڑیاں

- (i) $\angle d, \angle h$
- (ii) $\angle a, \square$
- (iii) $\angle c, \square$
- (iv) $\angle b, \square$

کچھ اہم خصوصیات :

- (1) دو خطوط ایک دوسرے کو قطع کرتے ہیں تب متقابلہ زاویے متماثل ہوتے ہیں۔
- (2) خطی جوڑی کے زاویے ایک دوسرے کے متمم ہوتے ہیں۔

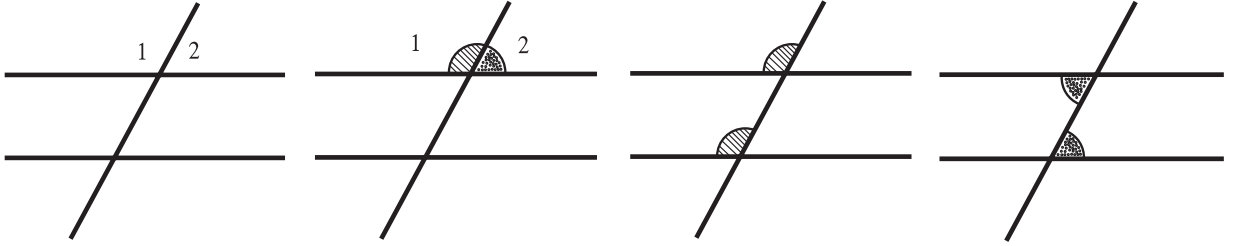
- (3) جب نظیری زاویوں کی ایک جوڑی متماثل ہوتی ہے تب نظیری زاویوں کی بقیہ تمام جوڑیاں متماثل ہوتے ہیں۔
- (4) جب متبادلہ زاویوں کی ایک جوڑی متماثل ہوتی ہے تب متبادلہ زاویوں کے دیگر تمام جوڑیاں متماثل ہوتی ہیں۔
- (5) جب خط تقاطع کے ایک ہی جانب داخلہ زاویوں کی پیمائشوں کا مجموعہ 180° ہوتا ہے تب داخلہ زاویوں کی دوسری جوڑی کے زاویوں کی پیمائشوں کا مجموعہ بھی 180° ہوتا ہے۔



متوازی خطوط کی خصوصیات (Properties of Parallel Lines)

عملی کام : دو متوازی خطوط اور تقاطع کے ذریعے بننے والے زاویوں کی خصوصیات کی تصدیق کرنا۔
عمل : رنگین موٹے کاغذ کا ایک ٹکڑا لیجیے۔ اس پر دو متوازی خطوط بنائیے اور تقاطع کھینچیے۔

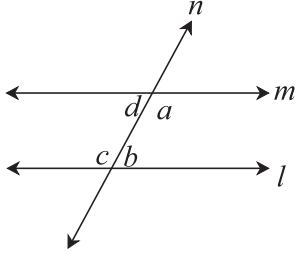
ان تینوں خطوط پر سیدھی تیلیاں گوند سے چسپاں کیجیے۔ یہاں بنے ہوئے آٹھ زاویوں میں سے زاویہ 1 اور زاویہ 2 کی پیمائشوں کے رنگین کارڈ کے ٹکڑے کاٹ کر لیجیے۔ (نیچے کی شکل میں دکھائے ہوئے طریقے کے مطابق)
یہ ٹکڑے متعلقہ نظیری زاویے، متبادلہ زاویے اور داخلہ زاویے کی جانب رکھ کر خصوصیات کی تصدیق کیجیے۔



دو متوازی خطوط کے خط تقاطع کی وجہ سے بننے والے زاویوں کی، عملی کام سے تصدیق کردہ خصوصیات کو ثابت کریں گے۔ ان خصوصیات کو ثابت کرنے کے لیے ہم اقلیدس کے موضوعات کا استعمال کریں گے۔

دو خطوط اور ان کا ایک تقاطع کھینچیں تو ایک جانب بننے والے داخلہ زاویوں کا دو قائمہ زاویوں سے کم ہوگا۔ تب وہ مستقیم خط اسی سمت میں بڑھانے پر ایک دوسرے کو قطع کرتے ہیں۔

داخلہ زاویوں کا مسئلہ (Interior angle of Theorem) :



شکل 2.2

مسئلہ : دو متوازی خطوط کو ایک تقاطع کے قطع کرنے پر، تقاطع کے کسی بھی ایک ہی جانب کے داخلہ زاویے ایک دوسرے کے متمم ہوتے ہیں۔

دیا ہوا ہے : خط $m \parallel l$ اور خط n تقاطع ہے۔ اس لیے شکل کے مطابق
 $\angle a, \angle b$ اور $\angle c, \angle d$ داخلہ زاویے ہیں۔

ثابت کرنا ہے : $\angle a + \angle b = 180^\circ$

$\angle d + \angle c = 180^\circ$

ثبوت : $\angle a$ اور $\angle b$ کی پیمائشوں کے مجموعے کے تعلق سے تین ممکنات ہو سکتے ہیں۔

(i) $\angle a + \angle b < 180^\circ$ (ii) $\angle a + \angle b > 180^\circ$ (iii) $\angle a + \angle b = 180^\circ$

ان میں سے (i) $\angle a + \angle b < 180^\circ$ کو درست فرض کرنے پر

خط l اور خط m کو $\angle a$ اور $\angle b$ تقاطع کے جس جانب ہیں انہیں اس جانب بڑھانے پر ایک دوسرے

کو قطع کریں گے۔ ... (اقلیدس کے موضوعات کے مطابق)

لیکن خط l اور خط m متوازی خطوط ہیں۔

(I) ... (یہ ناممکن ہے) $\therefore \angle a + \angle b < 180^\circ$

اب فرض کیجیے $\angle a + \angle b > 180^\circ$ یہ درست ہے۔

$\therefore \angle a + \angle b > 180^\circ$

لیکن ، $\angle a + \angle d = 180^\circ$

اور ، $\angle c + \angle b = 180^\circ$... (خطی جوڑی کے زاویے)

$\therefore \angle a + \angle d + \angle b + \angle c = 180^\circ + 180^\circ = 360^\circ$

$\therefore \angle c + \angle d = 360^\circ - (\angle a + \angle b)$

اگر $\angle a + \angle b > 180^\circ$ ہو تو $[360^\circ - (\angle a + \angle b)] < 180^\circ$

$\therefore \angle c + \angle d < 180^\circ$

اس لیے اگر یہاں $\angle c$ اور $\angle d$ ، تقاطع کے جس جانب ہیں اس سمت بڑھانے پر خط l اور خط m ایک دوسرے کو قطع کریں گے۔

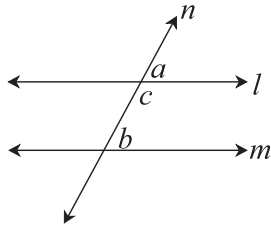
$$\therefore \angle c + \angle d < 180^\circ \quad \dots \text{ (یہ ناممکن ہے) } \dots \text{ (II)}$$

$$\angle a + \angle b > 180^\circ \quad \dots \text{ (یہ صرف ممکن ہے) } \dots \text{ [بیان (I) اور (II) کی بنا پر]}$$

$$\therefore \angle a + \angle b = 180^\circ \text{ اسی طرح } \angle c + \angle d = 180^\circ$$

دھیان میں رکھیے اس ثبوت میں ہم نے $\angle a + \angle b > 180^\circ$ ، $\angle a + \angle b < 180^\circ$ ان دونوں ممکنات کے تضاد کی وجہ سے مسترد کر دیا یعنی یہ ایک بالواسطہ ثبوت ہے۔

(Corresponding angles and Alternate Angles Theorem) نظیری زاویوں اور متبادلہ زاویوں کی خصوصیت



شکل 2.3

مسئلہ : دو متوازی خطوط اور ایک تقاطع کے ذریعے بننے والے نظیری زاویوں کی جوڑیوں کے زاویوں کی پیمائش مساوی ہوتی ہیں۔

دیا ہوا ہے : خط $m \parallel$ خط l اور خط n تقاطع ہے۔

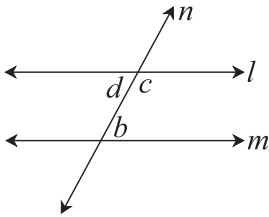
ثابت کرنا ہے : $\angle a = \angle b$

$$\angle a + \angle c = 180^\circ \quad \dots \text{ (خطی جوڑی کے زاویے) } \dots \text{ (I)}$$

$$\angle b + \angle c = 180^\circ \quad \dots \text{ (متوازی خطوط کے داخلہ زاویوں کی خصوصیت) } \dots \text{ (II)}$$

$$\angle a + \angle c = \angle b + \angle c \quad \dots \text{ [بیان (I) اور (II) کی بناء پر]}$$

$$\therefore \angle a = \angle b$$



شکل 2.4

مسئلہ : دو متوازی خطوط کو ایک تقاطع کرتا ہے تو بننے والے متبادلہ زاویوں کی جوڑی کے زاویوں کی پیمائش مساوی ہوتی ہیں۔

دیا ہوا ہے : خط $m \parallel$ خط l ، خط n ، تقاطع ہے۔

ثابت کرنا ہے : $\angle d = \angle b$

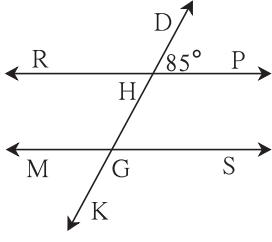
$$\angle d + \angle c = 180^\circ \quad \dots \text{ (خطی جوڑی کے زاویے) } \dots \text{ (I)}$$

$$\angle c + \angle b = 180^\circ \quad \dots \text{ (متوازی خطوط کے داخلہ زاویوں کی خصوصیت) } \dots \text{ (II)}$$

$$\angle d + \angle c = \angle c + \angle b \quad \dots \text{ [بیان (I) اور (II) کی بناء پر]}$$

$$\therefore \angle d = \angle b$$

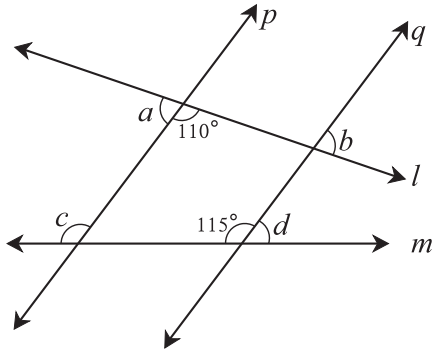
مشقی سیٹ 2.1



شکل 2.5

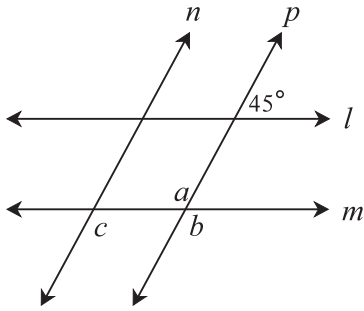
1. شکل 2.5 میں $MS \parallel RP$ خط اور خط DK ان کا تقاطع ہے
 $m\angle DHP = 85^\circ$ ، ہو تو ذیل کے زاویوں کی پیمائش معلوم کیجیے۔

- (i) $\angle RHD$ (ii) $\angle PHG$
 (iii) $\angle HGS$ (iv) $\angle MGK$



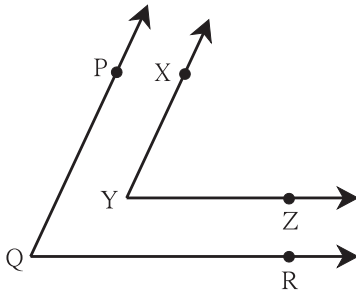
شکل 2.6

2. شکل 2.6 کا مشاہدہ کیجیے۔ خط $q \parallel p$ خط اور خط l اور خط m تقاطع ہیں۔ کچھ زاویوں کی پیمائش دی ہوئی ہیں۔ اس معلومات کی بناء پر $\angle a$ ، $\angle b$ ، $\angle c$ اور $\angle d$ کی پیمائش معلوم کیجیے۔



شکل 2.7

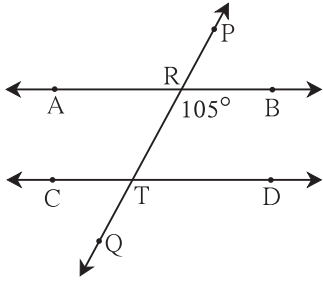
3. شکل 2.7 میں، خط $m \parallel l$ اور خط $p \parallel n$ خط ہے۔ ایک زاویے کی دی ہوئی پیمائش کی بناء پر $\angle a$ ، $\angle b$ ، $\angle c$ کی پیمائش معلوم کیجیے۔



شکل 2.8

4* شکل 2.8 میں $\angle PQR$ اور $\angle XYZ$ کی ساقین ایک دوسرے کے متوازی ہیں۔

تو ثابت کیجیے کہ $\angle PQR \cong \angle XYZ$



شکل 2.9

5. شکل 2.9 میں $CD \parallel AB$ خط اور خط PQ تقاطع ہوتو شکل میں دی ہوئی زاویہ کی پیمائش کی بناء پر ذیل کے زاویوں کی پیمائش معلوم کیجیے۔

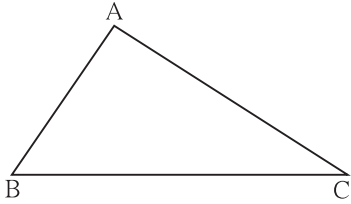
(i) $\angle ART$ (ii) $\angle CTQ$

(iii) $\angle DTQ$ (iv) $\angle PRB$



متوازی خطوط کے خصوصیات کا استعمال

متوازی خطوط اور ان کے تقاطع کے ذریعے بننے والے زاویوں کی خصوصیات کا استعمال کر کے مثلث کی ایک خصوصیت ثابت کریں گے۔



شکل 2.10

مسئلہ : کسی بھی مثلث کے تمام زاویوں کی پیمائشوں کا مجموعہ 180° ہوتا ہے۔
دیا ہوا ہے : $\triangle ABC$ ، ایک مثلث ہے۔

ثابت کرنا ہے : $\angle ABC + \angle ACB + \angle BAC = 180^\circ$

عمل : نقطہ A سے، قطعہ BC کے متوازی خط l کھینچیے۔

اس پر نقاط P اور Q اس طرح لیجیے کہ $P-A-Q$

ثبوت : BC قطعہ $PQ \parallel$ خط اور خط AB تقاطع ہے۔

$\angle ABC = \angle PAB$... (I) (متبادلہ زاویے)

BC قطعہ $PQ \parallel$ خط اور خط AC تقاطع ہے۔

$\therefore \angle ACB = \angle QAC$... (II) ... (متبادلہ زاویے)

بیان (I) اور (II) کی بناء پر،

$\angle ABC + \angle ACB = \angle PAB + \angle QAC$... (III)

مساوات (III) کے طرفین میں $\angle BAC$ جمع کرنے پر

$\angle ABC + \angle ACB + \angle BAC = \angle PAB + \angle QAC + \angle BAC$

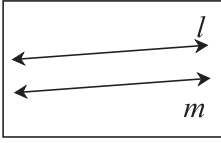
$= \angle PAB + \angle BAC + \angle QAC$

$= \angle PAC + \angle QAC$... ($\because \angle PAB + \angle BAC = \angle PAC$)

$= 180^\circ$... (خطی جوڑی کے زاویے)

یعنی مثلث کے تینوں زاویوں کی پیمائشوں کا مجموعہ 180° ہوتا ہے۔

آئیے، بحث کریں



شکل 2.12

بازو کی مستوی میں کیا خط l اور خط m ایک دوسرے کے متوازی ہیں؟ کس طرح طے کریں گے؟

آئیے سمجھ لیں



متوازی خطوط کے لیے آزمائشیں (Tests for parallel lines)

دو خطوط اور ان کے تقاطع کے ذریعے بننے والے زاویوں کی جانچ کر کے ہم طے کر سکتے ہیں کہ وہ دونوں خطوط متوازی ہیں یا نہیں۔

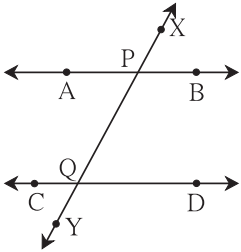
(i) تقاطع کے ایک جانب کے داخلہ زاویوں کی جوڑی متمم زاویوں کی ہو تو وہ خطوط متوازی ہوتے ہیں۔

(ii) متبادلہ زاویوں کی ایک جوڑی مساوی پیمائشوں کی ہو تو وہ خطوط متوازی ہوتے ہیں۔

(iii) نظیری زاویوں کی ایک جوڑی کی پیمائش مساوی ہو تو وہ خطوط متوازی ہوتے ہیں۔

متوازی خطوط کے داخلہ زاویوں کی آزمائش (Interior angles test)

مسئلہ : دو متفرق خطوط کو ایک تقاطع کرتا ہے اور تقاطع کے ایک جانب کے داخلہ زاویوں کی پیمائشوں کا مجموعہ 180° ہو تو وہ خطوط متوازی ہوتے ہیں۔



شکل 2.13

دیا ہوا ہے : خط AB اور خط CD کا خط XY تقاطع ہے۔

$$\angle BPQ + \angle PQD = 180^\circ$$

ثابت کرنا ہے : خط $AB \parallel$ خط CD

ثبوت : یہ آزمائش ہم بالواسطہ طریقے سے ثابت کریں گے۔

فرض کیجیے۔ 'ثابت کرنا ہے' بیان غلط ہے۔

اس لیے خط AB اور خط CD متوازی نہیں ہیں۔

(فرض کیجیے یہ بیان صحیح ہے)

فرض کیجیے خط AB اور خط CD ایک دوسرے کو نقطہ T پر تقاطع کرتے ہیں۔

اس لیے $\triangle PQT$ بنتا ہے۔

$$\angle TPQ + \angle PQT + \angle PTQ = 180^\circ \quad \dots \text{ (مثلث کے زاویوں کا مجموعہ)}$$

$$\angle TPQ + \angle PQT = 180^\circ \quad \dots \text{ (دیا ہوا ہے)}$$

اس وجہ سے مثلث کے دوزاویوں کی پیمائشوں کا مجموعہ 180° ہے۔

لیکن مثلث کے تین زاویوں کی پیمائشوں کا مجموعہ 180° ہوتا ہے۔

$$\therefore \angle PTQ = 0^\circ \text{ حاصل ہوتا ہے۔}$$

اس لیے خط PT اور خط QT، یعنی خط AB اور خط CD مختلف خطوط نہیں ہیں۔ ہمیں خط AB اور خط CD مختلف خطوط ہیں ایسا دیا ہوا ہے۔ یعنی 'دیا ہوا ہے' کے متضاد ہے۔

اس لیے ہمارا مفروضہ بیان غلط ہے۔ یعنی خط AB اور خط CD متوازی ہیں۔

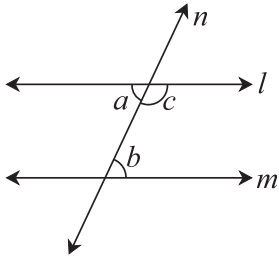
اس بناء پر دو خطوط کو ایک تقاطع سے قطع کیا جائے تو ایک جانب حاصل ہونے والے داخلہ زاویوں کی جوڑی متمم ہوتی ہے وہ خطوط متوازی ہوتے ہیں۔ یہ

ثابت ہو جاتا ہے۔ اس خصوصیت کو متوازی خطوط کے داخلہ زاویوں کی خصوصیت کہتے ہیں۔

اب ہم اس خصوصیت کو مفروضہ کے طور پر مان کر دیگر دو آزمائشیں ثابت کریں گے۔

متبادلہ زاویوں کی آزمائش (Alternate angles test) :

مسئلہ : دو خطوط کو ایک تقاطع کرتا ہے تو بننے والے متبادلہ زاویوں کی ایک جوڑی کی پیمائش مساوی ہوتی ہے وہ خطوط متوازی ہوتے ہیں۔



شکل 2.15

دیا ہوا ہے : خط l اور خط m کا خط n تقاطع ہے۔

$\angle a$ اور $\angle b$ متبادلہ زاویوں کی ایک جوڑی متماثل ہے۔

$$\therefore \angle a = \angle b$$

ثابت کرنا ہے : خط $l \parallel m$

ثبوت : (خطی جوڑی کے زاویے) ... $\angle a + \angle c = 180^\circ$

$$\angle a = \angle b \quad \dots \text{(دیا ہوا ہے)}$$

$$\therefore \angle b + \angle c = 180^\circ$$

لیکن $\angle b$ اور $\angle c$ یہ تقاطع کے ایک جانب کے داخلہ زاویے ہیں

(داخلہ زاویے کی آزمائش کی بنا پر) ... خط $m \parallel l$ خط

اس خصوصیت کو متوازی خطوط کے متبادلہ زاویوں کی آزمائش کہتے ہیں۔

نظیری زاویوں کی آزمائش (Corresponding angles Test)

مسئلہ : دو خطوط کو ایک تقاطع سے قطع کیا جائے تو بننے والے نظیری زاویوں کی ایک جوڑی متماثل ہو تو وہ متوازی خطوط ہوتے ہیں۔

دیا ہوا ہے : خطوط l اور m ان کا خط n تقاطع ہے۔ $\angle a$ اور $\angle b$ نظیری زاویوں کی جوڑی ہے۔

$$\therefore \angle a = \angle b$$

ثابت کرنا ہے : خط $l \parallel m$

ثبوت : (خطی جوڑی کے زاویے) ... $\angle a + \angle c = 180^\circ$

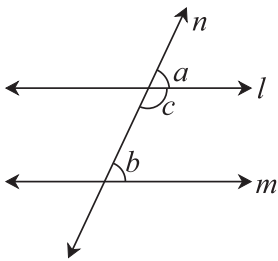
$$\angle a = \angle b \quad \dots \text{(دیا ہوا ہے)}$$

$$\therefore \angle b + \angle c = 180^\circ$$

یعنی تقاطع کے ایک جانب کے داخلہ زاویے متمم ہوتے ہیں۔

(داخلہ زاویے کی آزمائش) ... خط $m \parallel l$ خط

اس خصوصیت کو متوازی خطوط کے نظیری زاویوں کی آزمائش کہتے ہیں۔



شکل 2.16

نتیجہ صریح 1 : اگر ایک مستوی میں دو خطوط ایک خط پر عمود ہوں تو وہ دونوں خطوط ایک

دوسرے کے متوازی ہوتے ہیں۔

دیا ہوا ہے : $l \perp n$ خط اور $m \perp n$ خط

ثابت کرنا ہے : $l \parallel m$ خط

ثبوت : (دیا ہوا ہے) ... $l \perp n$ خط اور $m \perp n$ خط

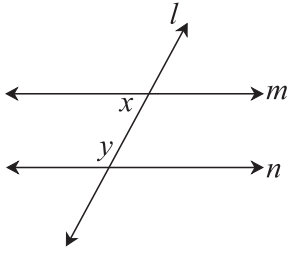
$$\therefore \angle a = \angle c = 90^\circ$$

$\angle a$ اور $\angle c$ ، یہ خط l اور خط m کے خط n تقاطع کی وجہ سے بنے ہوئے نظیری زاویے ہیں۔

(متوازی خطوط کے نظیری زاویوں کی آزمائش) ... \therefore خط $l \parallel$ خط m

نتیجہ صریح II : ثابت کیجیے اگر ایک مستوی میں دو خطوط اسی مستوی میں واقع ایک تیسرے خط کے متوازی ہوں تو وہ خطوط ایک دوسرے کے متوازی ہوتے ہیں۔

مشقی سیٹ 2.2

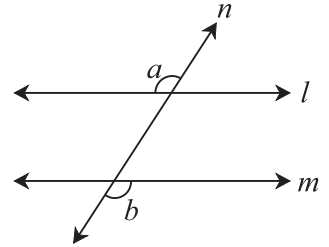


شکل 2.18

1. شکل 2.18 میں $y = 108^\circ$ اور $x = 71^\circ$ ہو تو بتائیے کیا خط m اور خط n

متوازی ہیں؟ وجہ لکھیے۔

2. شکل 2.19 میں اگر $\angle a \cong \angle b$ ہو تو ثابت کیجیے خط $l \parallel$ خط m

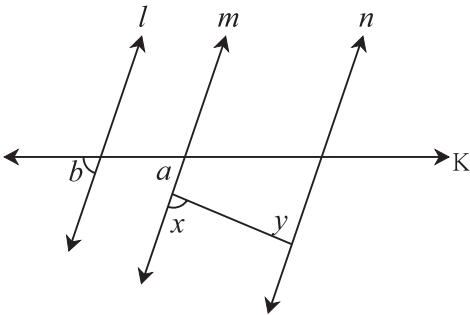


شکل 2.19

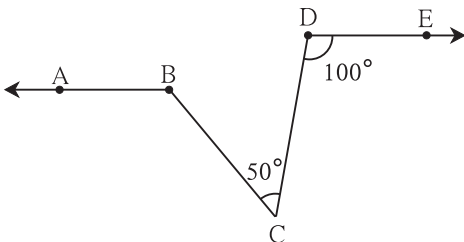
3. شکل 2.20 میں اگر $\angle a \cong \angle b$ اور $\angle x \cong \angle y$ ہو تو

ثابت کیجیے خط $l \parallel$ خط n

شکل 2.20



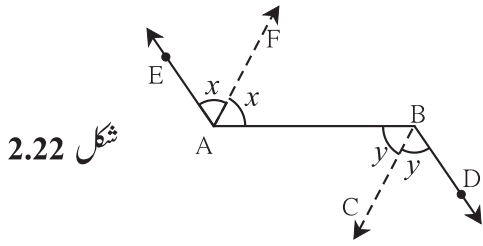
شکل 2.21



4. شکل 2.21 میں اگر شعاع $DE \parallel$ شعاع BA ، $\angle C = 50^\circ$

اور $\angle D = 100^\circ$ ہو تو $\angle ABC$ کی پیمائش معلوم کیجیے۔

(ہدایت : نقطہ C سے خط AB کے متوازی خط کھینچیے)



شکل 2.22

5. شکل 2.22 میں BD شعاع \parallel AE شعاع، شعاع AF، یہ

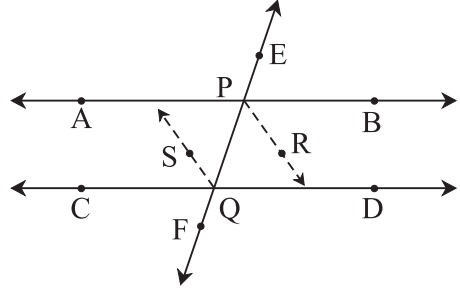
$\angle EAB$ کی اور شعاع BC، یہ $\angle ABD$ کی ناصف ہیں۔ تو ثابت

کیجیے کہ خط $BC \parallel$ خط AF

6. خط AB اور خط CD کو خط EF بالترتیب P اور Q نقاط پر قطع

کرتا ہے۔ شعاع PR اور شعاع QS یہ متوازی شعاعیں ہیں جو بالترتیب $\angle BPQ$ اور $\angle PQC$ کی ناصف ہیں۔ تو ثابت کیجیے۔

کہ خط $AB \parallel$ خط CD



شکل 2.23

مجموعہ سوالات 2

1. ذیل کے بیانات کی خالی جگہوں کو پر کرنے کے لیے دیے ہوئے متبادلات میں سے صحیح متبادل کا انتخاب کیجیے۔

(i) دو متوازی خطوط کو ایک تقاطع کرتا ہو تو تقاطع کے ایک ہی جانب کے داخلہ زاویوں کی پیمائشوں کا مجموعہ ہوتا ہے۔

(A) 0° (B) 90° (C) 180° (D) 360°

(ii) دو خطوط کو ایک تقاطع سے قطع کرتے ہیں تو زاویے بنتے ہیں۔

(A) 2 (B) 4 (C) 8 (D) 16

(iii) دو متوازی خطوط کو ایک تقاطع سے قطع کرتے ہوں تو بننے والے زاویوں میں سے ایک زاویہ کی پیمائش 40° ہو تو اس کے نظیری زاویہ کی پیمائش

..... ہے۔

(A) 40° (B) 140° (C) 50° (D) 180°

(iv) $\triangle ABC$ میں، $\angle A = 76^\circ$ ، $\angle B = 48^\circ$ ہو تو $\angle C$ کی پیمائش ہے۔

(A) 66° (B) 56° (C) 124° (D) 28°

(v) دو متوازی خطوط کو ایک تقاطع سے قطع کرنے پر بننے والے متبادلہ زاویوں کی جوڑی میں ایک زاویہ کی پیمائش 75° ہو تو دوسرے زاویے کی پیمائش

..... ہے۔

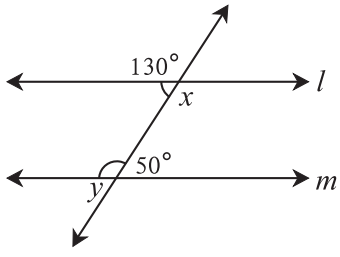
(A) 105° (B) 15° (C) 75° (D) 45°

*2. شعاع PQ اور شعاع PR ایک دوسرے پر عمود ہیں۔ نقطہ B، یہ $\angle QPR$ کے اندرون میں اور نقطہ A، $\angle RPQ$ کے بیرون میں واقع ہے۔

شعاع PA اور شعاع PB ایک دوسرے پر عمود ہیں۔ اس بناء پر شکل بنائیے اور ذیل کے زاویوں کی جوڑیاں لکھیے۔

(i) متماثل زاویے (ii) متمم زاویے (iii) مکملہ زاویے

3. اگر ایک خط، ایک مستوی میں دو متوازی خطوط میں سے ایک خط پر عمود ہو تب وہ دوسرے خط پر بھی عمود ہوتا ہے۔ یہ ثابت کیجیے۔



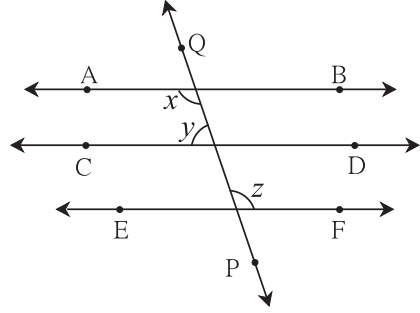
شکل 2.24

4. شکل 2.24 میں دکھائے ہوئے کے مطابق زاویوں کی پیمائش کی مدد سے

$\angle x$ اور $\angle y$ کی قیمتیں معلوم کیجیے اور ثابت کیجیے کہ خط $m \parallel l$ خط

5. شکل 2.25 میں $EF \parallel CD \parallel AB$ خط اور خط QP ان کا

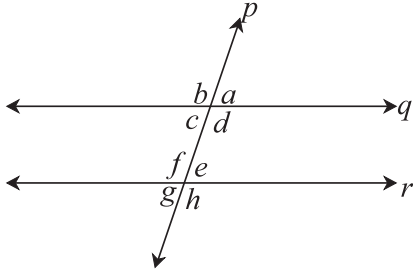
تقاطع ہے۔ اگر $y : z = 3 : 7$ ہو تو x کی قیمت معلوم کیجیے۔



شکل 2.25

6. شکل 2.26 میں، اگر $r \parallel q$ خط، خط p ان کا تقاطع ہے اور

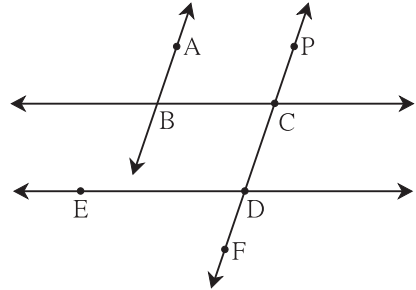
$a = 80^\circ$ ہو تو f اور g کی قیمتیں معلوم کیجیے۔



شکل 2.26

7. شکل 2.27 میں اگر $CF \parallel AB$ خط اور $ED \parallel BC$ خط ہو تو

ثابت کیجیے کہ $\angle ABC \cong \angle FDE$



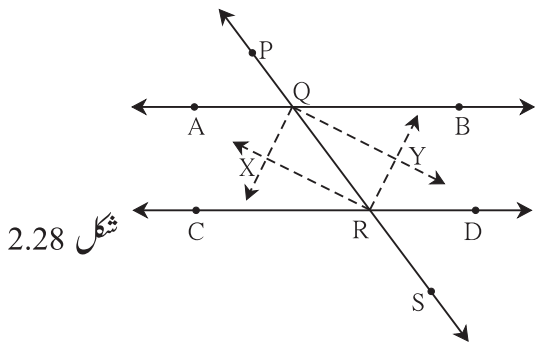
شکل 2.27

8. شکل 2.28 میں $CD \parallel AB$ خط اور خط PS ان کا تقاطع

ہے۔ شعاع QX ، شعاع QY ، شعاع RX اور شعاع

RY زاویوں کی ناصف ہوں تو دکھائیے کہ $\square QXRY$ ایک

مستطیل ہے۔



شکل 2.28





مثلث Triangle

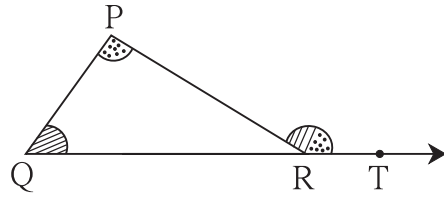
3

آئیے، سیکھیں



- مثلث کے بعید داخلہ زاویوں کا مسئلہ
- مثلثوں کی متماثلت
- متساوی الساقین مثلث کا مسئلہ
- $30^\circ-60^\circ-90^\circ$ پیمائش کے مثلث کی خصوصیت
- مثلث کا وسطانیہ
- قائمہ الزاویہ مثلث کے وتر پر کھینچے گئے وسطانیہ کی خصوصیت
- عمودی ناصف کا مسئلہ
- زاویے کے ناصف کا مسئلہ
- متشابه مثلث

عملی کام : ایک موٹی دفنی پر کسی بھی پیمائش کا $\triangle PQR$ بنائیے۔ شکل کے مطابق شعاع QR پر نقطہ T لیجیے۔ رنگین موٹے کارڈ شیٹ کے $\angle P$ اور $\angle Q$ کی پیمائش کے ٹکڑے کاٹ لیجیے۔ ان ٹکڑوں کو $\angle PRT$ میں رکھ کر دیکھیے۔ وہ مکمل طور پر سما جاتا ہے۔



شکل 3.1

آئیے سمجھ لیں



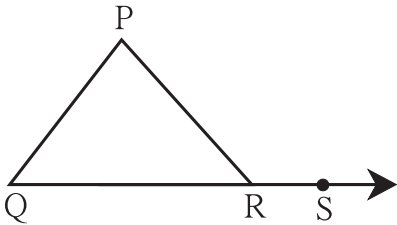
مثلث کے بعید داخلہ زاویوں کا مسئلہ (Theorem of Remote Interior angles of a Triangle)

مسئلہ : مثلث کے ایک خارجہ زاویہ کی پیمائش، اس کے بعید داخلہ زاویوں کی پیمائشوں کے مجموعے کے مساوی ہوتی ہے۔

دیا ہوا ہے : $\triangle PQR$ کا $\angle PRS$ کا خارجہ زاویہ ہے۔

ثابت کرنا ہے : $\angle PRS = \angle PQR + \angle QPR$

ثبوت : مثلث کے تینوں زاویوں کی پیمائشوں کا مجموعہ 180° ہوتا ہے۔



شکل 3.2

$$\therefore \angle PQR + \angle QPR + \angle PRQ = 180^\circ \quad \dots (I)$$

$$\angle PRQ + \angle PRS = 180^\circ \quad \dots (II) \text{ (خطی جوڑی کے زاویے)}$$

اس لیے بیان (I) اور (II) کی بناء پر

$$\angle PQR + \angle QPR + \angle PRQ = \angle PRQ + \angle PRS$$

$$\therefore \angle PQR + \angle QPR = \angle PRS \quad \dots \text{ (} \angle PRQ \text{ کا اخراج کرنے سے)}$$

لہذا مثلث کے ایک خارجہ زاویہ کی پیمائش، اس کے بعید داخلہ زاویوں کی پیمائشوں کے مجموعے

کے مساوی ہوتی ہے۔



شکل 3.2 میں نقطہ R سے قطعہ PQ کے متوازی خط کھینچ کر کیا اس مسئلہ کا کوئی دوسرا ثبوت دے سکتے ہیں؟



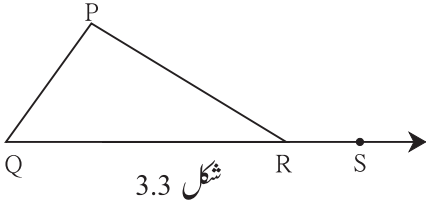
(Property of an Exterior angle of a Triangle) مثلث کے خارجہ زاویہ کی خصوصیت

a اور b ان دو اعداد کا مجموعہ (a + b)، عدد a سے بڑا اور b سے بھی بڑا ہوتا ہے۔ یعنی $a + b > a$ ، $a + b > b$

اس کا استعمال کر کے مثلث کے خارجہ زاویہ کی درج ذیل خصوصیت حاصل ہوتی ہے۔

$\triangle PQR$ کا، $\angle PRS$ خارجہ زاویہ ہو تو $\angle PRS > \angle P$ ، $\angle PRS > \angle Q$

∴ مثلث کا خارجہ زاویہ، اس کے ہر بعید داخلہ زاویہ سے بڑا ہوتا ہے۔



شکل 3.3

حل کردہ مثالیں :

مثال (1) : ایک مثلث کے زاویوں کی پیمائشوں کی نسبت 5 : 6 : 7 ہے۔ تو اس کے تمام زاویوں کی پیمائشیں معلوم کیجیے۔

حل : فرض کیجیے مثلث کے زاویوں کی پیمائشیں $5x$ ، $6x$ اور $7x$ ہیں۔

$$5x + 6x + 7x = 180^\circ$$

$$18x = 180^\circ$$

$$x = 10^\circ$$

$$5x = 5 \times 10 = 50^\circ, \quad 6x = 6 \times 10 = 60^\circ, \quad 7x = 7 \times 10 = 70^\circ$$

مثلث کے زاویوں کی پیمائشیں بالترتیب 50° ، 60° اور 70° ہیں۔

مثال (2) : بازو کی شکل 3.4 کا مشاہدہ کر کے $\angle PRS$ اور $\angle RTS$ کی پیمائشیں معلوم کیجیے۔

حل : $\triangle PQR$ کا خارجہ زاویہ $\angle PRS$ ہے۔

بعید داخلہ زاویوں کے مسئلہ کی رؤ سے،

$$\angle PRS = \angle PQR + \angle QPR$$

$$= 40^\circ + 30^\circ$$

$$\angle PRS = 70^\circ$$

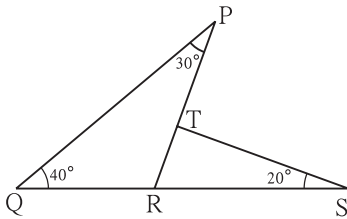
اب $\triangle RTS$ میں

$$\angle TRS + \angle RTS + \angle TSR = \square \dots \text{ (مثلث کے تینوں زاویوں کی پیمائشوں کا مجموعہ)}$$

$$\therefore \square + \angle RTS + \square = 180^\circ$$

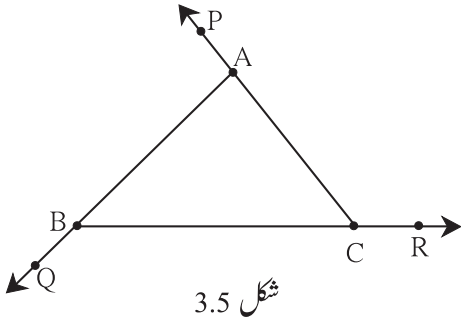
$$\therefore \angle RTS + 90^\circ = 180^\circ$$

$$\therefore \angle RTS = \square$$



شکل 3.4

مثال (3) : ثابت کیجیے کہ مثلث کے اضلاع ایک ہی سمت میں بڑھانے سے بننے والے خارجہ زاویوں کی پیمائشوں کا مجموعہ 360° ہوتا ہے۔



دیا ہوا ہے : $\angle PAB$ ، $\angle QBC$ اور $\angle ACR$ یہ تینوں $\triangle ABC$ کے خارجہ زاویے ہیں۔

ثابت کرنا ہے : $\angle PAB + \angle QBC + \angle ACR = 360^\circ$

ثبوت : اس مثال کا ثبوت ہم دو طریقوں سے دے سکتے ہیں۔

طریقہ (I)

$\triangle ABC$ میں اگر $\angle PAB$ خارجہ زاویہ ہو تو اس کے تعلق سے $\angle ABC$ اور

$\angle ACB$ بعید داخلہ زاویے ہیں۔

$$\angle BAP = \angle ABC + \angle ACB \quad \dots (I)$$

اسی طرح

$$\angle ACR = \angle ABC + \angle BAC \quad \dots (II) \quad \dots (\text{بعید داخلہ زاویے})$$

$$\text{اور , } \angle CBQ = \angle BAC + \angle ACB \quad \dots (III)$$

مساوات (I)، (II)، (III) کے طرفین کی جمع کرنے پر

$$\angle BAP + \angle ACR + \angle CBQ$$

$$= \angle ABC + \angle ACB + \angle ABC + \angle BAC + \angle BAC + \angle ACB$$

$$= 2\angle ABC + 2\angle ACB + 2\angle BAC$$

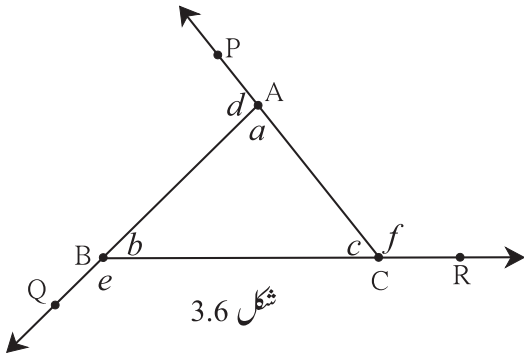
$$= 2(\angle ABC + \angle ACB + \angle BAC)$$

$$= 2 \times 180^\circ$$

$$= 360^\circ$$

(مثلث کے داخلہ زاویوں کی پیمائشوں کا مجموعہ) ...

طریقہ (II)



$$\angle c + \angle f = 180^\circ \quad \dots (\text{خطی جوڑی کے زاویے})$$

$$\angle a + \angle d = 180^\circ \quad \text{اسی طرح،}$$

$$\angle b + \angle e = 180^\circ \quad \text{اور}$$

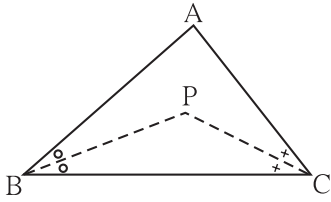
$$\therefore \angle c + \angle f + \angle a + \angle d + \angle b + \angle e = 180^\circ \times 3 = 540^\circ$$

$$\angle f + \angle d + \angle e + (\angle a + \angle b + \angle c) = 540^\circ$$

$$\therefore \angle f + \angle d + \angle e + 180^\circ = 540^\circ$$

$$\therefore f + d + e = 540^\circ - 180^\circ$$

$$= 360^\circ$$



شکل 3.7

مثال (4) : شکل 3.7 میں $\triangle ABC$ کے $\angle B$ اور $\angle C$ کے ناصف

اگر نقطہ P پر قطع کرتے ہوں تو

$$\angle BPC = 90 + \frac{1}{2} \angle BAC$$

ثابت کیجیے کہ

ثبوت : $\triangle ABC$ میں،

$$\angle BAC + \angle ABC + \angle ACB = \square$$

(مثلاً کے زاویوں کی پیمائشوں کا مجموعہ) ..

$$\therefore \frac{1}{2} \angle BAC + \frac{1}{2} \angle ABC + \frac{1}{2} \angle ACB = \frac{1}{2} \times \square$$

(طرفین کو $\frac{1}{2}$ سے ضرب کرنے پر) ...

$$\therefore \frac{1}{2} \angle BAC + \angle PBC + \angle PCB = 90^\circ$$

$$\therefore \angle PBC + \angle PCB = 90^\circ - \frac{1}{2} \angle BAC \quad \dots (I)$$

میں $\triangle BPC$

$$\angle BPC + \angle PBC + \angle PCB = 180^\circ$$

(مثلاً کے داخلہ زاویوں کی پیمائشوں کا مجموعہ) ...

$$\therefore \angle BPC + \square = 180^\circ$$

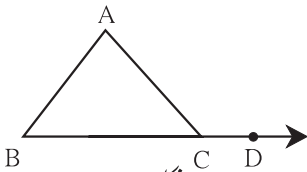
[بیان (I) کی بناء پر] ...

$$\therefore \angle BPC = 180^\circ - \left(90^\circ - \frac{1}{2} \angle BAC\right)$$

$$\therefore = 180^\circ - 90^\circ + \frac{1}{2} \angle BAC$$

$$= 90^\circ + \frac{1}{2} \angle BAC$$

مشقی سیٹ 3.1



شکل 3.8

1. شکل 3.8 میں $\triangle ABC$ کا خارجہ زاویہ ہے۔ $\angle B = 40^\circ$ ،

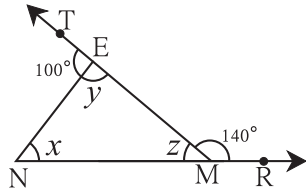
$\angle A = 70^\circ$ ہو تو $m\angle ACD$ کی پیمائش معلوم کیجیے۔

2. میں $\triangle PQR$ میں، $\angle P = 70^\circ$ ، $\angle Q = 65^\circ$ ہو تو $\angle R$ کی پیمائش معلوم کیجیے۔

3. مثلث کے زاویوں کی پیمائشیں x° ، $(x-20)^\circ$ اور $(x-40)^\circ$ ہو تو ہر زاویے کی پیمائش معلوم کیجیے۔

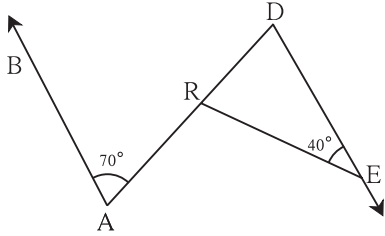
4. مثلث کے تین زاویوں میں سے، ایک زاویہ، سب سے چھوٹے زاویہ کا دگنا اور دوسرا زاویہ، سب سے چھوٹے زاویہ کا تین گنا ہے۔ تو ان تینوں زاویوں کی

پیمائش معلوم کیجیے۔



شکل 3.9

5. شکل 3.9 میں دیے ہوئے زاویوں کی پیمائشوں کی بنا پر x ، y اور z کی قیمتیں معلوم کیجیے۔

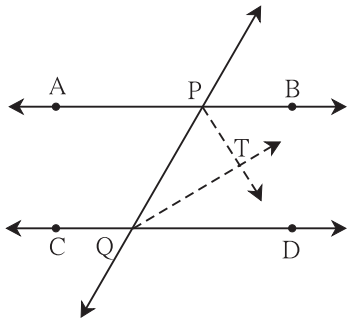


شکل 3.10

6. شکل 3.10 میں $DE \parallel AB$ خط، دی ہوئی پیمائشوں کی بنا پر $\angle DRE$ اور

$\angle ARE$ کی پیمائشیں معلوم کیجیے۔

7. $\triangle ABC$ میں $\angle A$ اور $\angle B$ کے ناصف، نقطہ O پر قطع کرتے ہیں اگر $\angle C = 70^\circ$ ہو تو $\angle AOB$ کی پیمائش معلوم کیجیے۔



شکل 3.11

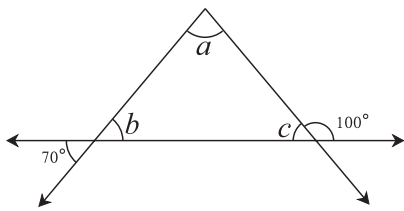
8. شکل 3.11 میں $CD \parallel AB$ خط اور خط PQ ان کا تقاطع ہے۔ شعاع PT اور شعاع

QT بالترتیب $\angle BPQ$ اور $\angle PQD$ کی ناصف ہیں۔

تو ثابت کیجیے کہ $\angle PTQ = 90^\circ$

9. شکل 3.12 میں دی ہوئی معلومات کی مدد سے $\angle a$ ، $\angle b$ اور $\angle c$ کی پیمائشیں معلوم

کیجیے۔



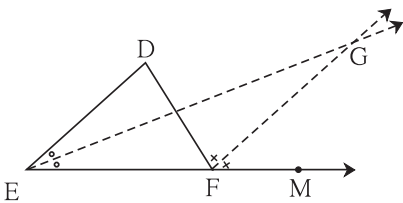
شکل 3.12

10*. شکل 3.13 میں، $DE \parallel GF$ ضلع، شعاع EG اور شعاع FG

بالترتیب $\angle DEF$ اور $\angle DFM$ کی ناصف ہیں تو

ثابت کیجیے (i) $\angle DEF = \angle EDF$

(ii) $EF = FG$

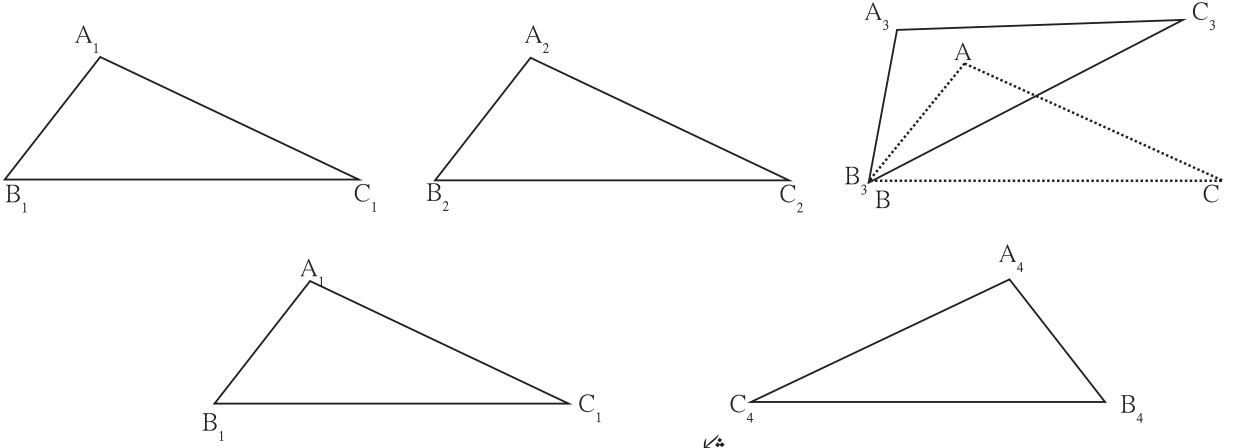


شکل 3.13



مشکلوں کی متماثلت (Congruence of Triangles)

ایک قطعہ خط دوسرے پر رکھنے پر منطبق ہوتا ہو تب وہ دو قطعے متماثل ہوتے ہیں۔ اسی طرح ایک زاویہ کو اٹھا کر دوسرے زاویے پر رکھنے پر منطبق ہوتے ہوں تو وہ دو زاویے متماثل ہوتے ہیں۔ اس بات کو ہم جانتے ہیں۔ اسی طرح ایک مثلث کو اٹھا کر دوسرے مثلث پر رکھنے پر منطبق ہوتے ہیں تو وہ دو مثلث متماثل ہوتے ہیں۔ اگر $\triangle ABC$ اور $\triangle PQR$ متماثل ہوں تب اسے $\triangle ABC \cong \triangle PQR$ کی صورت میں دکھایا جاتا ہے۔



عملی کام :

کسی بھی پیمائش کا ایک مثلث $\triangle ABC$ موٹی دفنی سے کاٹ لیجیے۔ اسے کارڈ شیٹ پر ایک جگہ رکھ کر اس کے اطراف سے پنسل گھما کر اس کی نقل بنائیے۔ اس مثلث کو $\triangle A_1B_1C_1$ نام دیجیے۔

اب اس دفنی کے مثلث کو ہٹا کر دوسرے جانب سرکا کر وہاں دوسری نقل بنائیے۔ اسے $\triangle A_2B_2C_2$ نام دیجیے۔ اس کے بعد اوپر کی شکل کے مطابق اس مثلث کو تھوڑا گھما کر ایک اور نقل بنائیے۔ اس نقل کو $\triangle A_3B_3C_3$ نام دیجیے۔ بعد میں مثلث نما دفنی کو اٹھا کر دوسری جانب اوندھا رکھ کر اسی کی نقل بنائیے اور نئے مثلث کو $\triangle A_4B_4C_4$ نام دیجیے۔

کیا آپ کے دھیان میں آگیا؟ $\triangle A_1B_1C_1$ ، $\triangle A_2B_2C_2$ ، $\triangle A_3B_3C_3$ اور $\triangle A_4B_4C_4$ یہ سب $\triangle ABC$ کے متماثل ہیں کیونکہ $\triangle ABC$ ہر ایک پر منطبق ہو جاتا ہے۔ $\triangle A_3B_3C_3$ کے لیے تصدیق کیجیے۔ لیکن اسے $\angle A$ کو $\angle A_3$ ، $\angle B$ کو $\angle B_3$ اور $\angle C$ کو $\angle C_3$ پر رکھنے پر $\triangle ABC \cong \triangle A_3B_3C_3$ کہہ سکتے ہیں۔ پھر $AB = A_3B_3$ ، $BC = B_3C_3$ اور $CA = C_3A_3$ بھی منطبق ہو جاتے ہیں۔ اس سے یہ بات سمجھ میں آتی ہے کہ دو مثلثوں کی متماثلت کی جانچ کے دوران ان کے زاویے اور ضلعے مخصوص ترتیب سے یعنی ایک سے ایک مطابقت رکھتے ہیں۔

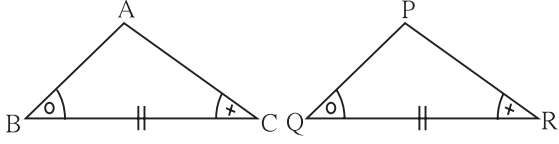
اگر $\triangle ABC \cong \triangle PQR$ ہو تو $\angle A = \angle P$ ، $\angle B = \angle Q$ اور $\angle C = \angle R$... (I)

اور $CA = RP$ ، $BC = QR$ ، $AB = PQ$... (II) اس طرح کل پچھے مساواتیں حاصل ہوتی ہیں۔

یعنی ان مثلثوں کے زاویوں اور ضلعوں کی ایک سے ایک مطابقت کی وجہ سے ان کے تین زاویے مساوی اور تین ضلعے مساوی ہیں۔

اوپر کے تمام چھ مساواتیں متماثل مثلث کے لیے صحیح ہیں۔ اس لیے تین مخصوص مساواتیں مساوی معلوم ہونے پر تمام چھ مساواتیں صحیح ہو جاتی ہیں اور وہ دونوں مثلث متماثل ہوتے ہیں۔ وہ کیسے آئیے دیکھتے ہیں۔

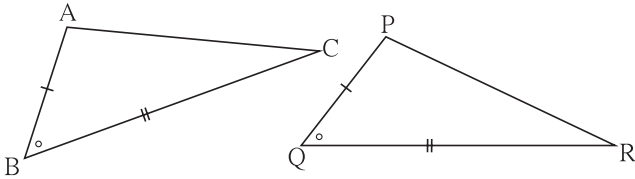
(1) جب ایک سے ایک مطابقت کے لحاظ سے $\triangle ABC$ کے دو زاویے، $\triangle PQR$ کے دو زاویوں کے مساوی ہوں اور ان زاویوں کا مشمولی ضلع مساوی ہوں تو وہ دو مثلث متماثل ہوتے ہیں۔



شکل 3.15

اس خصوصیت کو 'زاویہ-ضلع-زاویہ' آزمائش کہتے ہیں۔
اسے مختصراً زاہل زاہل آزمائش لکھتے ہیں۔

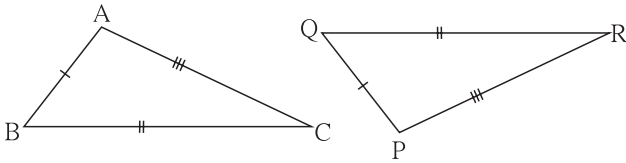
(2) جب ایک سے ایک مطابقت کے لحاظ سے $\triangle ABC$ کے دو اضلاع $\triangle PQR$ کے دو اضلاع کے مساوی ہوں اور $\triangle ABC$ کے ان دو اضلاع کے درمیان کا زاویہ $\triangle PQR$ کے دو نظیری اضلاع کے درمیان کے زاویہ کے مساوی ہوں تو وہ دو مثلث متماثل ہوتے ہیں۔



شکل 3.16

اس خصوصیت کو 'ضلع-زاویہ-ضلع' آزمائش کہتے ہیں۔
اور اسے مختصراً ضل ضل آزمائش لکھتے ہیں۔

(3) جب $\triangle ABC$ کے تین اضلاع ایک سے ایک مطابقت کے لحاظ سے $\triangle PQR$ کے نظیری اضلاع کے مساوی ہوں تو وہ مثلث متماثل ہوتے ہیں۔

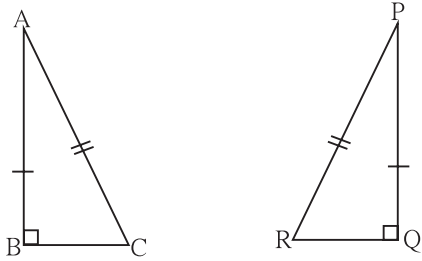


شکل 3.17

اس خصوصیت کو 'ضلع-ضلع-ضلع' آزمائش کہتے ہیں۔
اور اسے مختصراً ضل ضل ضل آزمائش لکھتے ہیں۔

(4) $\triangle ABC$ اور $\triangle PQR$ دونوں قائمہ الزاویہ مثلث ہیں۔ ان مثلثوں میں $\angle B$ اور $\angle Q$ قائمہ زاویے ہیں اور دونوں مثلثوں کے وتر مساوی

ہیں۔ نیز $AB = PQ$ ہو تو وہ مثلث متماثل ہوتے ہیں۔



شکل 3.18

اس آزمائش کو وتر ضلع آزمائش کہتے ہیں۔

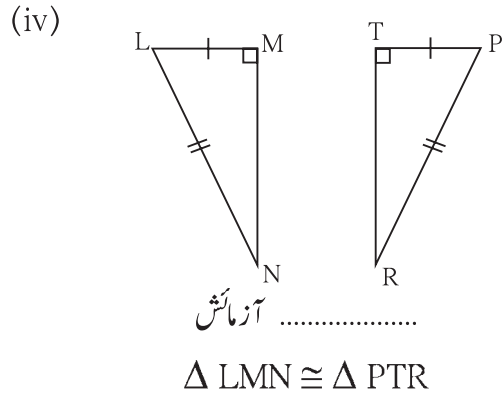
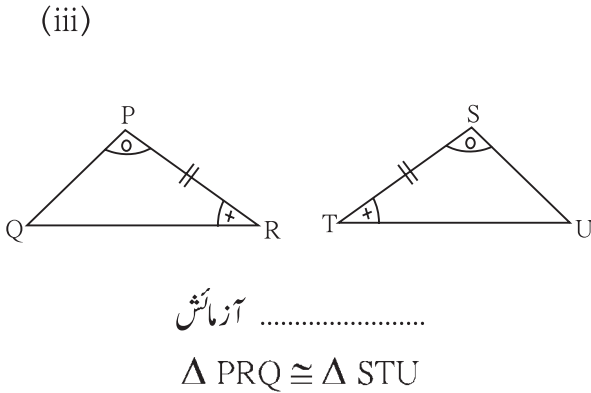
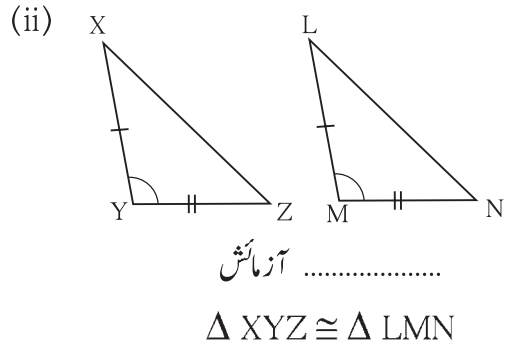
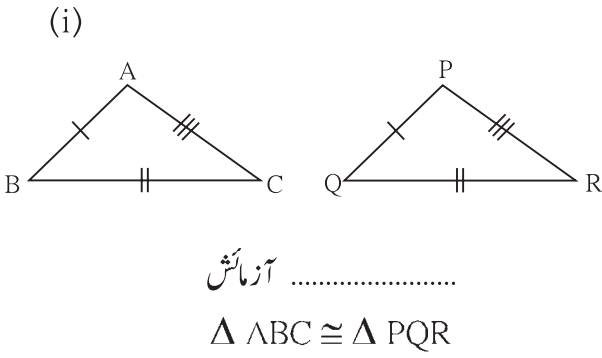


ہم نے مثلث کی کچھ پیمائشیں دی ہوں تو مثلث بنایا ہے۔ (مثلاً دو زاویہ اور ان کا مشمولی ضلع، تین ضلع، دو اضلاع اور ان کا مشمولی زاویہ) ان میں سے کوئی بھی معلومات دی جائے تو ایک ہی مثلث بنا سکتے ہیں، اس بات کا ہمیں تجربہ ہے۔ اس لیے دو مثلثوں میں ایک سے ایک مطابقت کے لحاظ سے یہ تین ارکان دیے ہوئے ہوں تو دونوں مثلث متماثل ہوتے ہیں۔ یہ بات سمجھ میں آتی ہے۔ پھر ایک سے ایک مطابقت کے لحاظ سے ان کے تینوں زاویے مساوی اور تینوں ضلع بھی مساوی ہوتے ہیں۔

دو مثلث متماثل ہوں تو ایک سے ایک مطابقت کے لحاظ سے ان کے تینوں زاویے متماثل ہوتے ہیں۔ اور تینوں اضلاع مساوی ہوتے ہیں۔ اس کا استعمال علم ہندسہ کی کئی مثالوں میں ہوتا ہے۔

مشقی سیٹ 3.2

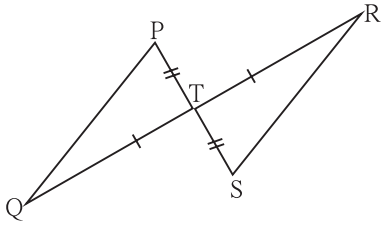
1. ذیل کے مثالوں میں مثلث کی جوڑیوں کے ارکان کو یکساں نشانات سے دکھائے ہوئے حصے متماثل ہیں اس معلومات کی مدد سے ہر جوڑی کے مثلث جس آزمائش کی بنا پر متماثل ہوتے ہیں وہ آزمائش شکل کے نیچے دی ہوئی خالی جگہ میں لکھیے۔



شکل 3.19

2. ذیل کے مثلثوں کی جوڑیوں میں ظاہر کی گئی معلومات کا مشاہدہ کیجیے۔ وہ مثلث کس آزمائش کے لحاظ سے متماثل ہیں۔ اسے لکھیے اور ان کے بقیہ متماثل ارکان بھی لکھیے۔

(ii)



شکل 3.21

شکل میں ہوئی معلومات کے مطابق،
 $\triangle PTQ$ اور $\triangle STR$ میں،

قطعہ $PT \cong$ قطعہ ST

$\angle PTQ \cong \angle STR$... (مقابلہ زاویے)

قطعہ $TQ \cong$ قطعہ TR

$\therefore \triangle PTQ \cong \triangle STR$... آزمائش

$\therefore \angle TPQ \cong$ } (متماثل مثلثوں کے ...
 اور $\cong \angle TRS$ } (نظیری زاویے)

ضلع $PQ \cong$

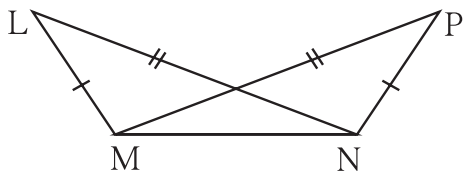
(متماثل مثلثوں کے نظیری اضلاع) ...

(4) ذیل کی شکل میں دی ہوئی معلومات کے مطابق

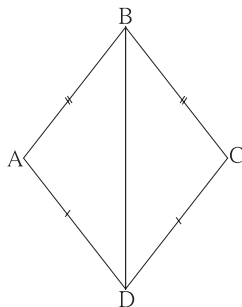
$\triangle LMN$ اور $\triangle PMN$ میں $LM = PN$ ،

$LN = PM$ ہو تو یہ مثلث کس آزمائش کے تحت متماثل ہیں لکھیے

اور بقیہ متماثل ارکان بھی لکھیے۔

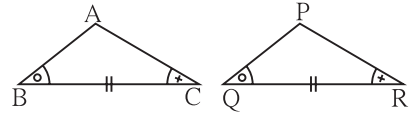


شکل 3.23



شکل 3.24

(i)



شکل 3.20

شکل میں دی ہوئی معلومات کے مطابق،

$\triangle ABC$ اور $\triangle PQR$ میں،

$\angle ABC \cong \angle PQR$

قطعہ $BC \cong$ قطعہ QR

$\angle ACB \cong \angle PRQ$

$\therefore \triangle ABC \cong \triangle PQR$ (آزمائش)

$\therefore \angle BAC \cong$

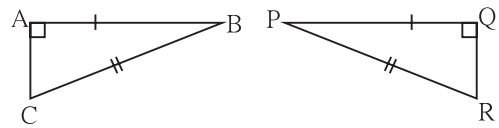
(متماثل مثلث کے نظیری زاویے)

قطعہ $AB \cong$ اور \cong قطعہ PR

(متماثل مثلثوں کے نظیری اضلاع) ...

(3) ذیل کی شکل میں دی گئی معلومات کی مدد سے $\triangle ABC$ اور

$\triangle PQR$ کی متماثلت کی آزمائش اور بقیہ متماثل ارکان لکھیے۔



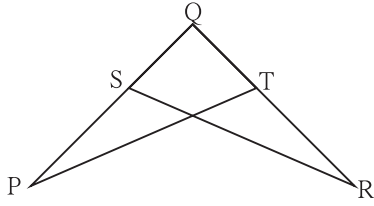
شکل 3.22

(5) شکل 3.24 میں، قطعہ $AB \cong$ قطعہ BC اور

قطعہ $AD \cong$ قطعہ CD ہو تو

ثابت کیجیے کہ $\triangle ABD \cong \triangle CBD$

شکل 3.25



(6) شکل 3.25 میں $\angle P \cong \angle R$ ، $PQ \cong QR$ قطعہ ہوتو

ثابت کیجیے $\Delta PQT \cong \Delta RQS$

آئیے سمجھ لیں

(Isosceles triangle theorem) متساوی الساقین مثلث کا مسئلہ

مسئلہ : اگر ایک مثلث کے دو ضلع متماثل ہوں تب ان ضلعوں کے مقابل کے زاویے متماثل ہوتے ہیں۔

دیا ہوا ہے : ΔABC میں، ضلع $AB \cong$ ضلع AC

ثابت کرنا ہے : $\angle ABC \cong \angle ACB$

عمل : ΔABC میں $\angle BAC$ کا نصف کھینچیے جو ضلع BC کو جہاں قطع کرتا ہے اس نقطہ کا نام D دیجیے۔

ثبوت : ΔABD اور ΔACD میں

$AB \cong AC$ قطعہ ... (دیا ہوا ہے)

$\angle BAD \cong \angle CAD$... (عمل)

$AD \cong AD$ قطعہ ... (مشترک ضلع)

$\therefore \Delta ABD \cong \Delta ACD$...

$\therefore \angle ABD \cong$... (متماثل مثلثوں کے نظیری زاویے)

$\therefore \angle ABC \cong \angle ACB$ $\because B - D - C$

نتیجہ صریح : مثلث کے تینوں اضلاع متماثل ہوں، تب اس کے تینوں زاویے متماثل ہوتے ہیں اور ہر زاویہ کی پیمائش 60° ہوتی ہے۔ (آپ اس نتیجہ صریح کا ثبوت لکھیے)

(Converse of an Isosceles triangle theorem) متساوی الساقین مثلث کے مسئلہ کا عکس :

مسئلہ : اگر ایک مثلث کے دو زاویے متماثل ہوں تب ان زاویوں کے مقابل کے ضلع متماثل ہوتے ہیں۔

دیا ہوا ہے : ΔPQR میں $\angle PQR \cong \angle PRQ$

ثابت کرنا ہے : ضلع $PQ \cong$ ضلع PR

عمل : $\angle P$ کا نصف کھینچیے۔ جو ضلع QR کو جہاں قطع کرتا ہے۔ اس نقطہ کو M نام دیجیے۔

ثبوت : ΔPRM اور ΔPQM میں

$\angle PQM \cong$... (دیا ہوا ہے)

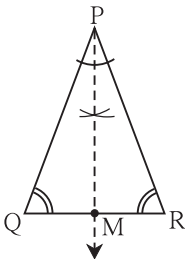
$\angle QPM \cong \angle RPM$...

$PM \cong$ قطعہ ... (مشترک ضلع)

$\therefore \Delta PQM \cong \Delta PRM$... آزمائش

\therefore متماثل مثلث کے نظیری اضلاع $PQ \cong PR$ قطعہ

شکل 3.27



نتیجہ صریح : مثلث کے تینوں زاویے متماثل ہوں تو اس کے تینوں اضلاع متماثل ہوتے ہیں۔ آپ اس نتیجہ صریح کا ثبوت لکھیے۔

اوپر دیے ہوئے دونوں ذیلی مسئلوں کے بیانات ایک دوسرے کے عکس ہیں۔

غور کیجیے



(1) کیا متساوی الساقین مثلث کے مسئلہ کا ثبوت، مختلف عمل کے ذریعے دے سکتے ہیں؟

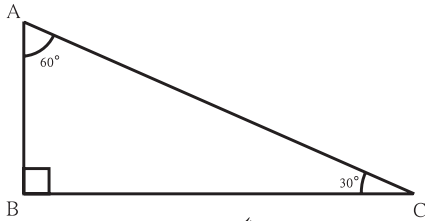
(2) کیا متساوی الساقین مثلث کے مسئلہ کا ثبوت، کسی عمل کے بغیر دے سکتے ہیں؟

آئیے سمجھ لیں



$30^\circ - 60^\circ - 90^\circ$ پیمائش کے مثلث کی خصوصیات (Property of $30^\circ - 60^\circ - 90^\circ$ triangle)

عملی کام I :



شکل 3.28

گروہ کے ہر طالب علم کو ایک ایسا قائمہ الزاویہ مثلث بنانے کے لیے کہیں

جس کا ایک زاویہ 30° کا ہو۔

ہر طالب علم 30° پیمائش کے زاویے کے مقابل کے ضلع اور وتر کی لمبائی ناپ لے۔

گروہ کا ایک طالب علم تمام طلبہ کے بنائے ہوئے مثلثوں کے لیے ذیل کا جدول مکمل کر لے۔

مثلثوں کے نمبر شمار	مثلث 1	مثلث 2	مثلث 3	مثلث 4
30° زاویہ کے مقابل کے ضلع				
وتر کی لمبائی				

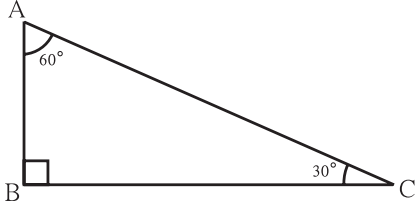
اوپر کے جدول کی بنا پر زاویوں کی پیمائشیں 30° ، 60° اور 90° والے مثلث کے اضلاع کی کچھ خصوصیات حاصل ہوتی ہیں۔

عملی کام II : کمپاس بکس میں ایک گنیا کے زاویے 30° ، 60° اور 90° ہوتے ہیں کیا ان کے اضلاع کے تعلق سے یہ خصوصیت حاصل ہوتی ہے؟ تصدیق کیجیے۔

اس عمل کی بنا پر ہمیں حاصل ہونے والی ایک اہم خصوصیت کو اب ہم ثابت کریں گے۔

مسئلہ : اگر قائمہ الزاویہ کے حادہ زاویے 30° اور 60° کے ہوں تب 30° کے زاویے کے مقابل کا ضلع، وتر کا نصف ہوتا ہے۔

ذیل میں دیے ہوئے ثبوت کی خالی جگہ پُر کیجیے۔



شکل 3.29

دیا ہوا ہے : قائمہ الزاویہ ΔABC میں $\angle B = 90^\circ$ ، $\angle C = 30^\circ$ ، $\angle A = 60^\circ$

ثابت کرنا ہے : $AB = \frac{1}{2} AC$

عمل : قطعہ AB کو نقطہ D تک اس طرح بڑھائیے کہ

$AB = BD$ اور قطعہ DC کھینچیے۔

ثبوت : ΔABC اور ΔDBC میں

قطعہ $AB \cong$ قطعہ DB ...

$\angle ABC \cong \angle DBC$...

قطعہ $BC \cong$ قطعہ BC ...

$\therefore \Delta ABC \cong \Delta DBC$...

$\therefore \angle BAC \cong \angle BDC$... (متماثل مثلثوں کے نظیری زاویے)

$\therefore \angle BDC = 60^\circ$ ، $\angle BAC = 60^\circ$ میں ΔABC

اب ΔADC میں

$\angle DAC = \angle ADC = \angle ACD = 60^\circ$... (مثلث کے زاویوں کا مجموعہ 180°)

$\therefore \Delta ADC$ ، یہ متساوی الاضلاع مثلث ہے۔

$\therefore AC = AD = DC$... (متساوی الساقین مثلث کے مسئلہ کے عکس کا نتیجہ صریح)

$AB = \frac{1}{2} AD$... (عمل) لیکن

$\therefore AB = \frac{1}{2} AC$ ($\because AD = AC$)

عملی کام : اوپر کی شکل 3.29 کی مدد سے خالی چوکون مکمل کر کے ذیل کے مسئلے کا ثبوت لکھیے

قائمہ الزاویہ مثلث میں دیگر زاویے 30° ، 60° ہوں تو 60° کے مقابل کا ضلع، وتر $\times \frac{\sqrt{3}}{2}$ ہوتا ہے۔

اوپر کے مسئلے میں، ہم جانتے ہیں، $AB = \frac{1}{2} AC$

$AB^2 + BC^2 =$... (فیثاغورث کے مسئلہ کی روش سے)

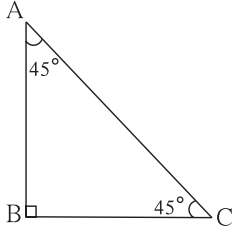
$\frac{1}{4} AC^2 + BC^2 =$

$\therefore BC^2 = AC^2 - \frac{1}{4} AC^2$

$\therefore BC^2 =$

$\therefore BC = \frac{\sqrt{3}}{2} AC$

عملی کام : قائمہ الزاویہ مثلث کے زاویے جب 45° ، 45° ، 90° ہوں تب قائمہ زاویہ بنانے والا ہر ضلع، وتر $\times \frac{1}{\sqrt{2}}$ ہوتا ہے۔



شکل 3.31

$$\triangle ABC \text{ میں، } \angle B = 90^\circ \text{ اور } \angle A = \angle C = 45^\circ$$

$$\therefore BC = AB$$

فیثاغورث کے مسئلہ کی رؤ سے،

$$AB^2 + BC^2 = \square$$

$$AB^2 + \square = AC^2 \quad \dots (\because BC = AB)$$

$$\therefore 2AB^2 = \square$$

$$\therefore AB^2 = \square$$

$$\therefore AB = \frac{1}{\sqrt{2}} AC$$

اس مسئلہ کو $45^\circ-45^\circ-90^\circ$ کے مثلث کا مسئلہ کہتے ہیں۔

اسے دھیان میں رکھیں



(1) قائمہ الزاویہ مثلث کے زاویے 30° ، 60° ، 90° ہوں تب 30° زاویے کے مقابل کا ضلع $\frac{\text{وتر}}{2}$ ہوتا ہے اور 60° کے زاویے کے مقابل کا ضلع

$\times \frac{\sqrt{3}}{2}$ ہوتا ہے۔ اس مسئلہ کو $30^\circ-60^\circ-90^\circ$ کا مسئلہ کہتے ہیں۔

(2) قائمہ الزاویہ مثلث کے زاویے 45° ، 45° ، 90° ہوں تب قائمہ زاویہ بنانے والا ہر ضلع $\frac{\text{وتر}}{\sqrt{2}}$ ہوتا ہے۔ اس مسئلہ کو

$45^\circ-45^\circ-90^\circ$ کا مسئلہ کہتے ہیں۔

آئیے ذرا یاد کریں

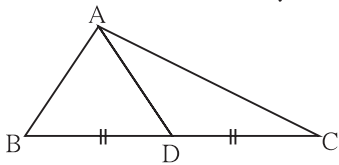


مثلث کا وسطانیہ (Median of a triangle)

مثلث کے راس اور اس کے مقابل کے ضلع کے وسطی نقطہ کو ملانے والا قطعہ خط، اس مثلث کا وسطانیہ کہلاتا ہے۔

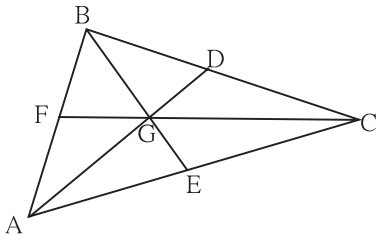
شکل میں نقطہ D، ضلع BC کا وسطی نقطہ ہے اس لیے قطعہ AD، یہ $\triangle ABC$ کا

وسطانیہ ہے۔



شکل 3.32

عملی کام I :

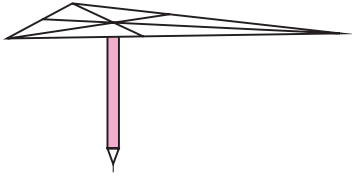


شکل 3.33

کوئی بھی ایک مثلث ABC بنائیے۔ اس مثلث کے BE، AD اور CF وسطانیے کھینچئے۔ ان کے نقطہ تراکز کو G نام دیجیے۔ AG اور GD کی لمبائی کا موازنہ تقسیم کار (Divider) کی مدد سے کیجیے۔ AG کی لمبائی، GD کے دگنا ہے۔ اس کی تصدیق کیجیے۔

اسی طرح کیا BG کی لمبائی GE، کے دگنا اور CG کی لمبائی GF کی لمبائی کے دگنا ہوتی ہے؟ اس کی بھی تصدیق کیجیے۔

اس بنا پر ہندی وسط (تینوں وسطانیوں کا نقطہ تراکز) ہر وسطانیہ کو 2 : 1 اس کی نسبت میں تقسیم کرتا ہے۔ اس خصوصیت کو دھیان میں رکھیے۔



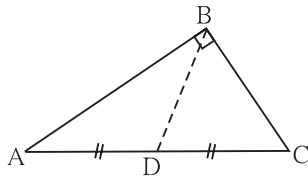
شکل 3.34

عملی کام II : ΔABC ، اس مثلث کو ایک موٹے کاغذ پر بنا کر کاٹ لیجیے۔ اس کے تینوں وسطانیے کھینچئے۔ ان کے نقطہ تراکز کو نقطہ G نام دیجیے۔ اب ایک پنسل لیجیے جس کا نچلا حصہ ہموار ہو۔ ہموار حصے کو اوپر کی جانب کر کے اسے کھڑا کیجیے۔ مثلث کے نقطہ G کو پنسل کے ہموار حصے پر رکھ کر دیکھیے کہ توازن برقرار رہتا ہے۔ تصدیق کیجیے۔ اس بنا پر وسطانیوں کے نقطہ تراکز یا 'ہندی مرکز' کی اہم خصوصیت سمجھ میں آتی ہے۔



آئیے سمجھ لیں

قائمۃ الزاویہ مثلث کے وتر کے وسطانیہ کی خصوصیت



شکل 3.35

عملی کام : فرض کیجیے شکل 3.35 میں ΔABC قائمۃ الزاویہ مثلث ہے۔

قطعہ BD وسطانیہ ہے۔

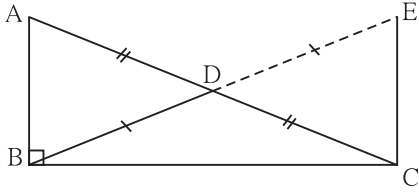
تقسیم کار کی مدد سے درج ذیل قطعات خط کی لمبائیاں ناپ کر لکھیے۔

$$l(AD) = \dots\dots\dots l(DC) = \dots\dots\dots l(BD) = \dots\dots\dots$$

اس بنا پر $(BD) = \frac{1}{2} (AC)$ خصوصیت حاصل ہوتی ہے۔

تصدیق کیجیے۔

اب ہم اس خصوصیت کو ثابت کریں گے۔



شکل 3.32

مسئلہ : قائمہ الزاویہ مثلث میں، وتر پر کھینچے گئے وسطانیہ کی لمبائی وتر کا نصف ہوتی ہے۔

دیا ہوا ہے : قائمہ الزاویہ $\triangle ABC$ میں قطعہ BD وسطانیہ ہے۔

ثابت کرنا ہے : $BD = \frac{1}{2} AC$

عمل : شعاع BD ، پر ایک نقطہ E اس طرح لیجئے کہ $B - D - E$ ،

$l(BD) = l(DE)$ اور قطعہ EC کھینچئے۔

ثبوت : ذیل میں ثبوت کے اہم مرحلے دکھائے گئے ہیں۔ درمیان کے مرحلے، بیانات اور وجوہات لکھ کر ثبوت مکمل کیجئے۔

$\triangle ADB \cong \triangle CDE$... (ضلع زاضل آزمائش)

قطعہ $AB \parallel$ قطعہ EC ... (متبادلہ زاویوں کی آزمائش)

$\triangle ABC \cong \triangle ECB$... (ضلع زاضل آزمائش)

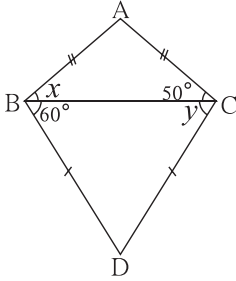
$$BD = \frac{1}{2} (AC)$$

اسے دھیان میں رکھیں



کسی بھی قائمہ الزاویہ مثلث میں، وتر پر کھینچے گئے وسطانیہ کی لمبائی وتر کا نصف ہوتی ہے۔

مشقی سیٹ 3.3

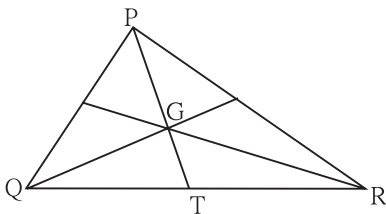


شکل 3.37

- (1) شکل 3.37 میں دیئے گئے زاویوں کی پیمائشیں دیکھیے۔ x اور y کی قیمتیں معلوم کیجئے۔ اسی طرح $\angle ABD$ اور $\angle ACD$ کی پیمائشیں معلوم کیجئے۔

- (2) قائمہ الزاویہ مثلث میں وتر کی لمبائی 15 ہو تب اس پر کھینچے گئے وسطانیہ کی لمبائی معلوم کیجئے۔

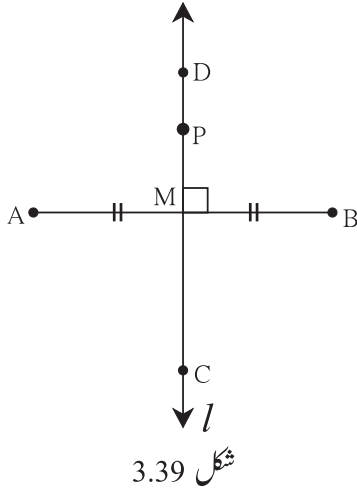
- (3) قائمہ الزاویہ مثلث $\triangle PQR$ میں، $\angle Q = 90^\circ$ ، $QR = 5$ ، $PQ = 12$ اور QS قطعہ PR کا وسطانیہ ہے۔ تب QS کی قیمت معلوم کیجئے۔



شکل 3.38

- (4) شکل 3.38 میں $\triangle PQR$ کا نقطہ G ہندسی مرکز ہے۔ اگر $GT = 2.5$ ہو تو PG اور PT کی قیمتیں معلوم کیجئے۔

آئیے ذرا یاد کریں



عملی کام : مناسب لمبائی کا قطعہ AB کھینچئے۔ اس کے وسطی نقطے کو M نام دیجیے۔ نقطہ M سے گذرنے والا اور قطعہ AB پر عمود ہو، ایسا خط l کھینچئے۔ خط l ، قطعہ AB کا عمودی ناصف ہے۔ کیا یہ بات دھیان میں آگئی؟

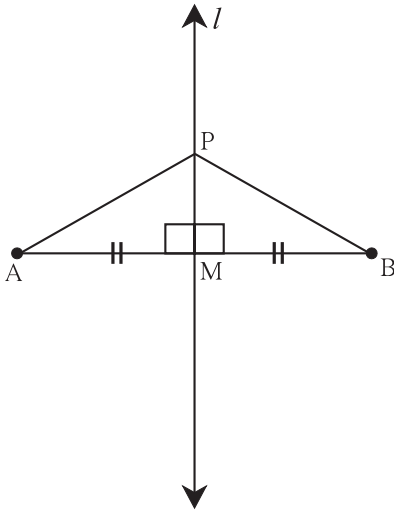
خط l پر کہیں بھی نقطہ p لیجئے۔ PA اور PB کے فاصلوں کا موازنہ تقسیم کار کی مدد سے کیجئے۔ کیا حاصل ہوا؟ $PA = PB$ یہی حاصل ہونا؟ اس سے یہ بات سمجھ میں آتی ہے کہ قطعہ خط کے عمودی ناصف پر واقع کوئی بھی نقطہ، اس قطعہ خط کے اختتامی نقاط سے ہم فاصلہ ہوتا ہے۔

اب کمپاس کی مدد سے، نقطہ A اور B سے ہم فاصلہ نقاط C اور D جیسے کچھ نقاط لیجئے۔ تمام نقاط خط l پر ہی ہیں نا؟ اس بات سے کیا سمجھ میں آیا؟ قطعہ خط کے سروں سے ہم فاصلہ ہر نقطہ، عمودی ناصف پر واقع ہوتا ہے۔ یہ دو خصوصیات عمودی ناصف کے مسئلہ کے دو حصے ہیں، اب ہم انہیں ثابت کریں گے۔

آئیے سمجھ لیں

عمودی ناصف کا مسئلہ (Perpendicular bisector Theorem)

حصہ I : قطعہ خط کے عمودی ناصف پر واقع ہر نقطہ، اس قطعہ کے اختتامی نقاط سے مساوی فاصلہ پر ہوتا ہے۔



دیا ہوا ہے : خط l ، قطعہ AB کا عمودی ناصف ہے، جو قطعہ AB کو نقطہ M پر قطع کرتا ہے۔ نقطہ P، خط l پر واقع کوئی ایک نقطہ ہے۔

ثابت کرنا ہے : $l(PA) = l(PB)$

عمل : قطعہ AP اور قطعہ BP کھینچئے۔

ثبوت : ΔPMA اور ΔPMB میں

مشترک ضلع) ... $PM \cong PM$ قطعہ

... (ہر زاویہ قائمہ) $\angle PMA \cong \angle PMB$

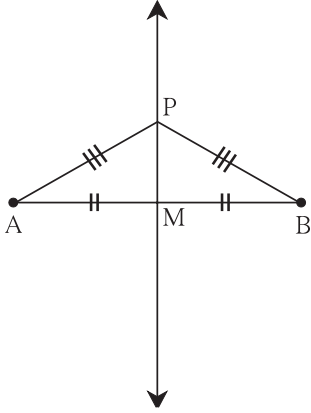
... (نقطہ M وسطی نقطہ) $AM \cong BM$ قطعہ

$$\therefore \Delta PMA \cong \Delta PMB \quad \dots \text{(ضلع زاضل آزمائش) ...}$$

$$\therefore \text{قطعہ } PA \cong \text{قطعہ } PB \quad \dots \text{(متمثل مثلثوں کے نظیری اضلاع) ...}$$

$$\therefore l(PA) = l(PB)$$

اس بنا پر قطعہ خط کے عمودی ناصف پر واقع ہر نقطہ، اس قطعہ کے اختتامی نقاط سے ہم فاصلہ ہوتا ہے۔
 حصہ II : قطعہ خط کے اختتامی سروں سے ہم فاصلہ کوئی بھی نقطہ، اس قطعہ خط کے عمودی ناصف پر واقع ہوتا ہے۔
 دیا ہوا ہے : نقطہ P، قطعہ AB کے اختتامی نقاط سے مساوی فاصلے پر واقع کوئی نقطہ ہے۔ یعنی $PA = PB$
 ثابت کرنا ہے : نقطہ P، قطعہ AB کے عمودی ناصف پر واقع ہے۔
 عمل : قطعہ AB کا وسطی نقطہ M لیجیے اور خط PM کھینچیے۔



شکل 3.41

ثبوت : ΔPAM اور ΔPBM میں

$$\text{قطعہ } PA \cong \text{قطعہ } PB \quad \dots \boxed{}$$

$$\text{قطعہ } AM \cong \text{قطعہ } BM \quad \dots \boxed{}$$

$$\text{قطعہ } PM \cong \boxed{} \quad \dots \text{(مشترک ضلع) ...}$$

$$\therefore \Delta PAM \cong \Delta PBM \quad \dots \text{(آزمائش) } \boxed{}$$

$$\therefore \angle PMA \cong \angle PMB \quad \dots \text{(متمثل مثلثوں کے نظیری زاویے) ...}$$

$$\angle PMA + \boxed{} = 180^\circ \quad \text{لیکن}$$

$$\angle PMA + \angle PMA = 180^\circ \quad \dots \text{(} \because \angle PMB = \angle PMA \text{)}$$

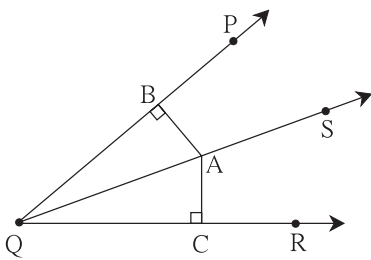
$$2 \angle PMA = \boxed{}$$

$$\therefore \angle PMA = 90^\circ$$

$$\text{قطعہ } PM \perp \text{قطعہ } AB \quad \dots (1)$$

$$(2) \dots \text{ اسی طرح، ضلع } AB \text{ کا وسطی نقطہ } M \text{ ہے۔} \dots \text{(عمل)}$$

اس لیے خط PM، قطعہ AB کا عمودی ناصف ہے۔ یعنی نقطہ P، قطعہ AB کے عمودی ناصف پر واقع ہے۔



شکل 3.42

زاویہ کے ناصف کا مسئلہ (Angle Bisector Theorem)

حصہ I : زاویہ کے ناصف پر واقع ہر نقطہ، اس زاویہ کی ساقین سے ہم فاصلہ ہوتا ہے۔

دیا ہوا ہے : شعاع QS یہ $\angle PQR$ کی ناصف ہے۔

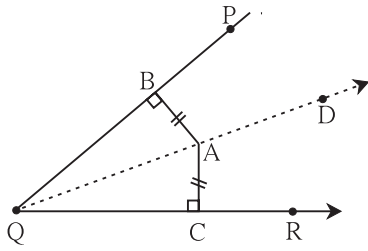
A، زاویہ کے ناصف پر واقع کوئی ایک نقطہ ہے۔ شعاع $QP \perp AB$ قطعہ،

$$\text{شعاع } QR \perp AC \text{ قطعہ}$$

ثابت کرنا ہے : قطعہ $AB \cong$ قطعہ AC

ثبوت : مثلثوں کی متماثلت کی مناسب و موزوں آزمائش کا استعمال کر کے ثبوت لکھیے۔

حصہ II : زاویہ کے سابقین سے مساوی فاصلہ پر واقع کوئی بھی نقطہ، اس زاویے کے ناصف پر ہوتا ہے۔



شکل 3.43

دیا ہوا ہے : $\angle PQR$ کے اندرون میں A ایک نقطہ اس طرح واقع ہے کہ،

قطعہ $AC \perp$ قطعہ QR

شعاع $AB \perp$ قطعہ QP

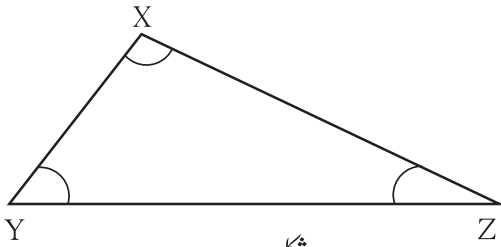
$$AB = AC$$

ثابت کرنا ہے : شعاع QA ، $\angle PQR$ کی ناصف ہے یعنی

$$\angle BQA = \angle CQA$$

ثبوت : مثلث کی مناسب متماثلت کی آزمائش کا استعمال کر کے ثبوت لکھیے۔

آئیے ذرا یاد کریں



شکل 3.44

عملی کام I :

شکل کے مطابق، ضلع $XZ >$ ضلع XY

ایسا $\triangle XYZ$ بنائیے۔

اب $\angle Y$ اور $\angle Z$ ناپیے۔

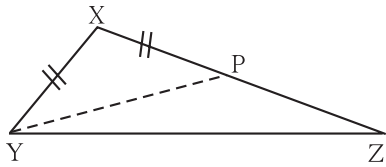
کون سا زاویہ بڑا ہے؟

آئیے سمجھ لیں



مثالث میں ضلعوں اور زاویوں کی غیر مساویت کی خصوصیت :

مسئلہ : جب مثلث کے دو ضلعوں میں سے ایک ضلع، دوسرے ضلع سے بڑا ہوتا ہے تب بڑے ضلع کے مقابل کا زاویہ چھوٹے ضلع کے مقابل کے زاویے سے بڑا ہوتا ہے۔



شکل 3.45

دیا ہوا ہے : $\triangle XYZ$ میں ضلع $XZ >$ ضلع XY

ثابت کرنا ہے : $\angle XYZ >$ $\angle XZY$

عمل : ضلع XZ پر نقطہ P، اس طرح لیجیے کہ $l(XY) = l(XP)$ ، قطعہ YP کھینچیے۔

ثبوت : $\triangle XYP$ میں،

... (عمل)

$$XY = XP$$

$$\therefore \angle XYP = \angle XPY \quad \dots (I) \quad \dots \text{ (متماثل اضلاع کے مقابل کے زاویے مساوی)}$$

$\angle XPY$ ، $\triangle YPZ$ کا خارجہ زاویہ ہے۔

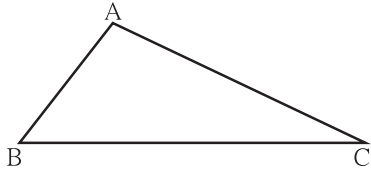
$$\therefore \angle XPY > \angle PZY \quad \dots \text{ (خارجہ زاویہ کا مسئلہ)}$$

$$\angle XYP > \angle PZY \quad \dots \text{ بیان (I) کی بنا پر}$$

$$\angle XYP + \angle PYZ > \angle PZY \quad \dots \text{ (اگر } a > b \text{ اور } c > 0 \text{ ہو تو } a + c > b)$$

$$\therefore \angle XYZ > \angle PZY \text{ یعنی } \angle XYZ > \angle XZY$$

مسئلہ : مثلث کے دو زاویے غیر مساوی پیمائشوں کے ہوں تب بڑے زاویے کے مقابل کا ضلع، چھوٹے زاویے کے مقابل کے ضلع سے بڑا ہوتا ہے۔
اس مسئلہ کا ثبوت بالواسطہ طریقے سے دے سکتے ہیں۔ ذیل میں دیے ہوئے ثبوت کی خالی جگہ پر کیجیے اور ثبوت مکمل کیجیے۔



شکل 3.46

دیا ہوا ہے : ΔABC میں $\angle B > \angle C$

ثابت کرنا ہے : $AC > AB$

ثبوت : ΔABC کے اضلاع AB اور AC کے لمبائیوں میں درج ذیل میں سے ایک اور صرف ایک ہی مفروضہ ممکن ہو سکتا ہے۔

(i) $AC < AB$

(ii)

(iii)

(2) اگر $AC = AB$

ہو تو $\angle B = \angle C$

لیکن (دیا ہوا ہے) ... $>$

یعنی یہاں دوبارہ تضاد پیدا ہوتا ہے۔

\therefore $=$... (یہ مفروضہ غلط ہے)

اب یہی ایک ممکنہ مفروضہ باقی رہتا ہے۔ $\therefore AC > AB$...

$\therefore AC > AB$

(1) فرض کیجیے - $AC < AB$

مثلث کے غیر مساوی ضلعوں میں سے بڑے ضلع کے مقابل کا زاویہ،

چھوٹے ضلع کے مقابل کے زاویے سے ہوتا ہے۔

$\therefore \angle C >$

لیکن (دیا ہوا ہے) ... $\angle C < \angle B$

یعنی یہاں تضاد پایا جاتا ہے۔

\therefore $<$... (یہ مفروضہ غلط ہے)

آئیے ذرا یاد کریں



گذشتہ جماعت میں ہم نے ایک عملی کام کیا تھا۔ اس کی مدد سے مثلث کی

ایک خصوصیت دیکھی تھی، اسے یاد کریں۔

بازو کی تصویر کے مطابق مقام A پر ایک دکان ہے۔ سمیر C مقام پر کھڑا

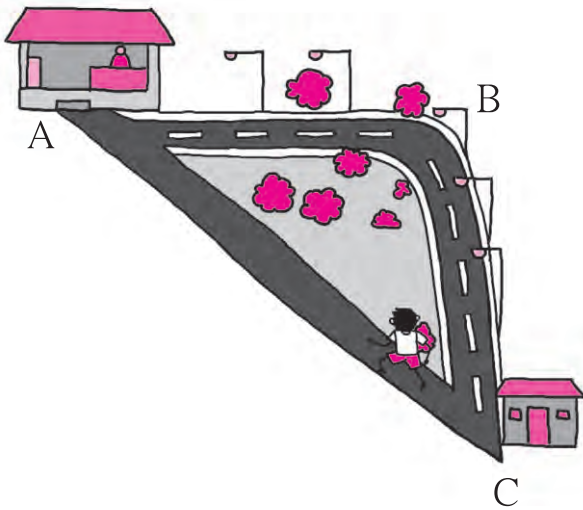
تھا۔ دکان تک پہنچنے کے لیے اس نے $C \rightarrow B \rightarrow A$ اس پکی سڑک کی بجائے

$C \rightarrow A$ راستہ اختیار کیا۔ کیونکہ اس کے دھیان میں یہ بات آئی تھی کہ یہ راستہ کم

لمبائی کا ہے۔ یعنی مثلث کی کون سی خصوصیت اس کے دھیان میں آئی تھی؟

مثلث کے کوئی بھی دو ضلعوں کا مجموعہ تیسرے ضلع سے بڑا ہوتا ہے۔ اس

خصوصیت کو اب ہم ثابت کریں گے۔



مسئلہ : مثلث کے کسی بھی دو ضلعوں کی لمبائی کا مجموعہ، تیسرے ضلع کی لمبائی سے بڑا ہوتا ہے۔

دیا ہوا ہے : $\triangle ABC$ کوئی ایک مثلث ہے۔

ثابت کرنا ہے : $AB + AC > BC$

$AB + BC > AC$

$AC + BC > AB$

عمل : شعاع BA پر نقطہ D اس طرح لیجیے کہ $AD = AC$

ثبوت : $\triangle ACD$ میں $AC = AD$... (عمل)

$\therefore \angle ACD = \angle ADC$... (متماثل اضلاع کے مقابل کے زاویے)

$\therefore \angle ACD + \angle ACB > \angle ADC$... (اگر $a > b$ اور $c > 0$ ہو تو $a + c > b$)

$\therefore \angle BCD > \angle ADC$

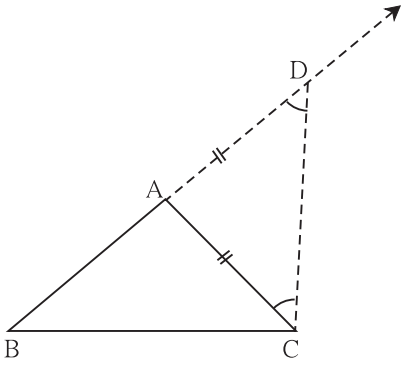
\therefore ضلع $BD >$ ضلع BC ... (مثلث کے بڑے زاویے کے مقابل کا ضلع بڑا)

$\therefore BA + AD > BC$... ($\because BD = BA + AD$)

$BA + AC > BC$... ($\because AD = AC$)

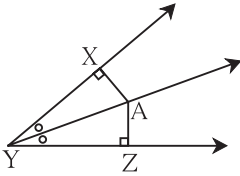
$AB + BC > AC$ اسی طرح

ثابت کر سکتے ہیں۔ $BC + AC > AB$ اور



شکل 3.47

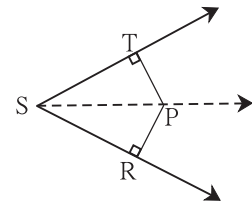
مشقی سیٹ 3.4



شکل 3.48

(1) شکل 3.48 میں، نقطہ A، یہ $\angle XYZ$ کے ناصف پر واقع ہے۔

اگر $AX = 2$ سم ہو تو AZ معلوم کیجیے۔



شکل 3.49

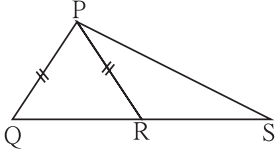
شکل 3.49 میں $\angle RST = 56^\circ$ ، شعاع $ST \perp$ قطعہ PT،

شعاع $SR \perp$ قطعہ PR اور قطعہ $PT \cong$ قطعہ PR ہو تو $\angle RSP$ معلوم کیجیے۔ وجہ لکھیے۔

(3) $\triangle PQR$ میں $PQ = 10$ سم، $QR = 12$ سم، $PR = 8$ سم ہو تو مثلث کا سب سے بڑا اور سب سے چھوٹا زاویہ معلوم کیجیے۔

(4) $\triangle FAN$ میں، $\angle A = 40^\circ$ ، $\angle F = 80^\circ$ ہو تو مثلث کے سب سے بڑے اور سب سے چھوٹے ضلع کے نام وجہ کے ساتھ لکھیے؟

(5) ثابت کیجیے کہ تساوی الاضلاع مثلث ”تساوی الزاویہ مثلث“ ہوتا ہے۔

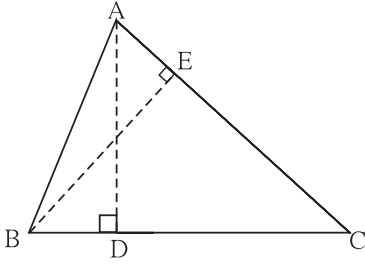


شکل 3.50

(6) $\triangle ABC$ میں، $\angle BAC$ کا نصف، ضلع BC پر عمود ہو تو ثابت کیجیے کہ $\triangle ABC$ ،
متساوی الساقین مثلث ہیں۔

(7) شکل 3.50 میں اگر قطعہ PQ \cong قطعہ PR ہو تو دکھائیے کہ

$$PQ > PS$$



شکل 3.51

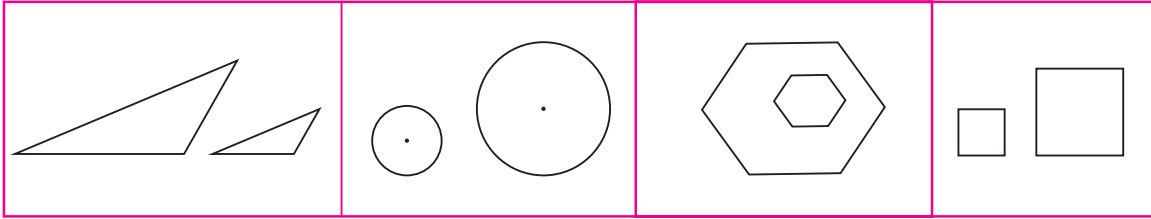
(8) شکل 3.51 میں $\triangle ABC$ کے قطعہ AD اور قطعہ BE ارتفاع ہیں اور

$$AE = BD$$




متشابه مثلث (Similar Triangles)

مقابل کے اشکال کا مشاہدہ کیجیے۔



ہر حصہ میں دکھائی ہوئی دو-دو شکلوں کی جسامت (Shape) ایک جیسی ہے۔ لیکن وہ شکلیں چھوٹی بڑی ہیں، یعنی وہ متماثل نہیں ہیں۔
ایسی ایک جیسی دکھائی دینے والی شکلیں، یعنی ایسی ہو بہو نظر آنے والی شکلیں متشابه شکلیں کہلاتی ہیں۔



کسی فوٹو، اس فوٹو کی مدد سے نکالا گیا بڑا فوٹو اس میں تشابہت پائی جاتی ہے۔ اسی طرح راستہ اور راستے کا نقشہ میں تشابہت پائی جاتی ہے۔
دو شکلوں کے درمیان اضلاع کی تناسب، تشابہت اشکال کی اہم خصوصیت ہے۔ تشابہت شکلوں میں اگر زاویے ہوں تب وہ متماثل ہوتے ہیں، اسی پیمائش کے رہنا ضروری ہے۔ دو راستوں میں جو زاویہ ہے، وہی زاویہ ان کے نقشہ میں نہ ہو تو وہ نقشہ غلطی پیدا کر سکتا ہے۔

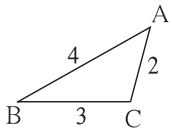
ITC Tools or Links



موبائل یا کمپیوٹر پر کوئی فوٹو دیکھیے، اسے چھوٹا یا بڑا بنانے کے لیے آپ کیا کرتے ہیں؟ اسے یاد کیجیے۔
اسی طرح کسی فوٹو کا مخصوص حصہ دیکھنے کے لیے آپ کون سا عمل کرتے ہیں۔ یاد کیجیے۔

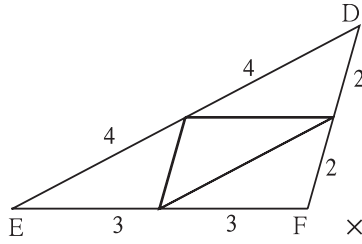
اب ہم تشابہت مثلث کی خصوصیت ایک عمل کے ذریعے سمجھنے کی کوشش کریں گے۔

عملی کام : 4 سم، 3 سم اور 2 سم ضلعوں والا ایک مثلث کاغذ پر بنائیے۔ اس مثلث کو ایک موٹے کاغذ پر رکھیے۔ اس کے اطراف پنسل گھما کر اس قسم کے 14 مثلث کاٹ کر تیار کیجیے۔ کاغذ کے یہ مثلثی ٹکڑے متماثل ہیں اس بات کو دھیان میں رکھیں۔ انھیں ذیل کے مطابق ترتیب دے کر تین مثلث بنائیے۔



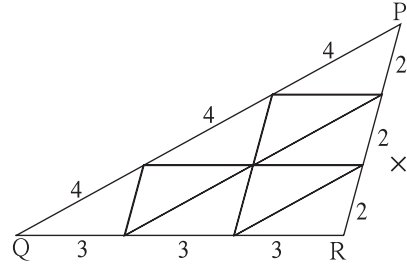
شکل 3.52

مثلث کی تعداد 1



شکل 3.53

مثلث کی تعداد 4



شکل 3.54

مثلث کی تعداد 9

ΔABC اور ΔDEF ، یہ $ABC \leftrightarrow DEF$ مطابقت کے لحاظ سے تشابہت ہیں۔

$$\angle A \cong \angle D, \angle B \cong \angle E, \angle C \cong \angle F$$

اور

$$\frac{AB}{DE} = \frac{4}{8} = \frac{1}{2}; \quad \frac{BC}{EF} = \frac{3}{6} = \frac{1}{2}; \quad \frac{AC}{DF} = \frac{2}{4} = \frac{1}{2}$$

یعنی نظیری ضلعے تناسب میں ہیں۔

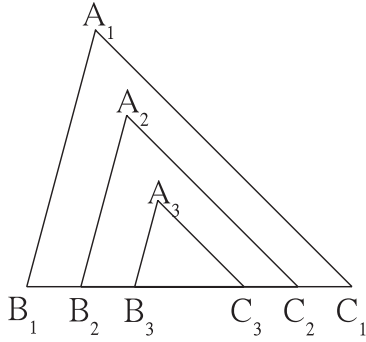
اسی طرح ΔDEF اور ΔPQR پر غور کیجیے۔

اس مطابقت کے لحاظ سے کیا ان کے زاویے متماثل اور ضلع تناسب میں ہیں؟ $DEF \leftrightarrow PQR$

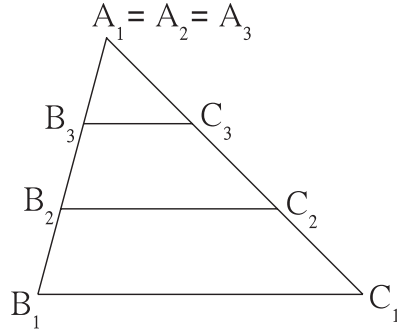


- (i) $\angle A = \angle P$ ، $\angle B = \angle Q$ ، $\angle C = \angle R$ میں اگر $\triangle PQR$ اور $\triangle ABC$ ہو تو $\frac{AB}{PQ} = \frac{BC}{QR} = \frac{AC}{PR}$ (ii) مشابہ مثلث ہیں۔
 'مثلثوں کے نظیری زاویے اور نظیری ضلعوں کے درمیان باہمی تعلق ذیل کے عملی کام سے سمجھ لیں۔'
 'مثلثوں کے نظیری زاویے اور نظیری ضلعوں کے درمیان باہمی تعلق ذیل کے عملی کام سے سمجھ لیں۔'

عملی کام : $\triangle A_1B_1C_1$ نام کا کوئی ایک مثلث دبیز کاغذ (کارڈ شیٹ) پر بنائیے اور اسے کاٹ لیجیے۔ $\angle A_1$ ، $\angle B_1$ اور $\angle C_1$ کی پیمائش ناپیے۔
 اسی طرح دبیز کاغذ پر $\triangle A_2B_2C_2$ اور $\triangle A_3B_3C_3$ نام کے مزید دو مثلث بنائیے اس طرح کہ $\angle A_1 = \angle A_2 = \angle A_3$ ،
 $\angle B_1 = \angle B_2 = \angle B_3$ اور $\angle C_1 = \angle C_2 = \angle C_3$ لیکن $B_1C_1 > B_2C_2 > B_3C_3$
 اب ان دو مثلثوں کو کاٹ کر بازو میں رکھیے۔ تینوں مثلثوں کے اضلاع کی لمبائی ناپیے۔ ان مثلثوں کو ذیل کے دونوں طریقے کے مطابق ترتیب دیجیے۔



شکل 3.55



شکل 3.56

ان نسبتوں کی جانچ کیجیے۔ وہ مساوی ہیں، یہ تصدیق کیجیے۔
 $\frac{A_1B_1}{A_2B_2}$ ، $\frac{B_1C_1}{B_2C_2}$ ، $\frac{A_1C_1}{A_2C_2}$

اسی طرح $\frac{A_1C_1}{A_3C_3}$ ، $\frac{B_1C_1}{B_3C_3}$ ، $\frac{A_1B_1}{A_3B_3}$ کیا یہ نسبتیں بھی مساوی ہیں، معلوم کیجیے۔

اس عملی کام سے یہ بات ذہن نشین کیجیے کہ جن مثلثوں کے نظیری زاویے مساوی پیمائش کے ہوتے ہیں، ان کے نظیری اضلاع کی نسبتیں بھی مساوی ہوتی ہیں۔ یعنی ان کے نظیری اضلاع یکساں تناسب میں ہوتے ہیں۔

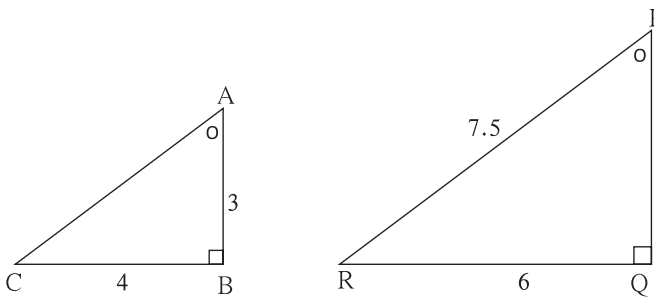
ہم نے دیکھا کہ $\triangle PQR$ اور $\triangle ABC$ میں اگر (i) $\angle A = \angle P$ ، $\angle B = \angle Q$ ، $\angle C = \angle R$ ہو تب (ii) $\frac{AB}{PQ} = \frac{BC}{QR} = \frac{AC}{PR}$

یعنی اگر نظیری زاویے مساوی ہوں تب نظیری اضلاع یکساں تناسب میں ہوتے ہیں۔ اس اصول کو تھوڑی محنت سے ثابت کر سکتے ہیں۔ ہم اسے کئی مثالوں میں استعمال کرنے والے ہیں۔

اسے دھیان میں رکھیں



- دو مثلثوں کے نظیری زاویے مساوی ہوں تب، وہ دونوں مثلث متشابہ ہوتے ہیں۔
- دو مثلث متشابہ ہوتے ہیں تب ان کے نظیری اضلاع تناسب میں ہوتے ہیں اور نظیری زاویے متماثل ہوتے ہیں۔



شکل 3.57

مثال : شکل 3.57 میں $\triangle ABC$ اور $\triangle PQR$ دکھائے ہوئے ہیں۔

ان دو مثلثوں میں دی ہوئی معلومات کا مشاہدہ کیجیے۔ اس بناء پر جن کی لمبائیاں نہیں دی ہوئی ہو، ان اضلاع کی لمبائیاں معلوم کیجیے۔

حل : ہر مثلث کے تمام داخلہ کے زاویوں کی پیمائشوں کا مجموعہ 180° ہوتا ہے۔ دی ہوئی معلومات کے مطابق،

$$\angle A = \angle P \text{ اور } \angle B = \angle Q, \therefore \angle C = \angle R$$

اس لیے $\triangle ABC$ اور $\triangle PQR$ متشابہ الزاویہ ہیں۔

$$\therefore 4 \times PQ = 18$$

$$\therefore PQ = \frac{18}{4} = 4.5$$

$$6 \times AC = 7.5 \times 4, \text{ اسی طرح،}$$

$$\therefore AC = \frac{7.5 \times 4}{6} = \frac{30}{6} = 5$$

\therefore ان کے اضلاع یکساں تناسب میں ہیں۔

$$\therefore \frac{AB}{PQ} = \frac{BC}{QR} = \frac{AC}{PR}$$

$$\therefore \frac{3}{4.5} = \frac{4}{6} = \frac{AC}{7.5}$$

مشقی سیٹ 3.5

(1) اگر $\triangle XYZ \sim \triangle LMN$ ہو تب ان کے متماثل نظیری زاویے لکھیے اور نظیری اضلاع کی نسبتیں لکھیے۔

(2) $\triangle XYZ$ میں سم $XY=4$ ، سم $YZ=6$ ، سم $XZ=5$ ، اگر $\triangle XYZ \sim \triangle PQR$ ہو تو $PQ=8$ کے

بقیہ اضلاع کی لمبائیاں معلوم کیجیے۔

(3) متشابہ مثلثوں کی جوڑی کی کچی (رف) شکل بنائیے۔ مثلثوں کے نام دیجیے۔ ان کے نظیری زاویوں کو یکساں نشانات سے دکھائیے۔ اور مثلثوں کے نظیری

اضلاع کی لمبائیوں کو تناسب میں بتانے والے اعداد سے ظاہر کیجیے۔

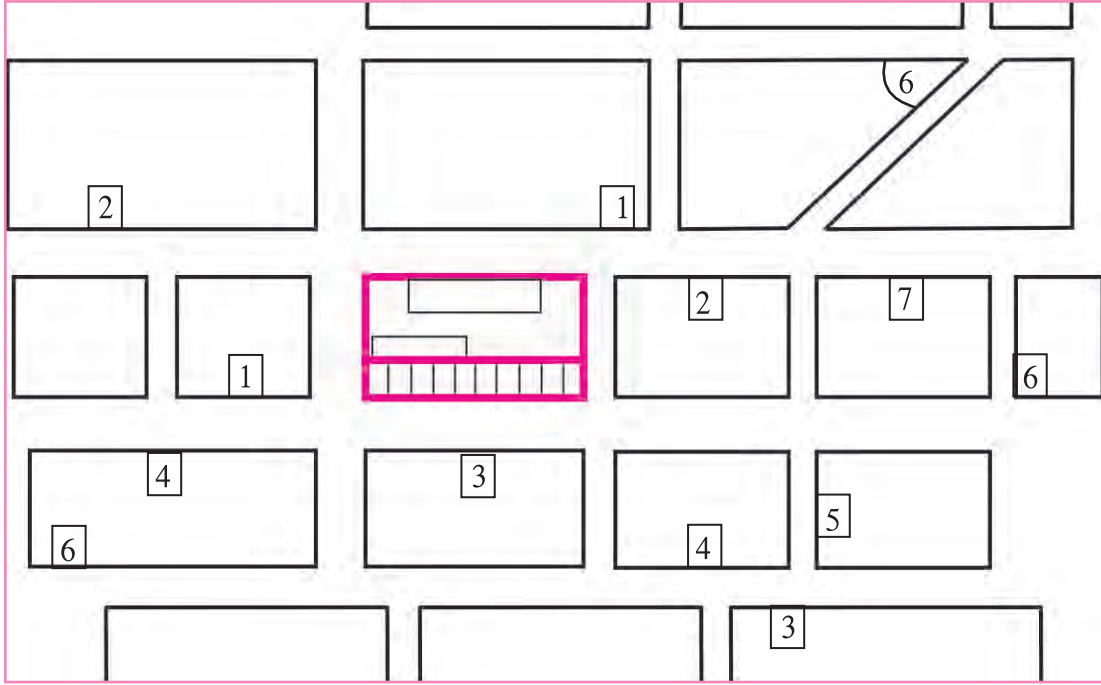
آئیے ذرا یاد کریں



آپ کو نقشہ بناتے وقت راستے پر فاصلہ مناسب پیمانے میں دکھانا ہے۔ جیسے میٹر 1 = 100 سم یا میٹر 1 = 50 سم۔
کیا آپ نے مثلث کی خصوصیت پر غور کیا؟ مثلث کے بڑے زاویے کے مقابل بڑا ہوتا ہے۔ ذرا یاد کیجیے۔

عملی کام :

آپ کے اسکول یا گھر کے اطراف کے 500 میٹر علاقہ کے راستے کا نقشہ تیار کرنا ہے۔ راستے کے دو مقام کے درمیان کا فاصلہ آپ کیسے ناپیں گے؟ عام طور پر 2 میٹر فاصلہ، آپ کتنے قدم چل کر طے کرتے ہیں؟ وہ دیکھیے۔ فرض کیجیے، دو میٹر فاصلہ میں تین قدم چلا جائے، تب اس تناسب سے 90 قدم یعنی 60 میٹر، اس طرح فرضی طور پر مقام طے کیجیے۔ مختصراً، اطراف کے تمام راستوں پر چل کر آپ کو مختلف فاصلے طے کرنا ہوگا۔ بعد میں جہاں راستے ایک دوسرے کو قطع کرتے ہیں وہاں جو زاویہ بنتا ہے اس کی پیمائش کا اندازہ لگائیے۔ راستے کی ناپنی ہوئی لمبائی کے لیے مناسب پیمانہ لے کر نقشہ تیار کیجیے۔ اطراف کے دکانیں، چھوٹی دکانیں (پٹریاں)، عمارتیں، بس اسٹینڈ، آٹورکشا اسٹینڈ وغیرہ ظاہر کرنے کی کوشش کیجیے۔ ذیل میں نقشہ کا ایک نمونہ دیا ہوا ہے اور اس کی فہرست بھی دی ہوئی ہے۔



فہرست : 1. کتابوں کی دکان 2. بس اسٹینڈ 3. اسٹیشنری دکان 4. بینک
5. میڈیکل اسٹور 6. ہوٹل 7. سائیکل کی دکان

(1) ذیل میں دیے ہوئے کثیر متبادل سوالوں کے جواب میں سے صحیح جواب منتخب کیجیے۔

(i) ایک مثلث کے دو اضلاع 5 سم اور 1.5 سم ہوں تب مثلث کے تیسرے ضلع کی لمبائی نہیں ہوگی۔

- (A) 3.7 سم (B) 4.1 سم (C) 3.8 سم (D) 3.4 سم

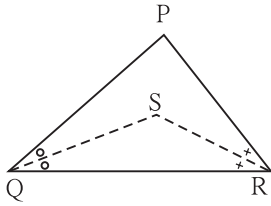
(ii) $\triangle PQR$ میں جب $\angle R > \angle Q$ ہو تو ہوگا۔

- (A) $QR > PR$ (B) $PQ > PR$ (C) $PQ < PR$ (D) $QR < PR$

(iii) $\triangle TPQ$ میں $\angle P = 95^\circ$ ، $\angle T = 65^\circ$ ہو تب درج ذیل بیانات میں سے صحیح بیان کون سا ہے؟

- (A) $PQ < TP$ (B) $PQ < TQ$ (C) $TQ < TP < PQ$ (D) $PQ < TP < TQ$

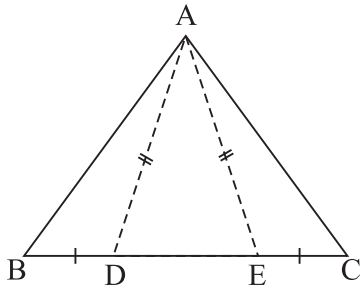
(2) $\triangle ABC$ متساوی الساقین مثلث ہے۔ جس میں $AB = AC$ ہے اور قطعہ BD اور CE دو وسطا پے ہیں تو دکھائیے کہ $BD = CE$



شکل 3.58

(3) $\triangle PQR$ میں اگر $PQ > PR$ ہے اور $\angle Q$ اور $\angle R$ کے ناصف ایک دوسرے کو

نقطہ S پر قطع کرتے ہیں۔ تو دکھائیے کہ $SQ > SR$

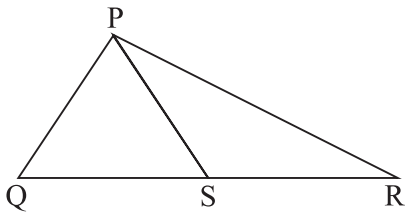


شکل 3.59

(4) شکل 3.59 میں $\triangle ABC$ کے ضلع BC پر نقطہ D اور E نقاط اس طرح واقع

ہیں کہ $BD = CE$ ، اسی طرح $AD = AE$ تو دکھائیے کہ

$$\triangle ABD \cong \triangle ACE$$

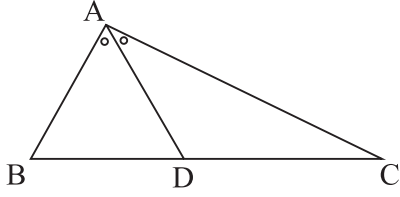


شکل 3.60

(5) شکل 3.60 میں $\triangle PQR$ کے ضلع QR پر نقطہ S کوئی ایک نقطہ ہے۔

ثابت کیجیے کہ

$$PQ + QR + RP > 2PS$$



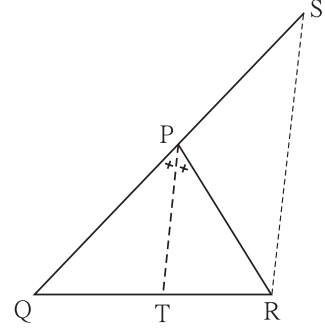
شکل 3.61

(6) شکل 3.61 میں $\triangle ABC$ کے $\angle BAC$ کا ناصف قطعہ BC کو نقطہ D پر

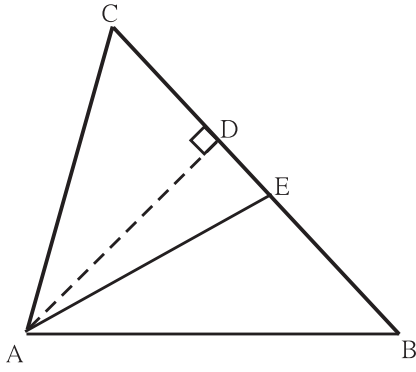
قطع کرتا ہے۔ ثابت کیجیے کہ $AB > BD$

شکل 3.62 میں قطعہ PT، یہ $\angle QPR$ کا ناصف ہے نقطہ R سے، قطعہ PT کے متوازی خط،

شعاع QP کو نقطہ S پر قطع کرتا ہے۔ تو ثابت کیجیے کہ $PS = PR$



شکل 3.62



شکل 3.63

(8) شکل 3.63 میں BC قطعہ $AD \perp$ قطعہ، قطعہ AE، یہ $\angle CAB$ کا ناصف

ہے اور E - D - C ہو تو دکھائیے کہ

$$m\angle DAE = \frac{1}{2} (m\angle C - m\angle B)$$

غور کیجیے



ہم نے سیکھا کہ دو مثلث متشابه زاویہ ہوں تب ان کے نظیری اضلاع یکساں تناسب میں ہوتے ہیں۔ دو ذواربعہ الاضلاع متشابه زاویہ ہوں تب کیا ان کے

نظیری اضلاع یکساں تناسب میں ہوتے ہیں؟

مختلف شکلیں بنا کر تصدیق کیجیے۔

اس خصوصیت کو دیگر کثیر الاضلاع سے متعلق جانچیے۔





مشث بنانا Constructions of triangles

4

آئیے، سیکھیں



- مشث کے ارکان کی ذیل کے مطابق معلومات دی جائے تو مشث بنانا۔
- قاعدہ، قاعدے کا کوئی ایک زاویہ اور بقیہ دو اضلاع کی لمبائیوں کا مجموعہ
- قاعدہ، قاعدے کا کوئی ایک زاویہ اور باقی ماندہ دو اضلاع کی لمبائیوں کا فرق
- مشث کا احاطہ اور قاعدے پر کے زاویے

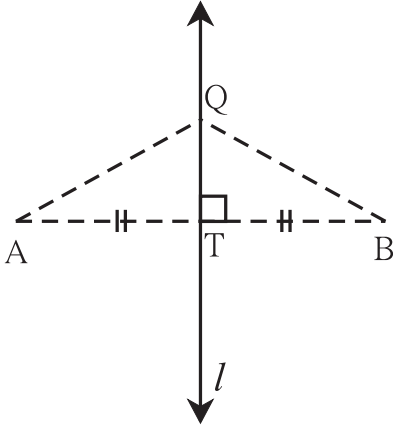
آئیے ذرا یاد کریں



گزشتہ جماعت میں ہم نے ذیل کے مشث بنانے کا عمل سیکھا ہے۔

- ★ تمام اضلاع کی لمبائی دی ہو تو مشث بنانا۔
- ★ قاعدہ اور اسے شامل کرنے والے زاویے دیے ہوں تو مشث بنانا۔
- ★ دو اضلاع اور ان میں شامل زاویہ دیا ہو تو مشث بنانا۔
- ★ وتر اور ایک ضلع دیا ہو تو مشث بنانا۔

عمودی ناصف کا مسئلہ :



شکل 4.1

- دیے ہوئے قطعہ خط کے عمودی ناصف پر واقع ہر نقطہ، اس قطعہ خط کے اختتامی نقاط سے مساوی فاصلہ پر ہوتا ہے۔
- قطعہ خط کے اختتامی نقاط سے مساوی فاصلہ پر واقع ہر نقطہ، قطعہ خط کے سروں سے ہم فاصلہ ہوتا ہے۔

آئیے سمجھ لیں

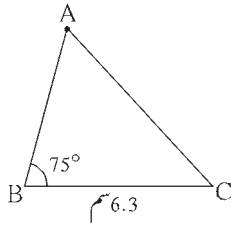


مشث بنانا (Construction of triangles)

مشث کی بنانے کے لیے تین اہم ارکان کی ضرورت ہوتی ہے۔ تین زاویے اور تین اضلاع میں سے صرف 2 ارکان اور اس کے علاوہ اس مشث کے تعلق سے کوئی معلومات دی جائے تب اس معلومات اور دیے ہوئے دو ارکان کا استعمال کر کے مشث کس طرح بنایا جاتا ہے، اسے دیکھیں گے۔ کوئی نقطہ، دو مختلف خطوط پر واقع ہو تو وہ نقطہ، ان خطوط کا نقطہ تقاطع ہوتا ہے۔ اس خصوصیت کا ذیل کے ہندسی عمل میں کئی مرتبہ استعمال ہوا ہے۔

مثلث کا قاعدہ، قاعدہ پر کا ایک زاویہ اور باقی ماندہ دو اضلاع کی لمبائیوں کا مجموعہ دیا ہو تو مثلث بنانا۔

مثال: ΔABC اس طرح بنائیے۔ جس میں سم $BC = 6.3$ ، $\angle B = 75^\circ$ اور سم $AB + AC = 9$ ۔
حل: پہلے ہم مطلوبہ مثلث کی کچی شکل بنائیں گے۔



کچی شکل 4.2

وضاحت: کچی شکل میں دکھائے ہوئے کے مطابق سم $BC = 6.3$ کا قطعہ کھینچیں۔ نقطہ B پر قطعہ BC سے

75° زاویہ بنانے والی شعاع پر نقطہ D اس طرح لیجیے کہ سم $BD = AB + AC = 9$

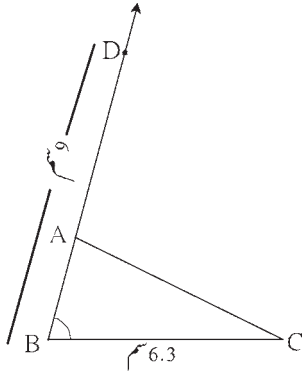
شعاع BD پر نقطہ A معلوم کرنا ہے۔

$$BA + AD = BA + AC = 9$$

$$\therefore AD = AC$$

\therefore اس لیے نقطہ A، قطعہ CD کے عمودی ناصف پر ہے۔

اس لیے شعاع BD اور قطعہ CD کا عمودی ناصف کے نقطہ تقاطع یعنی A ہے۔



کچی شکل 4.3

ہندی عمل کے مراحل:

(1) سم لمبائی کا قطعہ BC کھینچیں۔

(2) نقطہ B سے 75° کا زاویہ بنانے والی شعاع BP کھینچیں۔

(3) شعاع BP پر نقطہ D اس طرح لیجیے کہ

$$d(B, D) = 9 \text{ سم}$$

(4) قطعہ DC کھینچیں۔

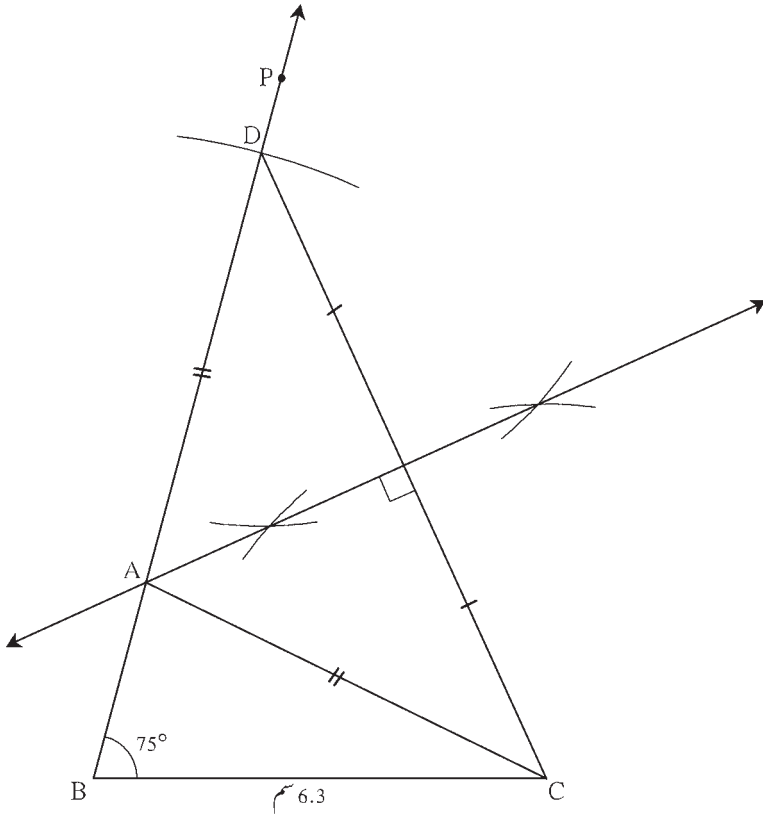
(5) قطعہ DC کا عمودی ناصف کھینچیں۔

(6) قطعہ DC کا عمودی ناصف اور شعاع BP کے

نقطہ تقاطع کو A نام دیجیے۔

(7) قطعہ AC کھینچیں۔

ΔABC مطلوبہ مثلث ہے۔



کچی شکل 4.4

مشقی سیٹ 4.1

1. ΔPQR بنائے۔ جس میں $QR = 4.2$ سم قاعدہ، $m\angle Q = 40^\circ$ اور $PQ + PR = 8.5$ سم
2. ΔXYZ بنائے۔ جس میں $YZ = 6$ سم قاعدہ، $XY + XZ = 9$ سم اور $m\angle XYZ = 50^\circ$
3. ΔABC بنائے۔ جس میں $BC = 6.2$ سم قاعدہ، $m\angle ACB = 50^\circ$ اور $AB + AC = 9.8$ سم
4. ΔABC بنائے۔ جس میں $BC = 3.2$ سم قاعدہ، $m\angle ACB = 45^\circ$ اور ΔABC کا احاطہ 10 سم ہے۔

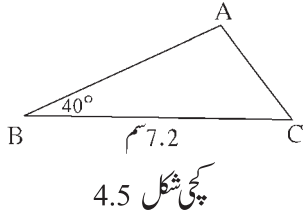
ہندی عمل II

مثلث کا قاعدہ، باقی ماندہ دو اضلاع کی لمبائیوں کا فرق اور قاعدہ پر کا کوئی ایک زاویہ دیا ہوا ہو تو مثلث بنانا۔

مثال : ΔABC میں $BC = 7.5$ سم، $m\angle ACB = 40^\circ$

سم $AB - AC = 3$ ہو تو ΔABC بنائے۔

حل : پہلے ہم مطلوبہ شکل کی کچی شکل بنائیں گے۔



کچی شکل 4.5

وضاحت : سم $AB - AC = 3$ اس لیے $AB > AC$ ، قطعہ BC کھینچے۔ قطعہ BC سے 40°

زاویہ بنانے والی شعاع BL کھینچے۔ اس شعاع پر نقطہ A معلوم کرنا ہے۔

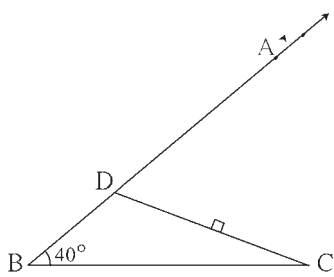
نقطہ D شعاع BL پر اس طرح لیجیے کہ $BD = 3$ سم اور $B-D-A$

$AB - AC = 3$ (دیا ہوا ہے) اور $BD = AB - AD = 3$

$$AD = AC$$

اس لیے نقطہ A قطعہ DC کے عمودی ناصف پر واقع ہے۔

اس لیے نقطہ A شعاع BL اور قطعہ DC کے عمودی ناصف کا نقطہ تقاطع ہے۔



کچی شکل 4.6

ہندی عمل کے مراحل :

(1) 7.5 سم لمبائی کا قطعہ BC کھینچے۔

(2) نقطہ B سے 40° زاویہ بنانے والی شعاع BL کھینچے۔

(3) شعاع BL پر نقطہ D اس طرح لیجیے کہ $BD = 3$ سم

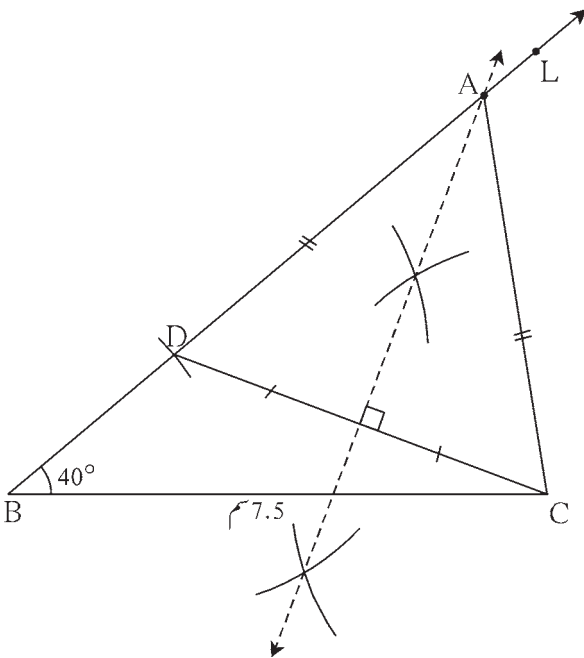
(4) قطعہ CD پر اس کا عمودی ناصف کھینچے۔

(5) قطعہ CD کا عمودی ناصف، شعاع BL کو جہاں قطع کرتا ہے، اس

نقطہ کا نام A دیجیے۔

(6) قطعہ AC کھینچے۔

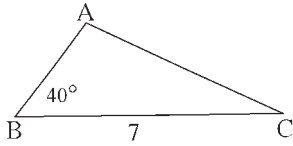
ΔABC مطلوبہ مثلث ہے۔



کچی شکل 4.7

مثال 2. ΔABC میں سم $BC = 7$ ضلع، $\angle B = 40^\circ$ اور سم $AC - AB = 3$ ہو تو ΔABC بنائیے۔

حل : کچی شکل بنائیں گے۔



کچی شکل 4.8

سم $BC = 7$ کھینچیں - $AC > AB$

قطعہ BC کے نقطہ B سے 40° کا زاویہ بنانے والی شعاع BT کھینچ سکتے

ہیں۔ اس شعاع پر نقطہ A واقع ہے شعاع BT کی مخالف شعاع پر نقطہ D اس طرح

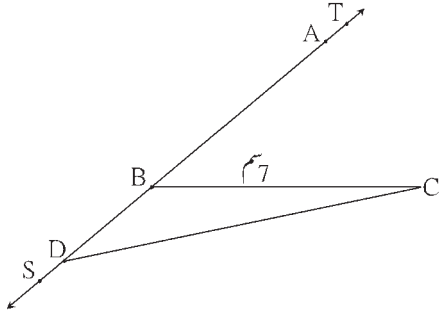
لیجیے کہ سم $BD = 3$

اب $AD = AB + BD = AB + 3 = AC$

کیونکہ دیا ہوا ہے۔ سم $AC - AB = 3$

$\therefore AD = AC$

اس لیے نقطہ A قطعہ CD کے عمودی ناصف پر واقع ہے۔



کچی شکل 4.9

ہندسی عمل کے مراحل :

(1) سم لمبائی کا قطعہ BC کھینچیں۔

(2) نقطہ B سے 40° زاویہ بنانے والی

شعاع BT کھینچیں۔

(3) شعاع BT کے مخالف شعاع BS پر نقطہ

D اس طرح لیجیے کہ سم $BD = 3$

(4) قطعہ DC کا عمودی ناصف کھینچیں۔

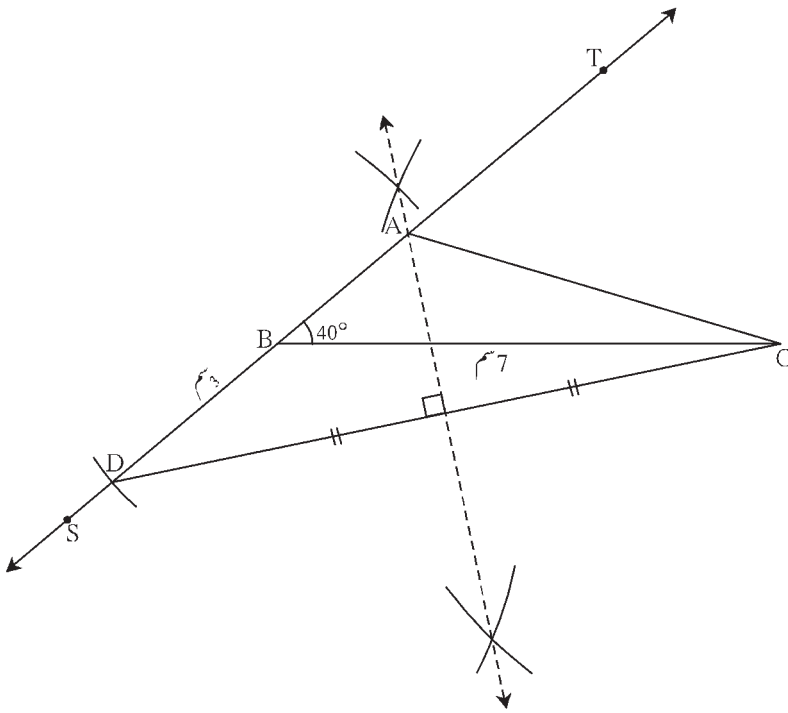
(5) قطعہ DC کا عمودی ناصف،

شعاع BT کو جہاں قطع کرتا ہے، اس نقطہ

کو A نام دیجیے۔

(6) قطعہ AC کھینچیں۔

ΔABC مطلوبہ مثلث ہے۔



کچی شکل 4.10

مشقی سیٹ 4.2

(1) ΔXYZ بنائیے۔ جس میں سم $YZ = 7.4$ ، $m\angle XYZ = 45^\circ$ اور سم $XY - XZ = 2.7$

(2) ΔPQR بنائیے۔ جس میں سم $QR = 6.5$ ، $m\angle PQR = 40^\circ$ اور سم $PQ - PR = 2.5$

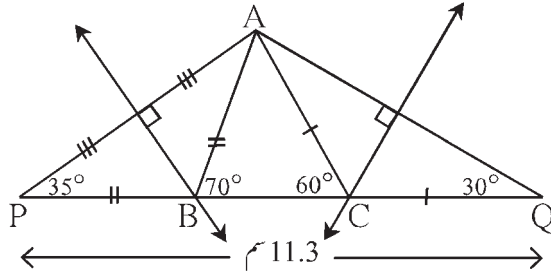
(3) ΔABC بنائیے۔ جس میں سم $BC = 6$ ، $m\angle ABC = 100^\circ$ اور سم $AC - AB = 2.5$

ہندسی عمل III

مثالث کا احاطہ اور قاعدہ پر کے دونوں زاویے دیے ہوں تو مثالث بنانا۔

مثال : ΔABC میں سم $AB + BC + AC = 11.3$ ، $\angle B = 70^\circ$ ، $\angle C = 60^\circ$ ہوتے ΔABC بنائیے۔

حل : کچی شکل بنائیں گے۔



کچی شکل 4.11

وضاحت : اس شکل میں قطعہ BC پر نقاط P اور Q اس طرح لیا کہ

$$PB = AB, CQ = AC$$

$$PQ = PB + BC + CQ = AB + BC + AC = 11.3 \text{ سم}$$

اب ΔPAB میں، $PB = BA$ (عمل)

(بعید داخلہ زاویوں کا مسئلہ) ... $\angle ABC = 70^\circ$ کا خارجہ زاویہ $\angle APB + \angle PAB = \angle APB = \angle PAB$ اور

$$\therefore \angle APB = \angle PAB = 35^\circ \text{ اسی طرح } , \angle CQA = \angle CAQ = 30^\circ$$

اب مثالث ΔPAQ بنایا جاسکتا ہے کیونکہ اس کے دو زاویے اور ان کو شامل کرنے والا ضلع PQ معلوم ہے۔

پھر $BA = BP$ اس لیے نقطہ B قطعہ AP کے عمودی ناصف پر ہے۔ اور $CA = CQ$

اس لیے نقطہ C قطعہ AQ کے عمودی ناصف پر ہے۔

\therefore AP اور AQ کے عمودی ناصف کھینچیں۔ یہ خط PQ کو جہاں قطع کرتے ہیں وہاں بالترتیب B اور C نقطہ حاصل ہوتا ہے۔

ہندسی عمل کے مراحل :

(1) 11.3 سم لمبائی کا قطعہ PQ کھینچیں۔

(2) نقطہ P پر 35° پیمائش کا زاویہ بنانے والی شعاع کھینچیں۔

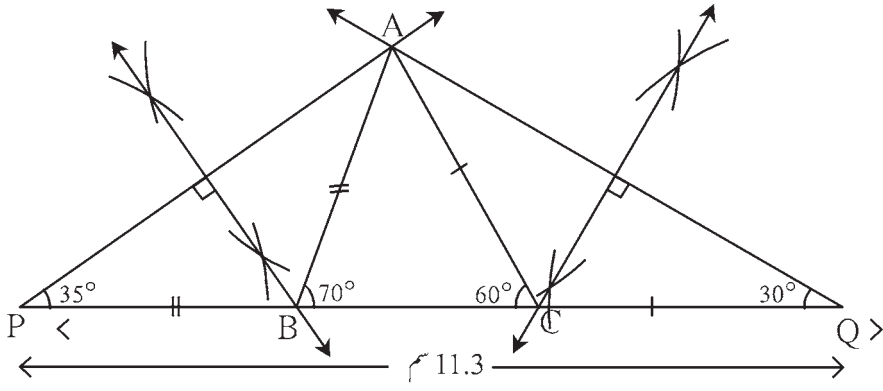
(3) نقطہ Q پر 30° پیمائش کا زاویہ بنانے والی شعاع کھینچیں۔

(4) دونوں شعاعوں کے نقطہ تقاطع کو A نام دیجیے۔

(5) قطعہ AP اور AQ کا عمودی ناصف کھینچیں۔ وہ خط PQ کو جن نقاط پر قطع کرتے ہیں انہیں بالترتیب B اور C نام دیجیے۔

(6) قطعہ AB اور قطعہ AC کھینچیں۔

ΔABC مطلوبہ مثالث ہے۔



کچی شکل 4.12

مشقی سیٹ 4.3

1. ΔPQR اس طرح بنائیے کہ $\angle Q = 70^\circ$ ، $\angle R = 80^\circ$ اور سم $PQ + QR + PR = 9.5$
2. ΔXYZ اس طرح بنائیے کہ $\angle Y = 58^\circ$ ، $\angle X = 46^\circ$ اور مثلث کا احاطہ 10.5 سم ہے۔
3. ΔLMN اس طرح بنائیے کہ $\angle M = 60^\circ$ ، $\angle N = 80^\circ$ اور سم $LM + MN + NL = 11$

مجموعہ سوالات 4

1. ΔXYZ اس طرح بنائیے کہ سم $XY + XZ = 10.3$ ، سم $YZ = 4.9$ ، $\angle XYZ = 45^\circ$
2. ΔABC اس طرح بنائیے کہ $\angle B = 70^\circ$ ، $\angle C = 60^\circ$ اور سم $AB + BC + CA = 11.2$
3. ایسا مثلث بنائیے۔ جس مثلث کا احاطہ 14.4 سم ہے اور جس کے اضلاع کی نسبت 2 : 3 : 4 ہے۔
4. ΔPQR اس طرح بنائیے کہ سم $PQ - PR = 2.4$ ، سم $QR = 6.4$ اور $\angle PQR = 55^\circ$

ITC Tools or Links



دیے ہوئے مثلث کو کمپیوٹر پر 'جیوجیرا' سافٹ ویئر کی مدد سے بنائیے اور لطف اٹھائیے۔ ہندسی عمل 3 کو سافٹ ویئر میں مختلف طریقوں سے بنا کر دکھایا گیا ہے۔ اس طریقہ کا بھی عملی مطالعہ کیجیے۔





ذو اربعۃ الاضلاع Quadrilateral

5

آئیے، سیکھیں



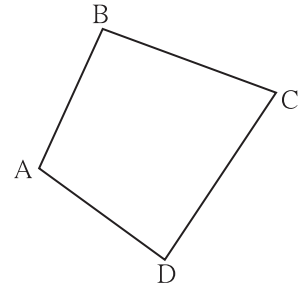
- متوازی الاضلاع
- متوازی الاضلاع کی کسوٹیاں
- مستطیل
- مربع
- مثلث کے دو ضلعوں کے وسطی نقطہ کا مسئلہ
- معین
- ذوزنقہ

آئیے ذرا یاد کریں



1. □ ABCD سے متعلق درج ذیل جوڑیاں لکھیے۔

متوازی ضلعوں کی جوڑیاں



شکل 5.1

(1) ، (2) ، (1) ، (2) ،

(3) ، (4) ، (3) ، (4) ،

مقابلہ کے ضلعوں کی جوڑیاں : (1) ، (2) ،

مقابلہ کے زاویوں کی جوڑیاں : (1) ، (2) ،

یاد کیجیے، میری قسمیں اور خصوصیت دیکھیے

میں ذو اربعۃ الاضلاع ہوں

میرے تمام زاویے مساوی
تمام ضلعے مساوی



میری خصوصیت

- وتر ↓

میرے تمام اضلاع مساوی
لمبائی کے



میری خصوصیت

- مقابلہ کے زاویے ↓
- وتر

میرے تمام زاویے قائمہ



میری خصوصیت

- مقابلہ کے ضلع ↓
- وتر

میری مقابلہ کے ضلعوں
کی دونوں جوڑیاں متوازی



میری خصوصیت

- مقابلہ کے ضلع متماثل ↓
- مقابلہ کے زاویے ↓
- وتر

میرے مقابلہ کے ضلعوں کی ایک جوڑی متوازی ہے۔



ذوابعثه الاضلاع كى مختلف قسمى اور ان كى خصوصىات آپ كو معلوم هىں۔ ضلع اور زاوىے كى پىمائش كرنا، تبه كرنا، جىسے عملى كام كے ذرىعے انھىں آپ سمجھ چكے هىں۔ تواب هم مطالعه كرئں گے كه ىه خصوصىت منطق سے كس طرء ثابت كرتے هىں۔

كسى خصوصىت كو منطق سے ثابت كرتے هىں تب اس خصوصىت كو مسئله كهتے هىں۔

مستطىل، معىن اور مربع ىه مخصوص متوازى الاضلاع هىں۔ كس طرء، ىه اس سبب كے مطالعه سے آپ سمجھ جائىں گے، اس لىه مطالعه كى شروعات هم متوازى الاضلاع سے كرئں گے۔

آئى سمجھ لىں




متوازى الاضلاع (Parallelogram)

جس ذوابعثه الاضلاع مقابل كے ضلعوں كى جوڑىاں متوازى هوتى هىں۔ اس ذوابعثه الاضلاع كو متوازى الاضلاع كهتے هىں۔

مسئله ثابت كرتے وقت، مثالىں حل كرتے وقت، اس ذوابعثه الاضلاع كى شكل بار بار بنانا هوتى هے۔ لهند اس شكل كو كس طرء بنایا جاسكتا هے اس پر غور كرئں گے۔

فرض كىچھ همىں $\square ABCD$ ، متوازى الاضلاع بنانا هے۔

طرىقه I :




شكل 5.2

• پہلے AB اور BC كوئى بهى لمبائى كے اور اىك دوسرے سے كوئى بهى پىمائش كا زاوىه بنانے والے قطعہ خط كھىچئے۔

• اب قطعہ AD اور قطعہ BC متوازى هونا چاهىے۔ اس لىه نقطه A سے قطعہ BC كے متوازى خط كھىچئے۔

• اسى طرء DC قطعہ \parallel AB قطعہ، اس لىه نقطه C سے قطعہ AB كے متوازى خط كھىچئے۔ دونوں خط جس نقطه پر قطع كرتے هىں، وه نقطه D هے۔ لهند اس طرء بننے والا ذوابعثه الاضلاع ABCD، متوازى الاضلاع هے۔

طرىقه II :



شكل 5.3

• قطعہ AB اور قطعہ BC كوئى بهى لمبائى كے اىك دوسرے سے كسى بهى پىمائش كا زاوىه بنانے والے قطعات كھىچئے۔

• كمپاس مىں BC فاصلہ لے كر اور نقطه A كو مركز زمان كر اىك قوس كھىچئے۔

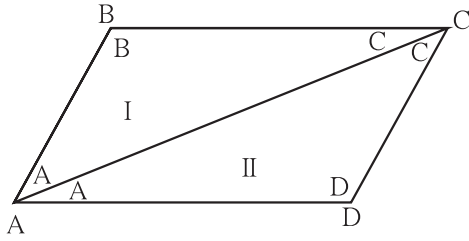
• كمپاس مىں AB فاصلہ لے كر اور نقطه C كو مركز زمان كر پہلے قوس كو قطع كرنے والا قوس كھىچئے۔

• قوسىن كے نقطه تقاطع كو D نام دىچئے۔ قطعہ AD اور قطعہ CD بناىئے۔ اس طرء بننے والا $\square ABCD$ متوازى الاضلاع هے۔

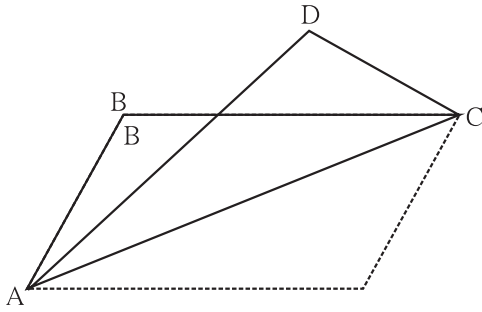
دوسرے طریقہ سے کھینچا گیا ذواربعتہ الاضلاع ہم نے مقابل کے ضلعے مساوی والا ذواربعتہ الاضلاع کھینچا ہے۔ اس کا مقابل کا ضلع متوازی کیوں آتا ہے۔ یہ ایک مسئلہ کے ثبوت سے آپ کو سمجھ میں آجائے گا۔

عملی کام I : متوازی ضلعے مختلف لمبائی کے اور ان کا درمیانی زاویہ مختلف پیمائشوں کا لے کر پانچ مختلف متوازی الاضلاع بنائیے۔

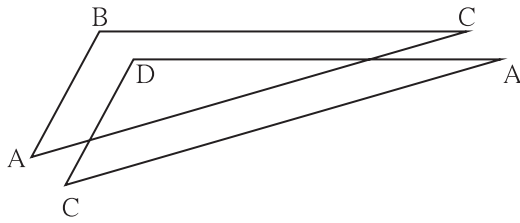
متوازی الاضلاع کے مسئلہ کو ثابت کرنے کے لیے متماثل مثلثوں کا استعمال کرتے ہیں۔ اسے کس طرح استعمال میں لایا جائے، اسے سمجھنے کے لیے درج ذیل عمل کیجیے۔



شکل 5.4



شکل 5.5



شکل 5.6

عملی کام II

● ایک موٹے کاغذ پر $\square ABCD$ متوازی الاضلاع بنائیے۔ اس کا وتر AC بنائیے۔ شکل میں دکھائے ہوئے کے مطابق راسوں کے نام ذواربعتہ الاضلاع کے اندر ہی لکھیے۔

● وتر AC پر تہہ کر کے دیکھیے کہ $\triangle ADC$ اور $\triangle CBA$ ایک دوسرے پر منطبق ہوتے ہیں۔

● $\square ABCD$ اس کے AC وتر پر کاٹ کر $\triangle ADC$ اور $\triangle CBA$ علیحدہ کیجیے۔ $\triangle CBA$ کو پلٹ کر دیکھیے کہ وہ کیا $\triangle ADC$ پر منطبق ہوتا ہے۔

کیا دکھائی دیا؟ $\triangle CBA$ کا کون سا ضلع $\triangle ADC$ کے کون سے ضلع پر منطبق ہوا؟ $\triangle CBA$ کا کون سا زاویہ $\triangle ADC$ کے کون سے زاویے پر منطبق ہوا۔

ضلع DC، ضلع BC پر اور ضلع AD، ضلع BC پر منطبق ہوتا ہے۔ اسی طرح $\angle D$ ، $\angle B$ پر منطبق ہوتا ہے۔

یعنی ایسا دکھائی دیتا ہے کہ متوازی الاضلاع کے مقابل کے ضلعے اور مقابل کے زاویے متماثل ہیں۔ آئیے متوازی الاضلاع کی اس خصوصیت کو ہم ثابت کریں۔

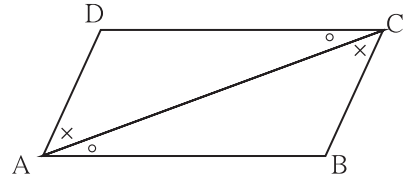
مسئلہ 1. متوازی الاضلاع کے مقابل کے ضلع متماثل ہوتے ہیں اور مقابل کے زاویے متماثل ہوتے ہیں۔

دیا ہوا ہے: $\square ABCD$ متوازی الاضلاع ہے۔ اس لیے

ضلع $AB \parallel$ ضلع DC ، ضلع $AD \parallel$ ضلع BC

ثابت کرنا ہے: $BC \cong$ قطعہ AD ، $AB \cong$ قطعہ DC ، قطعہ

$\angle DAB \cong \angle BCD$ اور $\angle ADC \cong \angle CBA$



شکل 5.7

ہندسی عمل: وتر AC کھینچے۔

ثبوت: ضلع $AB \parallel$ ضلع DC اور وتر AC تقاطع ہے۔

$\therefore \angle DCA \cong \angle BAC$ (1)
اور $\angle DAC \cong \angle BCA$ (2) } متبادلہ زاویے

اب، $\triangle ADC$ اور $\triangle CBA$ میں،

$\angle DAC \cong \angle BCA$

[بیان (2) کی بناء پر] ...

$\angle DCA \cong \angle BAC$

[بیان (1) کی بناء پر] ...

ضلع $AC \cong$ ضلع CA

(مشترک ضلع) ...

$\therefore \triangle ADC \cong \triangle CBA$

(زا-ض-زا کی آزمائش) ...

\therefore ضلع $AD \cong$ ضلع CB

... (متماثل مثلثوں کے نظیری اضلاع)

اور ضلع $DC \cong$ ضلع AB

... (متماثل مثلثوں کے نظیری اضلاع)

اسی طرح، $\angle ADC \cong \angle CBA$

... (متماثل مثلثوں کے نظیری زاویے)

اسی طرح $\angle DAB \cong \angle BCD$

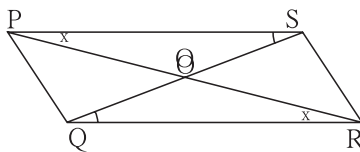
(ثابت کر سکتے ہیں) ...

غور کیجیے



مذکورہ بالا کی طرح $\angle DAB \cong \angle BCD$ ثابت کرنے کے لیے ہندسی عمل میں کیا کچھ تبدیلی کرنا پڑے گی؟ وہ تبدیلی کر کے کس طرح ثبوت لکھا جائے گا؟

متوازی الاضلاع کی مزید ایک خصوصیت سمجھنے کے لیے ذیل کا عملی کام کیجیے۔



شکل 5.8

عملی کام: $\square PQRS$ کوئی بھی ایک متوازی الاضلاع بنائیے۔ وتر PR اور

وتر QS کھینچ کر ان کے نقطہ تقاطع کو O نام دیجیے۔

ہر وتر کے بننے والے دو حصوں کی لمبائیوں کا موازنہ تقسیم کار (Divider)

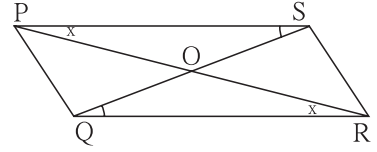
کی مدد سے کیجیے۔ آپ کو کیا دکھائی دیا؟

مسئلہ 2. متوازی الاضلاع کے وتر ایک دوسرے کی تنصیف کرتے ہیں۔

دیا ہوا ہے: متوازی الاضلاع □PQRS

وتر PR اور QS ایک دوسرے کو نقطہ O پر قطع کرتے ہیں۔

ثابت کرنا ہے: RO ≅ قطعہ PO، QO ≅ قطعہ SO،



شکل 5.9

ثبوت: ΔROQ اور ΔPOS میں،

$$\angle OPS \cong \angle ORQ$$

... (متبادلہ زاویے)

$$\text{قطعہ PS} \cong \text{قطعہ RQ}$$

... (متوازی الاضلاع کے مقابلہ کے ضلعے)

$$\angle PSO \cong \angle RQO$$

... (متبادلہ زاویے)

$$\therefore \Delta POS \cong \Delta ROQ$$

... (زا-ض-زا کی آزمائش)

$$\therefore \text{قطعہ PO} \cong \text{قطعہ RO}$$

...

... (متماثل مثلثوں کے نظیری اضلاع)

$$\text{قطعہ SO} \cong \text{قطعہ QO}, \text{ اور}$$

...

اسے دھیان میں رکھیں



● متوازی الاضلاع کے مقابلہ کے ضلعے متماثل ہوتے ہیں۔

● متوازی الاضلاع کے مقابلہ کے زاویے متماثل ہوتے ہیں۔

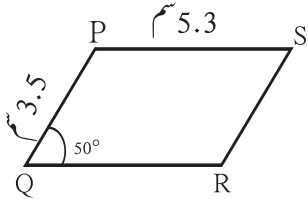
● متوازی الاضلاع کے وتر ایک دوسرے کی تنصیف کرتے ہیں۔

حل کردہ مثالیں:

مثال 1: □PQRS ایک متوازی الاضلاع ہے۔ سم PQ = 3.5، سم PS = 5.3، ∠Q = 50° ہو تو □PQRS کے دیگر اضلاع کی

لمبائیاں اور زاویوں کی پیمائشیں معلوم کیجیے۔

حل: □PQRS ایک متوازی الاضلاع ہے۔



شکل 5.10

$$\therefore \angle Q + \angle P = 180^\circ$$

... (داخلہ زاویے)

$$\therefore 50^\circ + \angle P = 180^\circ$$

$$\therefore \angle P = 180^\circ - 50^\circ = 130^\circ$$

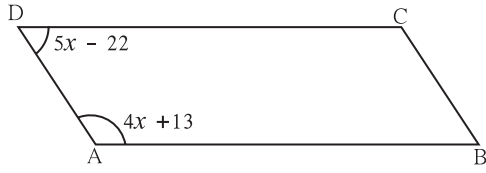
(متوازی الاضلاع کے مقابلہ کے زاویے) ... اور ∠P = ∠R، اور ∠Q = ∠S

$$\therefore \angle R = 130^\circ \text{ اور } \angle S = 50^\circ$$

(متوازی الاضلاع کے مقابلہ کے ضلعے) ... PQ = SR اور PS = QR اسی طرح

$$\therefore QR = 5.3 \text{ اور } SR = 3.5$$

مثال 2 : $\square ABCD$ ایک متوازی الاضلاع ہے۔ $\square ABCD$ میں $\angle A = (4x + 13)^\circ$ ، $\angle D = (5x - 22)^\circ$ ہو تب $\angle C$ اور $\angle B$ کی پیمائش معلوم کیجیے۔



شکل 5.11

حل : متوازی الاضلاع کے متوازی زاویے متساوی ہوتے ہیں۔

یہاں $\angle A$ اور $\angle D$ متوازی زاویے ہیں۔

$$\therefore (4x + 13)^\circ + (5x - 22)^\circ = 180^\circ$$

$$\therefore 9x - 9 = 180$$

$$\therefore 9x = 189$$

$$\therefore x = 21$$

$$\therefore \angle A = 4x + 13 = 4 \times 21 + 13 = 84 + 13 = 97^\circ, \therefore \angle C = 97^\circ$$

$$\angle D = 5x - 22 = 5 \times 21 - 22 = 105 - 22 = 83^\circ, \therefore \angle B = 83^\circ$$

مشقی سیٹ 5.1

1. متوازی الاضلاع $\square WXYZ$ کے وتر نقطہ O پر قطع کرتے ہیں۔ $m\angle XYZ = 135^\circ$ ہو تب $m\angle XWZ = ?$ ، $m\angle YZW = ?$

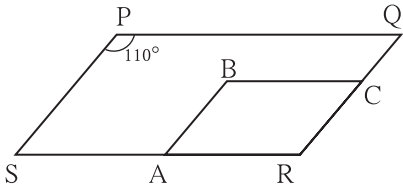
اگر $l(OY) = 5$ سم ہو تب $l(WY) = ?$

2. متوازی الاضلاع $\square ABCD$ میں $\angle A = (3x + 12)^\circ$ ، $\angle B = (2x - 32)^\circ$ ہو تب x کی قیمت معلوم کیجیے۔ اس کی مدد سے $\angle C$ اور $\angle D$ کی پیمائش معلوم کیجیے۔

3. ایک متوازی الاضلاع کا احاطہ 150 سم ہے اور ایک ضلع دوسرے ضلع سے 25 سم بڑا ہے تو اس متوازی الاضلاع کے تمام ضلعوں کی لمبائیاں معلوم کیجیے۔

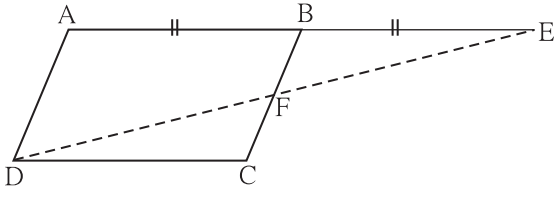
4. ایک متوازی الاضلاع کے متوازی دوزاویوں کی نسبت 1 : 2 ہے تو اس متوازی الاضلاع کے تمام زاویوں کی پیمائش معلوم کیجیے۔

5. متوازی الاضلاع $\square ABCD$ کے وتر ایک دوسرے کو نقطہ O پر قطع کرتے ہیں۔ $AO = 5$ ، $BO = 12$ اور $AB = 13$ ہو تب دکھائیے کہ $\square ABCD$ معین ہے۔



شکل 5.12

6. شکل 5.12 میں $\square PQRS$ اور $\square ABCR$ ، یہ دونوں متوازی الاضلاع ہیں۔ $\angle P = 110^\circ$ ہو تب $\square ABCR$ کے تمام زاویوں کی پیمائش معلوم کیجیے۔



شکل 5.13

7. متوازی الاضلاع $\square ABCD$ ہے۔ شعاع AB پر نقطہ E اس طرح ہے کہ $BE = AB$ تب ثابت کیجیے کہ خط ED ، قطعہ BC کو نقطہ F پر تقصیف کرتا ہے۔

آئیے ذرا یاد کریں




متوازی خطوط کی آزمائشیں

1. دو خطوط کو ایک تقاطع قطع کرتا ہے تو بننے والے نظیری زاویوں کی ایک جوڑی متماثل ہوتی ہے، تب وہ دونوں خطوط ایک دوسرے کے متوازی ہوتے ہیں۔
2. دو خطوط کو ایک تقاطع قطع کرتا ہے تو بننے والے متبادلہ زاویوں کی ایک جوڑی متماثل ہوتی ہے، تب وہ دونوں خطوط ایک دوسرے کے متوازی ہوتے ہیں۔
3. دو خطوط کو ایک تقاطع قطع کرتا ہے اور اگر داخلہ زاویوں کی ایک جوڑی متمم ہو تب وہ دونوں خطوط ایک دوسرے کے متوازی ہوتے ہیں۔

آئیے سمجھ لیں



متوازی الاضلاع کی آزمائشیں (Test for Parallelogram)

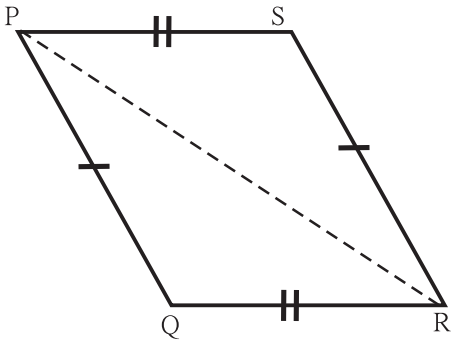


شکل 5.14

فرض کیجیے $\square PQRS$ میں $PS = QR$ اور $PQ = SR$ ہے۔
 $\square PQRS$ متوازی الاضلاع ثابت کرنا ہے۔ اس کے لیے ہمیں بتانا ہوگا کہ ذواربعۃ الاضلاع کے ضلعوں کی کون سی جوڑیاں متوازی ہیں؟
 اس کے لیے متوازی خطوط کی کون سی آزمائش کا استعمال کرنا سو مند ہوگا؟

آزمائش کے لیے ضروری زاویے حاصل کرنے کے لیے کون سے خط کو تقاطع کے طور پر لینا سہولت بخش ہوگا۔

مسئلہ : ذواربعۃ الاضلاع کے مقابل کے زاویوں کی جوڑیاں متماثل ہوتی ہیں تب وہ ذواربعۃ الاضلاع متوازی الاضلاع ہوتا ہے۔



شکل 5.15

دیا ہوا ہے : $\square PQRS$ میں،

ضلع $PS \cong$ ضلع QR

ضلع $PQ \cong$ ضلع SR

ثابت کرنا ہے : $\square PQRS$ متوازی الاضلاع ہے۔

ہندسی عمل : وتر PR کھینچیے۔

ثبوت : $\triangle SPR$ اور $\triangle QRP$ میں،

ضلع $SP \cong$ ضلع QR ... (دیا ہوا ہے)

ضلع $SR \cong$ ضلع QP ... (دیا ہوا ہے)

ضلع $PR \cong$ ضلع RP ... (مشترک ضلع)

$\therefore \triangle SPR \cong \triangle QRP$... (ضلع ضلع آزمائش)

(متماثل مثلثوں کے نظیری زاویے) ... $\therefore \angle SPR \cong \angle QRP$

(متماثل مثلثوں کے نظیری زاویے) ... $\angle PRS \cong \angle RPQ$ اسی طرح

$\angle SPR$ اور $\angle QRP$ یہ قطعہ PS اور قطعہ QR کے تقاطع خط PR سے بننے والے متبادلہ زاویے ہیں۔

(متوازی خطوط کی متبادلہ زاویوں کی آزمائش) ... (I) ... \therefore ضلع PS \parallel ضلع QR

اسی طرح $\angle PRS$ اور $\angle RPQ$ ، یہ قطعہ PQ اور قطعہ SR کے تقاطع خط PR کی وجہ سے بننے والے متبادلہ زاویے ہیں۔

(متوازی خطوط کی متبادلہ زاویوں کی آزمائش) ... (II) ... \therefore ضلع PQ \parallel ضلع SR


\therefore I اور II بیان کی بنا پر $\square PQRS$ متوازی الاضلاع ہے۔

متوازی الاضلاع بنانے کے دو طریقے ابتدا میں دیے ہوئے ہیں۔ دوسرے طریقے میں مقابل کے ضلع مساوی والا ذواربعیہ الاضلاع بنایا گیا ہے۔ ایسا

ذواربعیہ الاضلاع متوازی الاضلاع کیوں ہوتا ہے، کیا اب سمجھ میں آیا؟

مسئلہ 3 : ذواربعیہ الاضلاع کے مقابل کے زاویوں کی جوڑیاں متماثل ہوتی ہیں تب وہ متوازی الاضلاع ہوتا ہے۔ درج ذیل دیے ہوئے دعویٰ کو ثابت کرنا ہے

اور ثبوت میں خالی جگہ پُر کیجیے۔



شکل 5.16

دیا ہوا ہے : $\square EFGH$ میں $\angle E \cong \angle G$ اور

$\angle \dots \cong \angle \dots$

ثابت کرنا ہے : $\square EFGH$

ثبوت : فرض کیجیے، $m\angle E = m\angle G = x$ اور $m\angle H = m\angle F = y$

ذواربعیہ الاضلاع کے زاویوں کی پیمائشوں کا مجموعہ ہوتا ہے۔

$$\therefore m\angle E + m\angle G + m\angle H + m\angle F = \dots\dots\dots$$

$$\therefore x + \dots\dots + y + \dots\dots = \dots\dots$$

$$\therefore \square x + \square y = \dots\dots$$

$$\therefore x + y = 180^\circ$$

$$\therefore \angle G + \angle H = \dots\dots\dots$$

قطعہ HE اور قطعہ HG کو تقاطع خط HG کے ذریعے قطع کرنے سے $\angle H$ اور $\angle G$ یہ داخلہ زاویے بن گئے ہیں۔

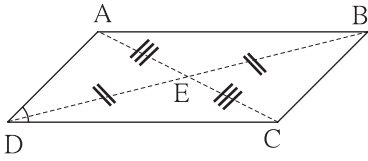
(متوازی خطوط کے داخلہ زاویوں کی آزمائش) ... (I) ... \therefore ضلع HE \parallel ضلع GH

اسی طرح ، $m\angle G + m\angle F = \dots\dots\dots$

(متوازی خطوط کے داخلہ زاویوں کی آزمائش) ... (II) ... \therefore ضلع \parallel ضلع

\therefore (I) اور (II) کی بناء پر $\square EFGH$ ہے۔

مسئلہ : ذواربعتہ الاضلاع کے وتر ایک دوسرے کی تنصیف کرتے ہوں تب وہ ذواربعتہ الاضلاع متوازی الاضلاع ہوتا ہے۔



شکل 5.16

دیا ہوا ہے : $\square ABCD$ کے وتر ایک دوسرے کی نقطہ E پر تنصیف کرتے ہیں۔

یعنی قطعہ $AE \cong$ قطعہ CE اور قطعہ $DE \cong$ قطعہ BE

ثابت کرنا ہے : $\square ABCD$ متوازی الاضلاع ہے۔

ثبوت : درج ذیل سوالوں کے جواب تلاش کیجیے اور ثبوت آپ خود لکھیے۔

1. $DC \parallel AB$ قطعہ، ثابت کرنے کے لیے متبادلہ زاویوں کی کون سی جوڑی متماثل دکھانا ہوگی؟

متبادلہ زاویوں کی وہ جوڑی کس تقاطع سے حاصل ہوگی؟

2. متبادلہ زاویوں کی منتخب کی گئی جوڑی میں زاویے کون کون سے مثلثوں کے زاویے ہیں؟

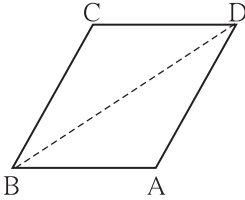
3. ان میں سے کون کون سے مثلث کس آزمائش سے متماثل ہوتے ہیں؟

4. اسی طرح غور کر کے بتائیے کہ کیا $BC \parallel AD$ قطعہ ثابت کیا جاسکتا ہے؟

کسی ذواربعتہ الاضلاع کو متوازی الاضلاع ثابت کرنا ہو تب اوپر دیا ہوا مسئلہ استعمال کیا جاسکتا ہے۔ اس لیے ان مسئلوں کو متوازی الاضلاع کی آزمائش کہتے ہیں۔

مزید ایک مسئلہ متوازی الاضلاع کی آزمائش کے طور پر استعمال کرتے ہیں۔

مسئلہ : ذواربعتہ الاضلاع کے مقابل کے اضلاع کی ایک جوڑی متماثل اور متوازی ہو تب وہ ذواربعتہ الاضلاع متوازی الاضلاع ہوتا ہے۔



شکل 5.18

دیا ہوا ہے : $\square ABCD$ میں $CB \cong$ قطعہ DA اور

$CB \parallel DA$ قطعہ

ثابت کرنا ہے : $\square ABCD$ متوازی الاضلاع ہے۔

ہندسی عمل : وتر BD کھینچیے۔

ذیل میں دیے ہوئے ثبوت کو آپ تفصیل کے ساتھ لکھیے۔

(ضلع راضل آزمائش) ...

(متماثل مثلثوں کے نظیری زاویے) ... $\therefore \angle CDB \cong \angle ABD$

(متوازی خطوط کی متبادلہ زاویوں کی آزمائش) ... \therefore قطعہ $CD \parallel$ قطعہ BA

اسے دھیان میں رکھیں



☆ جس ذواربعتہ الاضلاع کے مقابل کے زاویوں کی جوڑیاں متماثل ہوتی ہیں تب وہ ذواربعتہ الاضلاع متوازی الاضلاع ہوتا ہے۔

☆ جس ذواربعتہ الاضلاع کے مقابل کے اضلاع کی جوڑیاں متماثل ہوتی ہیں تب وہ ذواربعتہ الاضلاع متوازی الاضلاع ہوتا ہے۔

☆ جس ذواربعتہ الاضلاع کے وتر ایک دوسرے کی تنصیف کرتے ہیں وہ ذواربعتہ الاضلاع متوازی الاضلاع ہوتا ہے۔

☆ جس ذواربعتہ الاضلاع کے مقابل کے اضلاع کی ایک جوڑی متماثل اور متوازی ہوتی ہے تب وہ ذواربعتہ الاضلاع متوازی الاضلاع ہوتا ہے۔

ان مسئلوں کو متوازی الاضلاع کی آزمائش کہتے ہیں۔

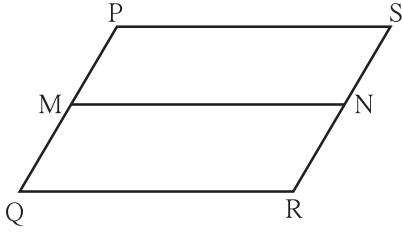
غور کیجیے



بیاض میں چھپے ہوئے خطوط ایک دوسرے کے متوازی ہوتے ہیں۔ ان خطوط کا استعمال کر کے کوئی ایک متوازی الاضلاع کس طرح بنایا جاسکتا ہے؟

حل کردہ مثالیں :

مثال (1) □PQRS ایک متوازی الاضلاع ہے۔ ضلع PQ کا وسطی نقطہ M اور ضلع RS کا وسطی نقطہ N ہے۔ تب ثابت کیجیے □PMNS اور □MQRN متوازی الاضلاع ہیں۔



شکل 5.19

دیا ہوا ہے : □PQRS متوازی الاضلاع ہے۔ ضلع PQ اور ضلع RS کے

بالترتیب M اور N وسطی نقاط ہیں۔

ثابت کیجیے کہ : □PMNS متوازی الاضلاع ہے۔

□MQRN متوازی الاضلاع ہے۔

ثبوت : ضلع SR || ضلع PQ

$$\therefore P - M - Q ; S - M - Q \quad \dots (I)$$

$$\therefore \text{ضلع PM} \parallel \text{ضلع SN}$$

اسی طرح ، ضلع PQ = ضلع SR

$$\therefore \frac{1}{2} \text{ضلع PQ} = \frac{1}{2} \text{ضلع SR}$$

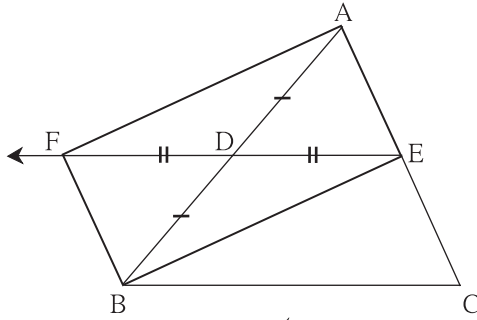
$$\therefore \text{ضلع PM} = \text{ضلع SN}$$

$$\dots (II) \quad (\because M \text{ اور } N \text{ وسطی نقاط ہیں۔})$$

\therefore (I) اور (II) کی بناء پر □PMNQ متوازی الاضلاع ہے۔

اسی طرح ، □MQRN متوازی الاضلاع ثابت کیا جاسکتا ہے۔

مثال (2) △ABC کے ضلع AB اور ضلع AC کے بالترتیب D اور E وسطی نقاط ہیں۔ شعاع ED پر نقطہ F اس طرح ہے کہ ED = DF تو ثابت کیجیے کہ □AFBE متوازی الاضلاع ہے۔



شکل 5.20

دیا ہوا ہے :

ثابت کرنا ہے :

ثبوت : قطعہ AB اور قطعہ EF، یہ □AFBE کے ہیں۔

$$\text{قطعہ AD} \cong \text{قطعہ DB} \dots\dots\dots (\text{})$$

(بہندسی عمل) ... قطعہ \cong قطعہ

\therefore □AFBE کے وتر ایک دوسرے کی

\therefore آزمائش سے □AFBE متوازی الاضلاع ہے۔

مثال (3) ثابت کیجیے کہ کوئی بھی معین، متوازی الاضلاع ہوتا ہے۔

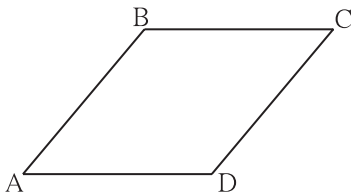
دیا ہوا ہے : □ABCD ایک معین ہے۔

ثابت کرنا ہے : □ABCD متوازی الاضلاع ہے۔

ثبوت : (دیا ہوا ہے) ... ضلع DA = ضلع CD = ضلع BC = ضلع AB

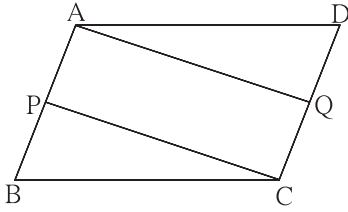
$$\therefore \text{ضلع DA} = \text{ضلع BC اور ضلع CD} = \text{ضلع AB}$$

\therefore □ABCD متوازی الاضلاع ہے۔ ... (متوازی الاضلاع کے مقابل کے ضلعوں کی آزمائش)



شکل 5.21

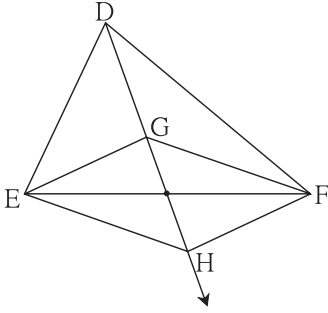
مشقی سیٹ 5.2



شکل 5.22

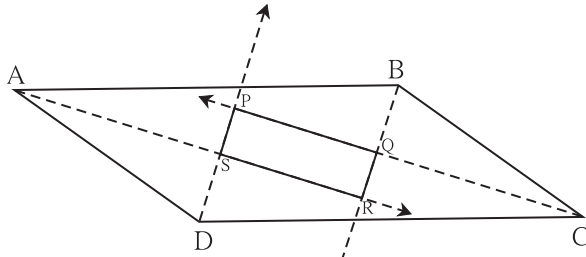
1. شکل 5.22 میں، متوازی الاضلاع $\square ABCD$ متوازی الاضلاع ہے۔
نقطہ P اور نقطہ Q بالترتیب ضلع AB اور ضلع DC کے وسطی نقاط ہیں تو ثابت کیجیے $\square APCQ$ متوازی الاضلاع ہے۔

2. کوئی بھی مستطیل متوازی الاضلاع ہوتا ہے۔ اسے ثابت کیجیے۔



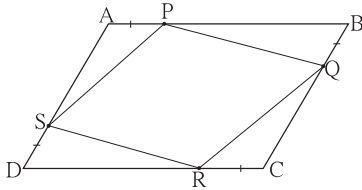
شکل 5.23

3. شکل 5.23 میں، نقطہ G، یہ $\triangle DEF$ کا ہندسی مرکز ہے۔ شعاع DG پر نقطہ H اس طرح ہے کہ $D-G-H$ اور $DG = GH$ تو ثابت کیجیے: $\square GEHF$ متوازی الاضلاع ہے۔



شکل 5.24

- 4* ثابت کیجیے کہ متوازی الاضلاع کے چاروں زاویوں کے ناصفوں سے بننے والا ذواربعتہ الاضلاع مستطیل ہوتا ہے۔ (شکل 5.24)



شکل 5.25

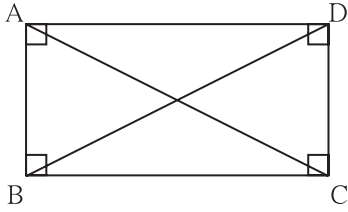
5. متصلہ شکل 5.25 میں $\square ABCD$ ، متوازی الاضلاع کے اضلاع پر P، Q، R، S نقاط اس طرح ہیں کہ $AP = BQ = CR = DS$ تو ثابت کیجیے کہ $\square PQRS$ متوازی الاضلاع ہے۔

آئیے سمجھ لیں



مستطیل، معین اور مربع کی مخصوص خصوصیات (Properties of rectangle, rhombus and Square)

مستطیل، معین اور مربع یہ متوازی الاضلاع ہی ہوتے ہیں۔ اس کی وجہ سے مقابل کے ضلعے مساوی ہونا، مقابل زاویے مساوی ہونا اور وتر ایک دوسرے کی تنصیف کرنا یہ خصوصیت تینوں قسم کے ذواربعتہ الاضلاع میں ہوتی ہے۔
لیکن اس کے علاوہ کچھ زائد خصوصیت ہر قسم کے ذواربعتہ الاضلاع میں ہوتی ہیں۔ آئیے اس پر غور کرتے ہیں۔ ان خصوصیات کا ثبوت آگے مختصراً دیا ہوا ہے۔ دیے ہوئے مراحل کو دھیان میں رکھ کر اس ثبوت کو آپ تفصیل کے ساتھ لکھیے۔



شکل 5.26

مسئلہ : مستطیل کے وتر متماثل ہوتے ہیں۔

دیا ہوا ہے : $\square ABCD$ مستطیل ہے۔

ثابت کرنا ہے : $AC \cong BD$ وتر

ثبوت : مختصراً دیے ہوئے ثبوت کو وجوہات کے ساتھ مکمل کیجیے۔

$$\Delta ADC \cong \Delta DAB \quad \dots \text{ (ضلع زاضل آزمائش)}$$

$$\text{وتر } AC \cong \text{ وتر } BD \quad \dots \text{ (متماثل مثلثوں کے نظیری اضلاع)}$$

مسئلہ : مربع کے وتر متماثل ہوتے ہیں۔

دیا ہوا ہے، ثابت کرنا ہے اور ثبوت آپ لکھیے۔

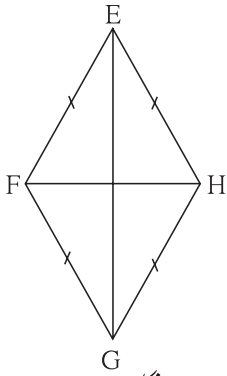
مسئلہ : معین کے وتر ایک دوسرے کے عمودی ناصف ہوتے ہیں۔

دیا ہوا ہے : $\square EFGH$ معین ہے۔

ثابت کرنا ہے : (i) وتر EG، وتر HF کا عمودی ناصف ہے۔

(ii) وتر HF، وتر EG کا عمودی ناصف ہے۔

ثبوت :



شکل 5.27

(i)

$$\left. \begin{array}{l} \text{قطعہ } EF \cong \text{ قطعہ } EH \\ \text{قطعہ } GF \cong \text{ قطعہ } GH \end{array} \right\} \dots \text{ (دیا ہوا ہے)}$$

قطعہ خط کے اختتامی نقاط سے ہم فاصلہ ہر نقطہ اُس قطعہ خط کے عمودی ناصف پر ہوتا ہے۔

∴ نقطہ E اور نقطہ G یہ قطعہ HF کے عمودی ناصف پر ہیں۔

دو مختلف نقاط سے ایک اور صرف ایک خط گزرتا ہے۔

∴ خط EG، وتر HF کا عمودی ناصف خط ہے۔

∴ وتر EG، وتر HF کا عمودی ناصف ہے۔

(ii) اسی طرح وتر HF، وتر EG کا عمودی ناصف ہے ثابت کر سکتے ہیں۔

ذیل کے مسلوں کا ثبوت آپ لکھیے۔

● مربع کے وتر ایک دوسرے کے عمودی ناصف ہوتے ہیں۔

● معین کے وتر، اس کے مقابل کے زاویوں کی تنصیف کرتے ہیں۔

● مربع کے وتر، اس کے مقابل کے زاویوں کی تنصیف کرتے ہیں۔



● مربع کے وتر متماثل ہوتے ہیں۔

● مستطیل کے وتر متماثل ہوتے ہیں۔

● مربع کے وتر، ایک دوسرے کے عمودی ناصف ہوتے ہیں۔

● معین کے وتر، ایک دوسرے کے عمودی ناصف ہوتے ہیں۔

● مربع کے وتر، مقابل کے زاویوں کی تنصیف کرتے ہیں۔

● معین کے وتر، مقابل کے زاویوں کی تنصیف کرتے ہیں۔

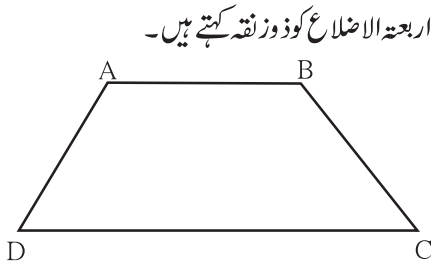
مشقی سیٹ 5.3

1. $\square ABCD$ مستطیل کے وتر نقطہ O پر قطع کرتے ہیں۔ اگر سم $AC = 8$ ہو تب $BO = ?$
اگر $\angle CAD = 35^\circ$ ہو تب $\angle ACB = ?$
2. $\square PQRS$ معین ہے۔ اگر سم $PQ = 7.5$ ہو تب $QR = ?$
اگر $\angle QPS = 75^\circ$ ہو تب $\angle PQR = ?$ ، $\angle SRQ = ?$
3. $\square IJKL$ مربع کے وتر ایک دوسرے کو نقطہ M پر قطع کرتے ہیں۔ تب $\angle IMJ$ ، $\angle JIK$ اور $\angle LJK$ کی پیمائشیں طے کیجیے۔
4. ایک معین کے وتروں کی لمبائیاں بالترتیب 20 سم اور 21 سم ہیں تو اس معین کا ضلع اور احاطہ معلوم کیجیے۔
5. درج ذیل بیانات صحیح ہیں یا غلط، وجہ کے ساتھ لکھیے۔
(i) ہر متوازی الاضلاع معین ہوتا ہے۔
(ii) ہر معین، مستطیل ہوتا ہے۔
(iii) ہر مستطیل متوازی الاضلاع ہوتا ہے۔
(iv) ہر مربع، مستطیل ہوتا ہے۔
(v) ہر مربع، معین ہوتا ہے۔
(vi) ہر متوازی الاضلاع مستطیل ہوتا ہے۔

آئیے سمجھ لیں



ذوزنقہ (Trapezium)



شکل 5.28

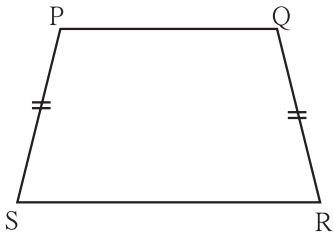
جس ذوزنقہ الاضلاع کے مقابل کے اضلاع کی صرف ایک جوڑی متوازی ہوتی ہے اس ذوزنقہ الاضلاع کو ذوزنقہ کہتے ہیں۔

متصلہ شکل میں $\square ABCD$ کے صرف AB اور DC ضلعے ایک دوسرے کے متوازی ہیں۔ لہذا یہ ذوزنقہ ہے۔

متوازی خطوط کی خصوصیت کے لحاظ سے $\angle A$ اور $\angle D$ ان متوازی زاویوں کی جوڑی متمم ہے۔ اسی طرح $\angle B$ اور $\angle C$ ان متوازی زاویوں کی جوڑی بھی متمم ہے۔

ذوزنقہ میں متوازی زاویوں کی دو جوڑیاں متمم ہوتی ہیں۔

ذوزنقہ کے غیر متوازی اضلاع کی جوڑی متماثل ہوتی ہے اس ذوزنقہ الاضلاع کو متساوی الساقین (Isosceles Trapezium) کہتے ہیں۔



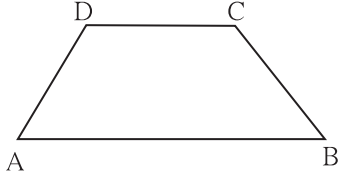
شکل 5.29

کسی بھی ذوزنقہ کے غیر متوازی ضلعوں کے وسطی نقاط کو جوڑنے والے قطعہ خط کو اس ذوزنقہ کا وسطانیہ کہتے ہیں۔

حل کردہ مثالیں :

مثال (1) □ABCD کے زاویوں کی پیمائشیں 4 : 5 : 7 : 8 کے تناسب میں ہیں تب دکھائیے کہ □ABCD ذوزنقہ ہے۔

شکل 5.30



حل : فرض کیجیے $\angle A$ ، $\angle B$ ، $\angle C$ ، $\angle D$ کی پیمائشیں بالترتیب $(4x)^\circ$ ، $(5x)^\circ$ ، $(7x)^\circ$ اور $(8x)^\circ$ ہیں۔

ذواربعہ الاضلاع کے تمام زاویوں کی پیمائشوں کا مجموعہ 360° ہوتا ہے۔

$$\therefore 4x + 5x + 7x + 8x = 360$$

$$\therefore 24x = 360, \quad \therefore x = 15$$

$$\angle A = 4 \times 15 = 60^\circ, \quad \angle B = 5 \times 15 = 75^\circ, \quad \angle C = 7 \times 15 = 105^\circ,$$

$$\text{اور } \angle D = 8 \times 15 = 120^\circ$$

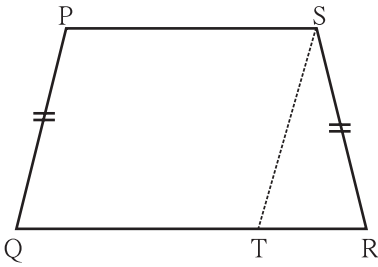
$$\text{اب } \angle B + \angle C = 75^\circ + 105^\circ = 180^\circ$$

$$\therefore \text{ضلع } CD \parallel \text{ضلع } BA \quad \dots \text{ (I)}$$

$$\text{لیکن } \angle B + \angle A = 75^\circ + 60^\circ = 135^\circ \neq 180^\circ$$

$$\therefore \text{ضلع } BC \text{ اور ضلع } AD \text{ ایک دوسرے کے متوازی نہیں ہیں۔} \dots \text{ (II)}$$

\therefore □ABCD ذوزنقہ ہے۔ ... [بیان (1) اور (2) کی رؤ سے]



شکل 5.31

مثال (2) ذوزنقہ □PQRS میں ضلع QR \parallel ضلع PS اور

$$\text{ضلع } PQ \cong \text{ضلع } SR, \quad \text{ضلع } PS > \text{ضلع } QR$$

$$\text{ثابت کیجیے: } \angle PQR \cong \angle SRQ$$

$$\text{دیا ہوا ہے: } \square PQRS \text{ میں } QR \parallel PS \text{ اور } \text{ضلع } PQ \cong \text{ضلع } SR$$

$$\text{ثابت کرنا ہے: } \angle PQR \cong \angle SRQ$$

عمل : نقطہ S سے ضلع PQ کے متوازی ایک قطعہ خط کھینچاؤ ضلع QR کو نقطہ T پر قطع کرتا ہے۔

ثبوت : □PQRS میں

$$\dots \text{ (دیا ہوا ہے اور } Q-T-R \text{)}$$

(عمل)

$$\therefore \square PQTS \text{ متوازی الاضلاع ہے۔}$$

$$\dots \text{ (نظیری زاویے)} \dots \text{ (I)}$$

$$\text{قطعہ } PS \cong \text{قطعہ } QT$$

$$\text{قطعہ } PQ \cong \text{قطعہ } ST$$

$$\therefore \angle PQT \cong \angle STR$$

$$\text{اسی طرح } \text{قطعہ } PQ \cong \text{قطعہ } ST$$

$$\text{لیکن } \text{قطعہ } PQ \cong \text{قطعہ } SR$$

$$\therefore \text{قطعہ } ST \cong \text{قطعہ } SR$$

$$\therefore \angle STR \cong \angle SRT \quad \dots \text{ (تساوی الساقین مثلث کا مسئلہ)}$$

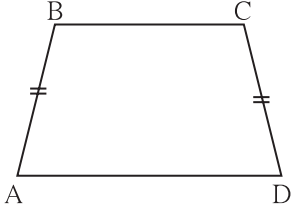
$$\therefore \angle PQT \cong \angle SRT \quad \dots \text{ [بیان (I) اور (II) کی رؤ سے]}$$

$$\therefore \angle PQR \cong \angle SRQ \quad \dots Q-T-R$$

اس بنا پر ثابت ہوتا ہے کہ متساوی الساقین ذوزنقہ کے قاعدہ پر کے زاویے متماثل ہوتے ہیں۔

مشقی سیٹ 5.4

1. $\square IJKL$ میں $KL \parallel IJ$ ضلع ہے۔ $\angle I = 108^\circ$ ، $\angle K = 53^\circ$ ہو تب $\angle J$ اور $\angle L$ کی پیمائش معلوم کیجیے۔
2. $\square ABCD$ میں $AD \parallel BC$ اور $AB \cong DC$ ضلع اور اگر $\angle A = 72^\circ$ ہو تب $\angle B$ اور $\angle D$ کی پیمائش طے کیجیے۔



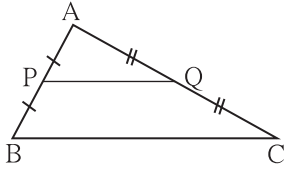
شکل 5.32

3. شکل 5.32 میں $\square ABCD$ میں $AD \parallel BC$ اور اگر $AB \cong DC$ ضلع ہو تب ثابت کیجیے کہ $\angle ABC \cong \angle DCB$



مثلث کے دو ضلعوں کے وسطی نقاط کا مسئلہ (Theorem of midpoints of two sides of triangle)

بیان : ایک مثلث کے کوئی دو ضلعوں کے وسطی نقاط کو جوڑنے والا قطعہ خط تیسرے ضلع کے متوازی ہوتا ہے اور اس ضلع کی لمبائی کے نصف ہوتا ہے۔



شکل 5.33

دیا ہوا ہے : $\triangle ABC$ میں نقطہ P، قطعہ AB کا وسطی نقطہ ہے اور Q، قطعہ AC کا وسطی نقطہ ہے۔
وسطی نقطہ ہے۔

ثابت کرنا ہے : $PQ \parallel BC$ قطعہ اور

$$PQ = \frac{1}{2} BC$$

عمل : قطعہ PQ کو R تک اس طرح بڑھائیں کہ $PQ = QR$
قطعہ RC کھینچیے۔

ثبوت : $\triangle AQP$ اور $\triangle CQR$ میں

(عمل) ... $PQ \cong QR$ قطعہ

(Q قطعہ AC کا وسطی نقطہ ہے) ... $AQ \cong QC$ قطعہ

(متقابلہ زاویے) ... $\angle AQP \cong \angle CQR$

∴ $\triangle AQP \cong \triangle CQR$... (مثل زاضل آزمائش)

(متماثل مثلثوں کے نظیری زاویے) ... (1) ... $\angle PAQ \cong \angle RCQ$

∴ قطعہ AP \cong قطعہ CR ... (2) ...

[بیان (1) سے، متبادلہ زاویوں کی آزمائش] ... $AB \parallel CR$ خط

[بیان (2) سے] ... $AP \cong CR$ قطعہ

لیکن $CR \parallel PB$ قطعہ اور $CR \cong PB$ قطعہ \cong قطعہ AP، لیکن

∴ $\square PBCR$ متوازی الاضلاع ہے۔

(کیوں کہ مقابل کے اضلاع مساوی لمبائی کے ہوتے ہیں) ... $PR = BC$ اور $PQ \parallel BC$ قطعہ PQ قطعہ \therefore

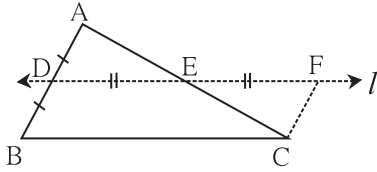
$$PQ = \frac{1}{2} PR \quad \dots \text{(عمل)}$$

$$\therefore PQ = \frac{1}{2} BC \quad \because PR = BC$$

مثالث کے دو ضلعوں کے وسطی نقاط کے مسئلہ کا عکس

مسئلہ : مثالث کے ایک ضلع کے وسطی نقطہ سے گزرنے والا اور دوسرے ضلع کے متوازی خط تیسرے ضلع کی تقصیف کرتا ہے۔

اس بیان کے لیے، شکل، دیا ہوا ہے، ثابت کرنا ہے، عمل دیے ہوئے ہیں۔ اس بنا پر اس بیان کا ثبوت لکھنے کی کوشش کیجیے۔



شکل 5.35

دیا ہوا ہے : $\triangle ABC$ کے ضلع AB کا وسطی نقطہ D ہے۔

نقطہ D سے گزرنے والا ضلع BC کا متوازی خط l ہے، اور ضلع AC کو

نقطہ E پر قطع کرتا ہے۔

ثابت کیجیے : $AE = EC$

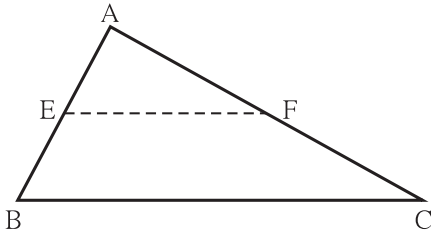
عمل : خط C سے خط AB کے متوازی خط کھینچیے۔ یہ خط، خط l کو جس نقطے پر قطع کرتا ہے اس نقطے کو F نام دیجیے۔

ثبوت : (دیا ہوا ہے) ... $BC \parallel l$ خط اور کیے ہوئے عمل کا استعمال کر کے دکھائیے کہ $\square BCFD$ متوازی الاضلاع ہے۔

$\triangle ADE \cong \triangle CFE$ ثابت کیجیے اور اس کی مدد سے ثابت کیجیے کا ثبوت دیجیے۔

حل کردہ مثالیں :

مثال (1) $\triangle ABC$ کے ضلع AB اور ضلع AC کے بالترتیب نقاط E اور F وسطی نقاط ہیں۔ اگر $E = 5.6$ ہو تب BC کی لمبائی معلوم کیجیے۔



شکل 5.36

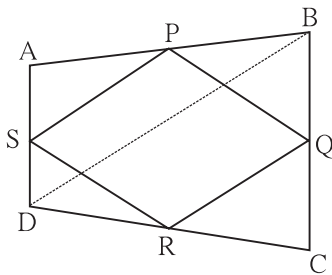
حل : $\triangle ABC$ میں نقطہ E اور نقطہ F بالترتیب ضلع AB اور ضلع AC

کے وسطی نقاط ہیں۔

$$EF = \frac{1}{2} BC \quad \dots \text{(وسطی نقطہ کا مسئلہ)}$$

$$5.6 = \frac{1}{2} BC \quad \therefore BC = 5.6 \times 2 = 11.2$$

مثال (2) ثابت کیجیے کہ کسی بھی ذواربوعہ الاضلاع کے ضلعوں کے وسطی نقاط کو ترتیب سے جوڑنے سے بننے والا ذواربوعہ الاضلاع متوازی الاضلاع ہوتا ہے۔



شکل 5.37

دیا ہوا ہے : $\square ABCD$ کے اضلاع AB، BC، CD اور

AD کے وسطی نقاط بالترتیب P، Q، R اور S ہیں۔

ثابت کیجیے : $\square PQRS$ متوازی الاضلاع ہے۔

عمل : وتر BC کھینچیے۔

ثبوت : $\triangle ABD$ میں نقطہ S قطعہ AD کا وسطی نقطہ ہے اور نقطہ P، قطعہ AB کا وسطی نقطہ ہے۔

$$\therefore PS \parallel DB \text{ اور } PS = \frac{1}{2} BD \quad \dots (1) \quad \dots$$

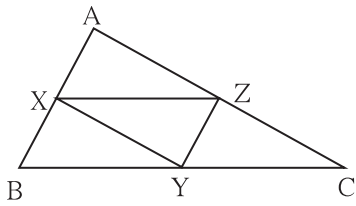
اسی طرح $\triangle DBC$ میں Q اور R بالترتیب BC اور DC اضلاع کے وسطی نقاط ہیں۔

$$\therefore QR \parallel BD \text{ اور } QR = \frac{1}{2} BD \quad \dots (2) \quad \dots$$

$$\therefore PS \parallel QR \text{ اور } PS = QR \quad \dots \text{ [بیان (1) اور (2) سے] } \dots$$

\therefore PQRS متوازی الاضلاع ہے۔

مشقی سیٹ 5.5

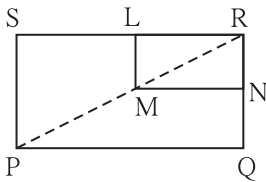


شکل 5.38

1. شکل 5.38 میں $\triangle ABC$ کے ضلع AB، ضلع BC اور ضلع AC کے

بالترتیب نقاط X، Y، Z وسطی نقاط ہیں۔ سم $AB = 5$ ، سم $AC = 9$ ،

سم $BC = 11$ ہو تب XY، YZ اور ZX کی لمبائیاں معلوم کیجیے۔

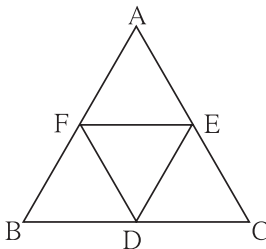


شکل 5.39

2. شکل 5.39 میں $\square PQRS$ اور $\square MNRL$ مستطیل ہیں۔ نقطہ M، قطعہ

PR کا وسطی نقطہ ہے۔

$$\text{تب ثابت کیجیے (i) } SL = LR \text{ (ii) } LN = \frac{1}{2} SQ$$

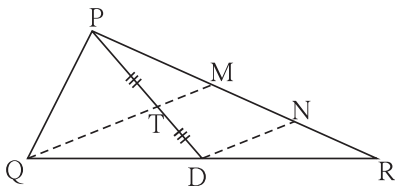


شکل 5.40

3. شکل 5.40 میں $\triangle ABC$ متساوی الاضلاع مثلث میں نقاط E، D، F بالترتیب

ضلع AB، ضلع BC، ضلع AC کے وسطی نقاط ہیں۔ تب ثابت کیجیے کہ $\triangle FED$

متساوی الاضلاع مثلث ہے۔



شکل 5.41

4. شکل 5.41 میں قطعہ PD، یہ $\triangle PQR$ کا وسطانیہ ہے۔ نقطہ T، ضلع PD کا

وسطی نقطہ ہے، QT بڑھانے پر PR کو M نقطہ پر قطع کرتا ہے تو

$$\frac{PM}{PR} = \frac{1}{3} \text{ دکھائیے کہ}$$

[ہدایت : $DN \parallel QM$ کھینچیے]

مجموعہ سوالات 5

1. درج ذیل سوالوں کے متبادل جواب میں سے صحیح متبادل منتخب کیجیے۔

(i) جس ذواربعۃ الاضلاع کے متوازی اضلعوں کی تمام جوڑیاں متماثل ہوتی ہیں تو اس ذواربعۃ الاضلاع کا نام کون سا ہے؟

- (A) مستطیل (B) متوازی الاضلاع (C) ذورنقہ (D) معین

(ii) ایک مربع کے وتر کی لمبائی $12\sqrt{2}$ سم ہے تو اس کا احاطہ کتنا ہے؟

- (A) 24 سم (B) $24\sqrt{2}$ سم (C) 48 سم (D) $48\sqrt{2}$ سم

(iii) ایک معین کے مقابل کے زاویوں کی پیمائش $(2x)^\circ$ اور $(3x-40)^\circ$ ہوں تب $x = ?$

- (A) 100° (B) 80° (C) 160° (D) 40°

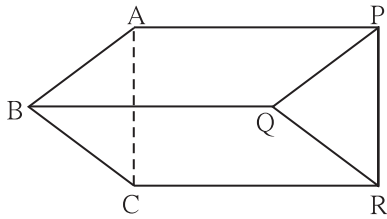
2. ایک قائمہ الزاویہ ذواربعتہ الاضلاع کے متواتر اضلاع بالترتیب 7 سم اور 24 سم ہیں۔ تب اس ذواربعتہ الاضلاع کے وتر کی لمبائی معلوم کیجیے۔

3. مربع کے وتر کی لمبائی 13 سم ہے تو مربع کا ضلع معلوم کیجیے۔

4. متوازی الاضلاع کے دو متصلہ اضلاع کی نسبت 3 : 4 ہے۔ اگر اس کا احاطہ 112 سم ہو تب اس کے تمام اضلاع کی لمبائیاں معلوم کیجیے۔

5. معین کے وتر PR اور QS کی لمبائیاں بالترتیب 20 سم اور 48 سم ہے۔ تب معین PQRS کے ضلع PQ کی لمبائی معلوم کیجیے۔

6. مستطیل PQRS کے وتر ایک دوسرے کو M نقطہ پر قطع کرتے ہیں۔ اگر $\angle QMR = 50^\circ$ ہو تب $\angle MPS$ کی پیمائش معلوم کیجیے۔



شکل 5.42

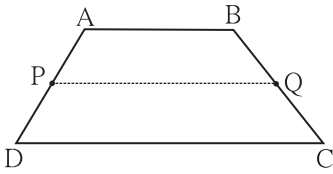
7. متصلہ شکل 5.42 میں،

PQ قطعہ \parallel AB قطعہ، PQ قطعہ \cong AB قطعہ،

PR قطعہ \parallel AC قطعہ، PR قطعہ \cong AC قطعہ

تو ثابت کیجیے کہ QR قطعہ \parallel BC قطعہ اور

QR قطعہ \cong BC قطعہ



شکل 5.43

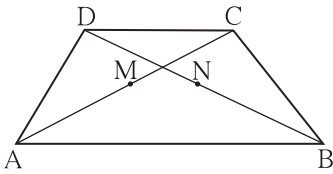
8. متصلہ شکل 5.43 میں $\square ABCD$ ذوزنقہ ہے۔ $AB \parallel DC$ ہے۔ P اور Q بالترتیب قطعہ AD اور قطعہ BC کے وسطی نقاط ہیں۔ تو ثابت کیجیے کہ $PQ = \frac{1}{2}(AB + DC)$ اور $PQ \parallel AB$

9. متصلہ شکل 5.44 میں $\square ABCD$ ذوزنقہ ہے۔ $AB \parallel DC$ ہے۔

9. متصلہ شکل 5.44 میں $\square ABCD$ ذوزنقہ ہے۔ $AB \parallel DC$ ہے۔

M اور N بالترتیب وتر AC اور وتر DB کے وسطی نقاط ہیں تو

ثابت کیجیے کہ $MN \parallel AB$

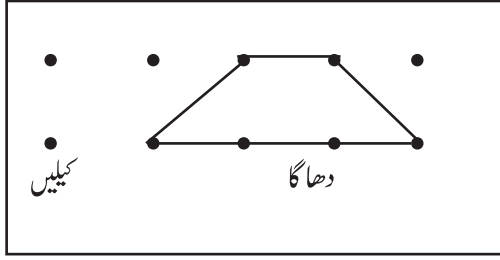


شکل 5.44

عملی کام :

ذوابعۃ الاضلاع کے مختلف مسلوں کی تصدیق کرنا۔

وسائل : سم 10×15 سم کا پلائے ووڈ کا ایک ٹکڑا، 12 سے 15 کیلیں، موٹا دھاگا، پرانے دعوت نامے، قینچی



شکل 5.45

ہدایت : سم 10×15 سم کے پلائے ووڈ کے ٹکڑے پر مستقیم خط میں 2 سم کے

فاصلے پر 5 کیلیں ٹھونکیے۔ اسی طرح نیچے کے خط مستقیم میں کیلیں ٹھونکیے۔

دو خطوط کے درمیان بھی 2 سم کا فاصلہ رکھیے۔ دھاگے سے مختلف

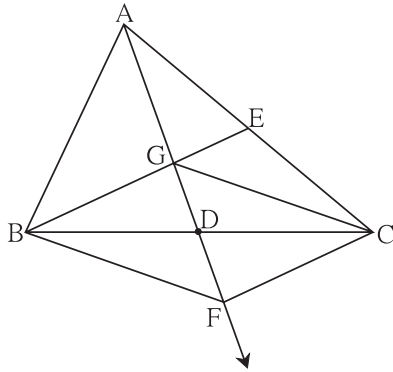
ذوابعۃ الاضلاع (کیلیں کے سہارے) بنائیے۔ ضلع سے متعلق

خصوصیات کی دھاگے کی مدد سے تصدیق کیجیے۔ اس کی مدد سے ذوابعۃ الاضلاع

کے زاویوں سے متعلق خصوصیات کی تصدیق کیجیے۔

مزید معلومات کے لیے

مثلثوں کے ہندسی مرکز ہر وسطانیہ کو 1 : 2 کے تناسب میں تقسیم کرتے ہیں۔ یہ خصوصیت آپ کو معلوم ہے۔ نیچے دیے ہوئے ثبوت کا مطالعہ کیجیے۔



شکل 5.46

دیا ہوا ہے : $\triangle ABC$ کے قطعہ AD اور قطعہ BE وسطانیہ ہیں۔ جو نقطہ G

پر قطع ہوتے ہیں۔

ثابت کرنا ہے : $AG : GD = 2 : 1$

عمل : شعاع AD پر نقطہ F اس طرح لیجیے کہ $G - D - F$ اور

$$GD = GF$$

ثبوت : $\square BGCF$ کے وتر ایک دوسرے کی تنصیف کرتے ہیں۔

... (دیا ہوا ہے اور عمل)

$\therefore \square BGCF$ متوازی الاضلاع ہے۔

(متوازی الاضلاع کے مقابل کے اضلاع کو شامل کرنے والا خط) ... خط $FC \parallel BE$ قطعہ \therefore

اب $\triangle AFC$ کے ضلع AC کا وسطی نقطہ ہے۔ ... (دیا ہوا ہے)

\therefore خط $EB \parallel FC$ قطعہ \therefore

مثلاً کے ایک ضلع کے وسطی نقطہ سے دوسرے ضلع کے متوازی خط، تیسرے ضلع کی تنصیف کرتا ہے۔

\therefore قطعہ AF کا وسطی نقطہ ہے۔

$$\therefore AG = GF$$

$$AG = 2GD$$

$$(\because GF = 2GD, \text{ عمل})$$

$$\therefore \frac{AG}{GD} = \frac{2}{1}$$

یعنی , $AG : GD = 2 : 1$





دائرہ Circle

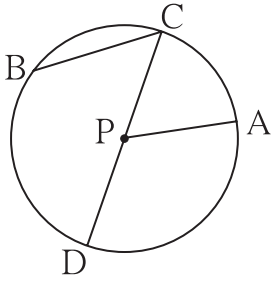
6

آئیے، سیکھیں



- دائرہ
- داخلی دائرہ
- دائرہ کے وتر کی خصوصیت
- حائط دائرہ

آئیے ذرا یاد کریں



شکل 6.1

متصلہ شکل میں P مرکز والے دائرہ کا مشاہدہ کیجیے۔
اس شکل کے لحاظ سے درج ذیل جدول مکمل کیجیے۔

.....	قطعہ PA	$\angle CPA$
وتر	قطر	نصف قطر	مرکز	مرکزی زاویہ

آئیے سمجھ لیں



دائرہ (Circle)

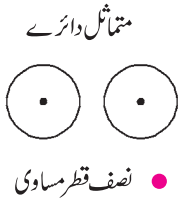
نقاط کے سیٹ کی صورت میں دائرہ کی تعریف کرتے ہیں۔

- مستوی میں ایک متعین نقطہ سے مساوی فاصلوں پر واقع تمام نقاط کے سیٹ کو دائرہ (Circle) کہتے ہیں۔
- اس متعین نقطہ کو دائرہ کا مرکز (Centre of a Circle) کہتے ہیں۔

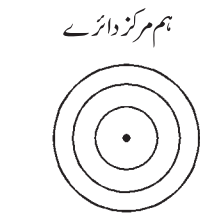
دائرہ سے متعلق کچھ اصطلاحات :

- دائرہ کے مرکز اور دائرہ پر کے کوئی بھی نقطہ کو جوڑنے والے قطعہ خط کو دائرہ کا نصف قطر (radius) کہتے ہیں۔
- دائرہ کے مرکز اور دائرہ کے کوئی بھی نقطہ کے درمیان فاصلہ کو دائرہ کا نصف قطر کہتے ہیں۔
- دائرہ پر کے کوئی بھی دو نقاط کو جوڑنے والے قطعہ خط کو دائرہ کا وتر Chord کہتے ہیں۔
- دائرہ کے مرکز سے گزرنے والے وتر کو اس دائرہ کا قطر (Diameter) کہتے ہیں۔ قطر، دائرہ کا سب سے بڑا وتر ہوتا ہے۔

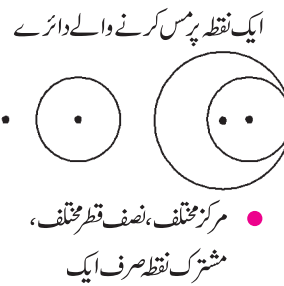
مستوی میں دائرے



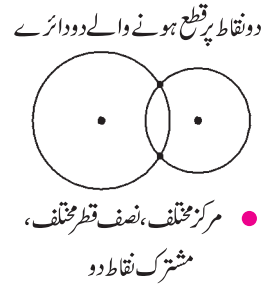
متماثل دائرے
• نصف قطر مساوی



ہم مرکز دائرے
• مرکز ایک اور نصف قطر مختلف



ایک نقطہ پر مس کرنے والے دائرے
• مرکز مختلف، نصف قطر مختلف،
مشترک نقطہ صرف ایک

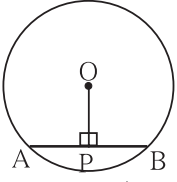


دونوں نقطہ پر قطع ہونے والے دو دائرے
• مرکز مختلف، نصف قطر مختلف،
مشترک نقاط دو

شکل 6.2

دائرہ کے وتر کی خصوصیت (Properties of chord of a circle)

عملی کام : گروہ کے ہر طالب علم سے درج ذیل عملی کام کروائیے۔



شکل 6.3

اپنی بیاض میں ایک دائرہ کھینچیے۔ اس میں ایک وتر کھینچیے۔ دائرہ کے مرکز سے وتر پر عمود کھینچیے۔ وتر کے دو حصے ہو جائیں گے۔ ان کی لمبائیاں ناپیے۔

گروہ کار ہنما درج ذیل کے مطابق ایک جدول بنائے۔ اس جدول میں تمام ہی مشاہدات کا اندراج کرے۔

طالب علم / لمبائی	1	2	3	4	5	6
$l(AP)$	سم					
$l(PB)$	سم					

ان مشاہدات کی بنا پر ذہن میں آنے والی خصوصیت لکھیے۔ اس خصوصیت کا ثبوت دیکھیں گے۔

مسئلہ : دائرہ کے مرکز سے وتر پر کھینچا گیا عمود وتر کی تنصیف کرتا ہے۔

دیا ہوا ہے : O مرکز والے دائرے کا قطعہ AB وتر ہے۔

AB وتر $OP \perp$ قطعہ

ثابت کیجیے : قطعہ $AP \cong$ قطعہ BP

ثبوت : قطعہ OA اور قطعہ OB کھینچیے۔

ΔOPA اور ΔOPB میں،

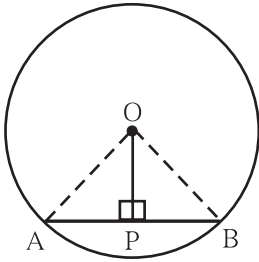
$\angle OPA \cong \angle OPB$... (AB وتر $OP \perp$ قطعہ)

قطعہ $OP \cong$ قطعہ OP ... (مشترک ضلع)

وتر $OA \cong$ وتر OB ... (ایک ہی دائرہ کے نصف قطر)

$\therefore \Delta OPA \cong \Delta OPB$... (وتر ضلع مسئلہ)

قطعہ $PA \cong$ قطعہ PB ... (متماثل مثلثوں کے نظیری اضلاع)



شکل 6.4

عملی کام (II) گروہ کے ہر طالب علم سے درج ذیل عملی کام کروائیے۔

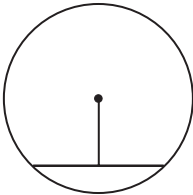
اپنی بیاض میں ایک دائرہ کھینچیے۔ اس میں ایک وتر کھینچیے۔ وتر کا وسطی نقطہ معلوم کیجیے۔

اس وسطی نقطہ اور دائرہ کے مرکز کو جوڑنے والا قطعہ خط کھینچیے۔

اس قطعہ خط کے وتر سے جو زاویہ بنانا ہے اسے ناپیے۔ کیا سمجھ میں آتا ہے؟

آپ کے ناپے ہوئے زاویوں کی پیمائشیں ایک دوسرے کو بتائیے۔

اس بناء پر کون سی خصوصیت سمجھ میں آتی ہے۔ اسے طے کیجیے۔



شکل 6.5

مسئلہ : دائرے کے مرکز اور وتر کے وسطی نقطہ کو جوڑنے والا قطعہ خط وتر پر عمود ہوتا ہے۔

دیا ہوا ہے : O مرکز والے دائرے کا قطعہ AB وتر ہے۔

وتر AB کا وسطی نقطہ ہے اس لیے قطعہ AP \cong قطعہ PB

ثابت کرنا ہے : AB وتر \perp OP قطعہ

ثبوت : قطعہ OA اور قطعہ OB کھینچیے۔

ΔAOP اور ΔBOP میں،

OA قطعہ \cong OB قطعہ ... (ایک ہی دائرے کے نصف قطر)

OP قطعہ \cong OP قطعہ ... (مشترک ضلع)

AP قطعہ \cong BP قطعہ ... (دیا ہوا ہے)

$\therefore \Delta AOP \cong \Delta BOP$... (ضلع ضلع آزمائش)

$\therefore \angle OPA \cong \angle OPB$... (I) ... (متماثل مثلثوں کے نظیری زاویے)

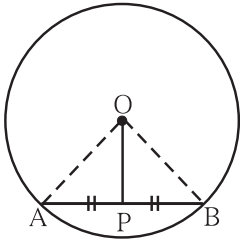
اب ، $\angle OPA + \angle OPB = 180^\circ$... (خطی جوڑی کے زاویے)

$\therefore \angle OPB + \angle OPB = 180^\circ$... [بیان (I) سے]

$$2 \angle OPB = 180^\circ$$

$$\angle OPB = 90^\circ$$

\therefore OP قطعہ \perp AB وتر



شکل 6.6

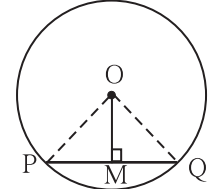
حل کردہ مثالیں :

مثال (1) : ایک دائرہ کا نصف قطر 5 سم ہے۔ اس دائرہ کے ایک وتر کی لمبائی 8 سم ہے تو اس وتر کا دائرہ کے مرکز سے فاصلہ معلوم کیجیے۔

حل : سب سے پہلے دی ہوئی معلومات کو ظاہر کرنے والی شکل بنائیں گے۔

فرض کیجیے O مرکز والے دائرہ کے وتر PQ کی لمبائی 8 سم ہے۔

PQ وتر \perp OM قطعہ کھینچیے۔



شکل 6.7

ہمیں پتہ ہے کہ دائرہ کے مرکز سے وتر پر کھینچا گیا عمود وتر کی تنصیف کرتا ہے۔

$$PM = MQ = 4 \text{ سم}$$

OQ = 5 سم ... (دائرے کا نصف قطر 5 سم دیا ہوا ہے)

قائمہ الزاویہ ΔOMQ میں فیثا غورث کے مسئلہ کی رؤ سے

$$OM^2 + MQ^2 = OQ^2$$

$$OM^2 + 4^2 = 5^2$$

$$\therefore OM^2 = 5^2 - 4^2 = 25 - 16 = 9 = 3^2$$

$$\therefore OM = 3$$

لہذا دائرہ کے مرکز سے وتر کا فاصلہ 3 سم ہے۔

مثال (2) : ایک دائرہ کا نصف قطر 20 سم ہے۔ اس دائرہ کا ایک وتر، دائرہ کے مرکز سے 12 سم فاصلہ پر ہے۔ تب اس وتر کی لمبائی معلوم کیجیے۔
 حل : فرض کیجیے دائرہ کا مرکز O ہے۔ سم $OD = 20$ = نصف قطر۔ وتر CD، مرکز O سے 12 سم فاصلہ پر ہے۔
 $OP \perp CD$ قطعہ

$$OP = 12 \text{ سم}$$

$$CP = PD$$

(دائرہ کے مرکز سے وتر پر کھینچا گیا عمود وتر کی تنصیف کرتا ہے) ...

قائم الزاویہ $\triangle OPD$ میں فیثاغورث کے مسئلہ کی رؤ سے،

$$OP^2 + PD^2 = OD^2$$

$$12^2 + PD^2 = 20^2$$

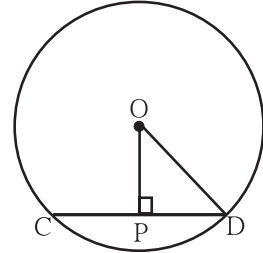
$$PD^2 = 20^2 - 12^2$$

$$PD^2 = (20+12)(20-12)$$

$$= 32 \times 8 = 256$$

$$\therefore PD = 16 \quad , \quad \therefore CP = 16$$

$$\text{لیکن , } CD = CP + PD = 16 + 16 = 32$$



شکل 6.8

وتر کی لمبائی 32 سم ہے۔

مشقی سیٹ 6.1

(1) دائرہ کے مرکز O سے وتر AB کا فاصلہ 8 سم ہے۔ وتر AB کی لمبائی 12 سم ہے، تو دائرہ کا قطر معلوم کیجیے۔

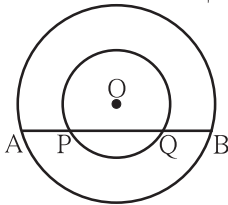
(2) ایک دائرہ کا قطر 26 سم ہے اور وتر کی لمبائی 24 سم ہے تو اس وتر کا دائرہ کے مرکز سے فاصلہ معلوم کیجیے۔

(3) دائرہ کے مرکز سے وتر کا فاصلہ 30 ہے اور دائرہ کا نصف قطر 34 ہے، تو وتر کی لمبائی معلوم کیجیے۔

(4) مرکز والے دائرہ کا نصف قطر 41 ہے۔ دائرہ کے وتر کی لمبائی 80 ہے تو وتر PQ کا مرکز سے فاصلہ معلوم کیجیے۔

(5) شکل 6.9 میں، مرکز O والے دو دائرے ہیں، بڑے دائرہ کا وتر AB،

چھوٹے دائرہ کو نقطہ P اور Q پر قطع کرتا ہے تو ثابت کیجیے کہ $AP = BQ$



شکل 6.9

(6) ثابت کیجیے کہ دائرہ کا قطر اگر دائرہ کے دو وتروں کی تنصیف کرتا ہو تب وہ دونوں وتر ایک دوسرے کے متوازی ہوتے ہیں۔

عملی کام I :

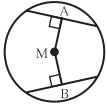
(1) اپنی سہولت والے نصف قطر کے دائرہ بنائیے۔ (2) ہر دائرہ میں مساوی لمبائی کے دو وتر کھینچیے۔

(3) دائرہ کے مرکز سے ہر وتر پر عمود کھینچیے۔ (4) دائرہ کے مرکز سے ہر وتر کا فاصلہ ناپیے۔

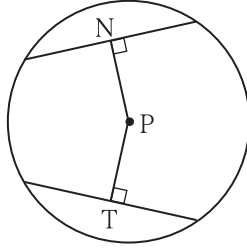


دائرہ کے متماثل وتر اور ان کا دائرہ کے مرکز سے فاصلہ سے متعلق خصوصیت

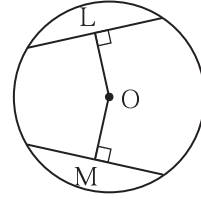
عملی کام II :



شکل (iii)



شکل (ii)



شکل (i)

شکل (i) میں $OL = OM$ ، شکل (ii) میں $PN = PT$ ، شکل (iii) میں $MA = MB$ کیا ایسا سمجھ میں آتا ہے؟ اس عملی کام سے دھیان میں آنے والی خصوصیت کو الفاظ میں لکھیے۔



متماثل وتروں کی خصوصیت (Properties of congruent chords)

مسئلہ : ایک ہی دائرہ کے متماثل وتر دائرہ کے مرکز سے مساوی فاصلہ پر ہوتے ہیں۔

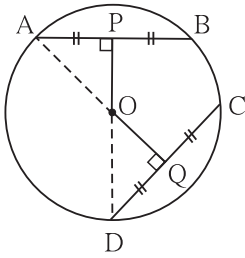
دیا ہوا ہے : O مرکز والے دائرہ میں،

وتر $AB \cong$ وتر CD

$OQ \perp CD$ ، $OP \perp AB$

ثابت کرنا ہے : $OP = OQ$

عمل : A, O اور D, O کو جوڑیے۔



شکل 6.10

ثبوت : (دائرہ کے مرکز سے وتر پر کھینچا گیا عمود، وتر کی تئسیف کرتا ہے۔) ... $AP = \frac{1}{2} AB$ ، $DQ = \frac{1}{2} CD$

$AB = CD$... (دیا ہوا ہے)

$\therefore AP = DQ$

قطعہ $AP \cong$ قطعہ DQ ... (I) ... (مساوی لمبائی کے قطعات)

قائم الزاویہ ΔAPO اور قائم الزاویہ ΔDQO میں،

قطعہ $AP \cong$ قطعہ DQ ... [سے (I)]

وتر $OA \cong$ وتر OD ... (ایک ہی دائرہ کے نصف قطر)

$\therefore \Delta APO \cong \Delta DQO$... (وتر - ضلع مسئلہ)

\therefore قطعہ $OP \cong$ قطعہ OQ ... (متماثل مثلثوں کے نظیری اضلاع)

$\therefore OP = OQ$... (متماثل قطعات کی لمبائی مساوی ہوتی ہے)

دائرہ کے متماثل وتر دائرہ کے مرکز سے مساوی فاصلہ پر ہوتے ہیں۔

مسئلہ : ایک ہی دائرہ کے مرکز سے مساوی فاصلہ پر واقع وتر متماثل ہوتے ہیں۔

دیا ہوا ہے : O مرکز والے دائرہ میں،

OP = OQ اور وتر CD ، قطعہ OP ⊥ وتر AB

ثابت کرنا ہے : وتر AB ≅ وتر CD

عمل : O, A, D اور O, C, B کو جوڑیے۔

ثبوت : درج ذیل بیانات کے لیے خالی جگہ پر کیجیے۔

قائمہ الزاویہ ΔOPA اور قائمہ الزاویہ ΔOQD میں،

وتر OA ≅ وتر OD ...

قطعہ OP ≅ قطعہ OQ ... (دیا ہوا ہے۔) ...

ΔOPA ≅ ΔOQD ...

قطعہ AP ≅ قطعہ QD ... (متماثل مثلثوں کے نظیری اضلاع) ...

AP = QD ... (I)

لیکن , AP = $\frac{1}{2}$ AB, QD = $\frac{1}{2}$ CD ...

∴ AP = QD ... (I کی رؤ سے) ...

∴ AB = CD

∴ قطعہ AB ≅ قطعہ CD

مذکورہ بالا دونوں مسئلے ایک دوسرے کے عکس ہیں۔ اسے سمجھ لیجیے۔

اسے دھیان میں رکھیں

ایک دائرہ کے متماثل وتر دائرہ کے مرکز سے مساوی فاصلہ پر ہوتے ہیں۔

عملی کام :

مذکورہ بالا دونوں مسئلے ایک ہی دائرہ کی بجائے دو متماثل دائرے لے کر ثابت کر سکتے ہیں۔

1. متماثل دائروں کے متماثل وتر دائرے کے مرکزوں سے مساوی فاصلہ پر ہوتے ہیں۔

2. متماثل دائروں کے مرکزوں سے مساوی فاصلوں پر واقع وتر متماثل ہوتے ہیں۔

یہ دونوں مسئلوں کے لیے دیا ہوا ہے، ثابت کرنا ہے اور ثبوت لکھیے۔

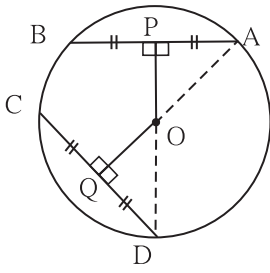
حل کردہ مثالیں :

مثال (1) : دی ہوئی شکل 6.12 میں نقطہ O، دائرہ کا مرکز ہے اور

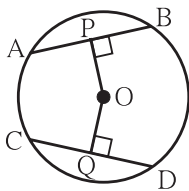
AB = CD ہے۔ اگر OP = 4 ہو تو OQ کی لمبائی معلوم کیجیے۔

حل : O مرکز والے دائرے میں،

وتر AB ≅ وتر CD ... (دیا ہوا ہے۔) ...



شکل 6.11



شکل 6.12

(شکل میں دکھایا ہوا ہے) ... $OP \perp AB$ ، $OQ \perp CD$

سم $OP = 4$ دیا ہوا ہے۔ لہذا وتر AB کا دائرہ کے مرکز O سے فاصلہ 4 سم ہے۔
ہمیں معلوم ہے کہ ایک ہی دائرہ کے متماثل وتر دائرہ کے مرکز سے مساوی فاصلہ پر ہوتے ہیں۔
 $\therefore OQ = 4$ سم

مشقی سیٹ 6.2

- (1) ایک دائرہ کا نصف قطر 10 سم ہے۔ اس دائرہ میں دو وتر ہیں۔ ہر ایک کی لمبائی 16 سم ہے۔ تو وہ وتر دائرہ کے مرکز سے کتنے فاصلہ پر ہیں؟
- (2) ایک دائرہ میں دو مساوی لمبائی کے وتر ہیں۔ دائرہ کے مرکز سے وہ 5 سم فاصلے پر ہیں۔ دائرہ کا نصف قطر 13 سم ہے۔ تو ان وتروں کی لمبائی معلوم کیجیے۔
- (3) مرکز C والے دائرہ کے قطعہ PM اور قطعہ PN متماثل وتر ہیں۔ تو ثابت کیجیے کہ شعاع PC یہ $\angle NPM$ کی ناصف ہے۔

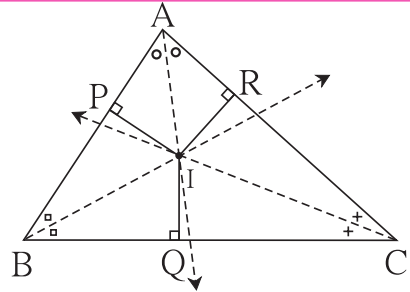


گذشتہ جماعت میں ہم مختلف مثلث بنا کر ان کے زاویوں کے ناصف متراکز ہوتے ہیں۔ اس خصوصیت کی تصدیق کر چکے ہیں۔ مثلث کے زاویوں کے ناصفوں کا نقطہ تراکز 'I' حرف سے ظاہر کرتے ہیں۔



مثلث کا داخلی دائرہ (Incircle of a triangle)

$\triangle ABC$ کے تینوں زاویوں کے ناصف I نقطہ پر ملتے ہیں۔
زاویوں کے ناصفوں کو I نقطہ تراکز سے مثلث کے تینوں ضلعوں پر عمود کھینچے ہوئے ہیں۔
 $IP \perp AB$ ، $IQ \perp BC$ ، $IR \perp AC$



شکل 6.13

زاویوں کے ناصفوں پر واقع ہر نقطہ زاویے کے دونوں ساقین (ضلعوں) سے مساوی فاصلے پر ہوتے ہیں اس کا مطالعہ ہم کر چکے ہیں۔

$\angle B$ کے ناصف پر I نقطہ ہے۔ اس لیے $IP = IQ$

$\angle C$ کے ناصف پر I نقطہ ہے۔ اس لیے $IQ = IR$

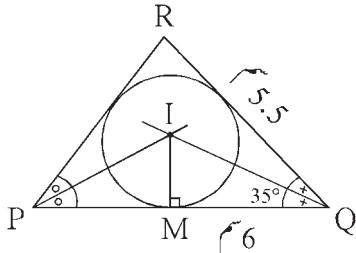
$$\therefore IP = IQ = IR$$

نقطہ I ، مثلث کے تینوں اضلاع سے یعنی AB ، AC ، BC سے ہم فاصلہ ہے۔

نقطہ I کو مرکز مان کر اور IP کو نصف قطر لے کر کھینچا گیا دائرہ ضلع AB ، AC اور BC کو اندرونی طور پر مس کرے گا۔ ایسے دائرہ کو مثلث کا داخلی دائرہ کہتے ہیں۔



(To construct incircle of a triangle) مثلث کا داخلی دائرہ بنانا



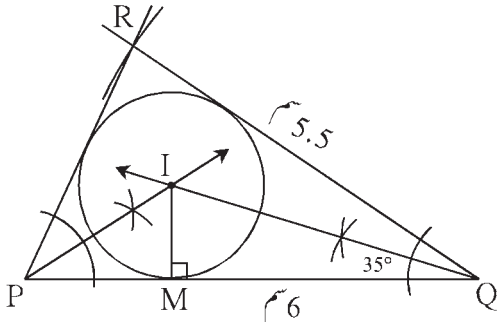
کچی شکل 6.14

مثال : ΔPQR اس طرح بنائیے کہ $\angle Q = 35^\circ$ ، $PQ = 6$ سم

سم $QR = 5.5$ ، ΔPQR کا داخلی دائرہ بنائیے۔

پہلے کچی شکل بنائیے اور اس میں دی ہوئی معلومات دکھائیے۔

عمل کے مراحل :



شکل 6.15

(1) ΔPQR دی ہوئی پیمائشوں کا مثلث بنائیے۔

(2) کوئی بھی دو زاویوں کے ناصف کھینچیے۔

(3) زاویوں کے ناصفوں کے نقطہ تقاطع کا I نام دیجیے۔

(4) نقطہ I سے قطعہ PQ پر عمود کھینچیے۔

(5) IM نصف قطر اور I کو مرکز مان کر دائرہ بنائیے۔

اسے دھیان میں رکھیں



مثلث کے تینوں ضلعوں کو مس کرنے والے دائرہ کو مثلث کا داخلی دائرہ کہتے ہیں اور اس دائرہ کے مرکز کو داخلی مرکز کہتے ہیں۔

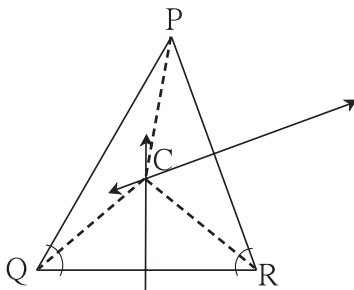
آئیے ذرا یاد کریں



گذشتہ جماعت میں ہم نے 'مثلث کے اضلاع کے عمودی ناصف متراکز ہوتے ہیں' اس خصوصیت کی مختلف مثلث بنا کر تصدیق کر چکے ہیں۔

مثلث کے اضلاع کے عمودی ناصفوں کے نقطہ تراکز کو 'C' حرف سے ظاہر کرتے ہیں۔

آئیے سمجھ لیں



شکل 6.16

ΔPQR کے اضلاع کے عمودی ناصف 'C' نقطہ پر ملتے ہیں۔ اس لیے

'C' عمودی ناصفوں کا نقطہ تراکز ہے۔

مثلث کا حائط دائرہ (Circum circle)

نقطہ C، مثلث PQR کے تینوں اضلاع کے عمودی ناصفوں پر واقع ہے۔ PC، QC اور RC کو جوڑیے۔ قطعہ خط کے عمودی ناصف پر واقع ہر نقطہ، اس قطعہ خط کے اختتامی نقاط سے مساوی فاصلہ پر ہوتا ہے۔ ہم اس کا مطالعہ کر چکے ہیں۔

$$\therefore PC = QC \quad \dots \text{(I)} \quad \dots \text{(نقطہ C، قطعہ PQ کے عمودی ناصف پر ہے۔)}$$

$$\therefore QC = RC \quad \dots \text{(II)} \quad \dots \text{(نقطہ C، قطعہ QR کے عمودی ناصف پر ہے۔)}$$

$$\therefore PC = QC = RC \quad \dots \text{(بیان I اور II سے)}$$

\therefore نقطہ C کو مرکز مان کر PC کو نصف قطر لے کر بنایا گیا دائرہ مثلث کے تینوں راس سے گزرے گا۔ ایسے دائرہ کو مثلث کا حائط دائرہ کہتے ہیں۔

اسے دھیان میں رکھیں

مثلث کے تمام راسوں سے گزرنے والے دائرہ کو مثلث کا حائط دائرہ کہتے ہیں اور اس دائرہ کے مرکز کو حائط مرکز کہتے ہیں۔

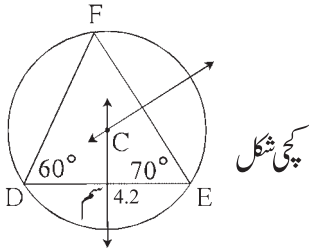
آئیے سمجھ لیں

مثلث کا حائط دائرہ بنانا :

مثال : مثلث DEF میں $\angle E = 70^\circ$ ، $\angle D = 60^\circ$ ، $DE = 4.2$ سم

DEF Δ بنائیے۔ اور اس کا حائط دائرہ بنائیے۔

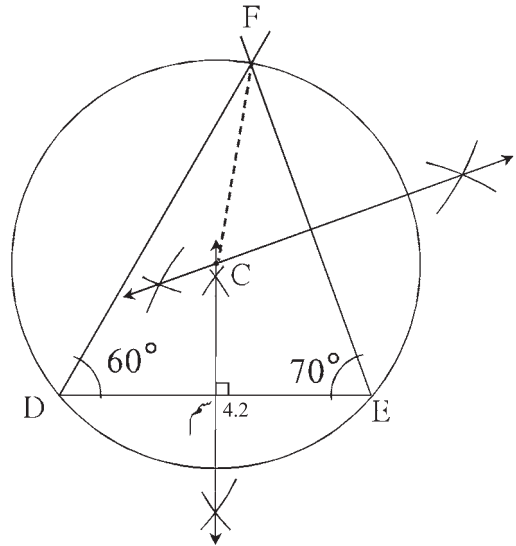
پہلے کچی شکل بنائیے۔ اس میں دی ہوئی معلومات لکھیے۔



شکل 6.17

عمل کے مراحل :

- (1) دی ہوئی پیمائش کا مثلث DEF بنائیے۔
- (2) کوئی دو اضلاع کے عمودی ناصف بنائیے۔
- (3) وہ عمودی ناصف جہاں ملتے ہیں اس نقطہ کو C نام دیجیے۔
- (4) قطعہ CF کھینچیے۔
- (5) CF نصف قطر لے کر اور C کو مرکز مان کر دائرہ کھینچیے۔



شکل 6.18

عملی کام :

مختلف پیمائشوں کے اور مختلف قسم کے مثلث بنائیے۔ ان کے داخلی دائرے اور حائل دائرے بنائیے۔ اپنے مشاہدات کا درج ذیل جدول میں اندراج کیجیے اور بحث کیجیے۔

مختلف الاضلاع مثلث	تساوی الساقین مثلث	تساوی الاضلاع مثلث	مثلث کی قسم
مثلث کے اندر	مثلث کے اندر	مثلث کے اندر	داخلی دائرہ کے مرکز کا مقام
	مثلث کے اندر یا باہر یا مثلث پر	مثلث کے اندر	حائل دائرہ کے مرکز کا مقام

منفرجہ الزاویہ مثلث	قائمہ الزاویہ مثلث	حادیہ الزاویہ مثلث	مثلث کی قسم
			داخلی دائرہ کے مرکز کا مقام
	وتر کی وسط میں		حائل دائرہ کے مرکز کا مقام

اسے دھیان میں رکھیں



- مثلث کا داخلی دائرہ مثلث کے تمام اضلاع کو اندر سے مس کرتا ہے۔
- مثلث کا داخلی دائرہ بنانے کے لیے مثلث کے کوئی بھی دوز او یوں کے ناصف بنانا ہوتے ہیں۔
- مثلث کا حائل دائرہ مثلث کے تینوں راسوں سے گذرتا ہے۔
- مثلث کا داخلی دائرہ بنانے کے لیے اس کے کوئی بھی دو اضلاع کے عمودی ناصف کھینچنا ہوتے ہیں۔
- حادہ الزاویہ مثلث کا حائل مرکز مثلث کے اندر ہوتا ہے۔
- قائمہ الزاویہ مثلث کا حائل مرکز، وتر کا وسطی نقطہ ہوتا ہے۔
- منفرجہ الزاویہ مثلث کا حائل مرکز مثلث کے باہر ہوتا ہے۔
- کسی بھی مثلث کے داخلی دائرہ کا داخلی مرکز۔ مثلث کے اندرونی حصہ میں ہوتا ہے۔

عملی کام : کوئی بھی ایک تساوی الاضلاع مثلث بنا کر اس کا حائل دائرہ اور داخلی دائرہ بنائیے۔

مذکورہ عملی کام کرتے وقت آپ کو درج ذیل کے بارے میں کیا مشاہدہ ہوتا ہے۔

- (1) مثلث کا حائل دائرہ اور داخلی دائرہ بناتے وقت اس کے زاویے کے ناصف اور اضلاع کے عمودی ناصف یہ دونوں صرف ایک ہی ہیں۔ کیوں؟
- (2) حائل دائرہ اور داخلی دائرہ کے مرکز صرف ایک ہی ہوتا ہے۔ کیوں؟
- (3) حائل دائرہ کا نصف قطر اور داخلی دائرہ کے نصف قطر ناپ کر ان کی نسبت معلوم کیجیے۔

اسے دھیان میں رکھیں



- متساوی الاضلاع مثلث کا حائظ دائرہ اور داخلی دائرہ بناتے وقت ان کے زاویے کے ناصف اور اضلاع کے ناصف ایک ہی ہوتے ہیں۔
- متساوی الاضلاع مثلث کا حائظ مرکز اور داخلی مرکز دونوں ایک ہی ہوتے ہیں۔
- متساوی الاضلاع مثلث کا حائظ دائرہ کے نصف قطر کی داخلی دائرہ کے نصف قطر سے نسبت 2 : 1 ہوتی ہے۔

مشقی سیٹ 6.3

- (1) ΔABC اس طرح بنائیے کہ $\angle B = 100^\circ$ ، $BC = 6.4$ سم، $\angle C = 50^\circ$ اور اس مثلث کا داخلی دائرہ بنائیے۔
- (2) ΔPQR اس طرح بنائیے کہ $\angle P = 70^\circ$ ، $\angle R = 50^\circ$ ، $QR = 7.3$ سم اور اس مثلث کا حائظ دائرہ بنائیے۔
- (3) ΔXYZ اس طرح بنائیے کہ $XY = 6.7$ سم، $YZ = 5.8$ سم، $XZ = 6.9$ سم اور اس مثلث کا داخلی دائرہ بنائیے۔
- (4) ΔLMN اس طرح بنائیے کہ $LM = 7.2$ سم، $\angle M = 105^\circ$ ، $MN = 6.4$ سم ہو تب مثلث LMN بنائیے اور اس کا حائظ دائرہ بنائیے۔
- (5) ΔDEF بنائیے سم $DE = EF = 6$ ، $\angle F = 45^\circ$ اور اس مثلث کا حائظ دائرہ بنائیے۔

مجموعہ سوالات 6

1. درج ذیل کثیر متبادل سوالوں کے دیے ہوئے جواب میں سے صحیح متبادل منتخب کیے۔
- (i) ایک دائرہ کا نصف قطر 10 سم ہے۔ اس کا ایک وتر دائرہ کے مرکز سے 6 سم فاصلہ پر ہے۔ تو اس وتر کی لمبائی کتنی ہے؟
 (A) 16 سم (B) 8 سم (C) 12 سم (D) 32 سم
- (ii) مثلث کے تینوں زاویوں کے ناصف متراکز ہوتے ہیں۔ اس نقطہ تراکز کو کیا کہتے ہیں؟
 (A) عمودی تراکز (B) حائظ مرکز (C) داخلی مرکز (D) ہندی مرکز
- (iii) مثلث کے تمام راسوں سے گزرنے والے دائرہ کو کیا کہتے ہیں؟
 (A) ہم مرکز دائرے (B) داخلی دائرہ (C) متماثل دائرے (D) حائظ دائرہ
- (iv) ایک دائرے کے وتر کی لمبائی 24 سم ہے۔ اس کا مرکز سے فاصلہ 5 سم ہو تو اس دائرہ کا نصف قطر معلوم کیجیے۔
 (A) 12 سم (B) 13 سم (C) 14 سم (D) 15 سم
- (v) 2.9 سم نصف قطر والے دائرہ میں زیادہ سے زیادہ کتنی لمبائی کے وتر ہو سکتے ہیں؟
 (A) 3.5 سم (B) 7 سم (C) 10 سم (D) 5.8 سم
- (vi) ایک دائرہ کا نصف قطر 4 سم ہے۔ O دائرہ کا مرکز ہے۔ سم $(OP) = 4.2$ ہو تو نقطہ P کا مقام کہاں ہے؟
 (A) دائرہ پر (B) دائرہ کے اندرونی حصہ میں (C) دائرہ کے بیرون میں (D) مرکز پر

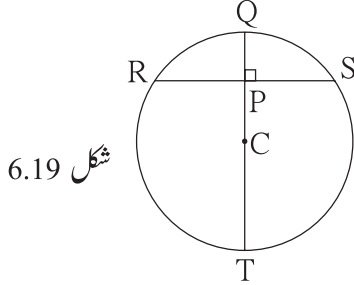
(vii) ایک دائرہ میں متوازی وتروں کی لمبائیاں 6 سم اور 8 سم ہے۔ اس دائرے کا نصف قطر 5 سم ہو تب ان وتروں کے درمیان کتنا فاصلہ ہے؟

- (A) 2 سم (B) 1 سم (C) 8 سم (D) 7 سم

2. متساوی الاضلاع ΔDSP میں $DS = 7.5$ سم ہو تب ΔDSP کا حائظ دائرہ اور داخلی دائرہ بنائیے۔ حائظ دائرہ اور داخلی دائرہ کے نصف قطر ناپ کر لکھیے۔ حائظ دائرہ کے نصف قطر کی داخلی دائرہ کے نصف قطر سے نسبت معلوم کیجیے۔

3. ΔNTS میں $NT = 5.7$ سم، $TS = 7.5$ سم اور $\angle NTS = 110^\circ$ ہے تب ΔNTS بنا کر اس کا حائظ دائرہ اور داخلی دائرہ بنائیے۔

4. شکل 6.19 میں C دائرہ کا مرکز ہے۔ قطعہ QT قطر ہے۔ $CP = 5$, $CT = 13$ ہو تب وتر RS معلوم کیجیے۔

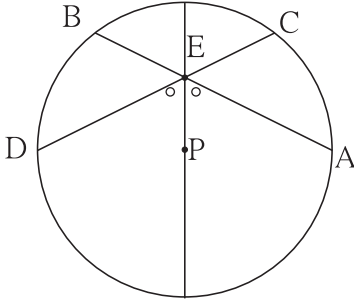


شکل 6.19

5. شکل 6.20 میں P دائرہ کا مرکز ہے۔ وتر AB اور وتر CD ، قطر کو نقطہ E

پر قطع کرتے ہیں۔ اگر $\angle AEP \cong \angle DEP$

تو ثابت کیجیے کہ $AB = CD$

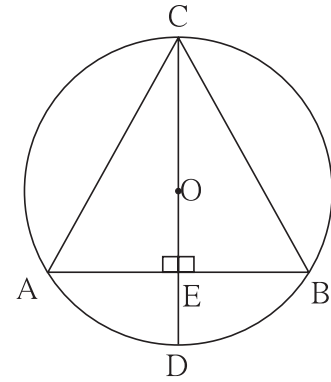


شکل 6.20

6. شکل 6.21 میں O مرکز والے دائرہ کا قطر CD ہے اور AB وتر ہے۔

قطر CD ، وتر AB کے نقطہ پر عمود ہے۔

تو دکھائیے کہ ΔABC متساوی الساقین مثلث ہے۔



شکل 6.21

ITC Tools or Links



Geogebra Software کی مدد سے مختلف دائرے بنا کر درمیان میں وتروں کی خصوصیات کا عملی طور پر تجربہ کیجیے۔ الگ الگ حائظ دائرے،

مثلثوں کے داخلی دائرے بنائیے۔ Move Option کا استعمال کر کے اصل مثلثوں کی ساخت میں تبدیلی کر کے داخلی مرکز، حائظ مرکز کے کس طرح

تبدیل ہوتے ہیں۔ ان کا عملی طور پر مشاہدہ کیجیے۔





آئیے، سیکھیں



• X- محور کے متوازی خط

• Y- محور کے متوازی خط

• خط کی مساوات

• محور، مبداء اور ربع

• نقطہ کے مستوی میں محدودین

• نقطہ مرتسم کرنا



ایک عمارت کے سامنے میدان میں چنٹو اور اس کے دوست

کرکٹ کھیل رہے تھے۔ ایک بزرگ وہاں تشریف لائے۔

بزرگ : ارے چنٹو، دتا بھاؤ اسی سوسائٹی میں رہتے ہیں نا؟

چنٹو : جی ہاں، یہیں رہتے ہیں۔ دوسرے منزلہ پر ان کا گھر

ہے۔ یہاں سے وہ کھڑکی دکھ رہی ہے نا وہیں۔

بزرگ : ارے، دوسرے منزلہ پر مجھے پانچ کھڑکیاں دکھائی دے

رہی ہیں۔ واقعی میں گھر کون سا ہے؟

چنٹو : دوسرے منزلے پر بائیں جانب سے تیسری کھڑکی ان کی

ہے۔

چنٹو کے ذریعے کیے گئے دتا بھاؤ کے گھر کے مقام کا وضاحتی بیان دراصل محدودی علم ہندسہ کا اصل تصور ہے۔ گھر کا مقام واقعی سمجھنے کے لیے صرف منزلہ کا نمبر

بتانا کافی نہیں ہے بلکہ بائیں طرف سے یا دائیں طرف سے کتنے نمبر پر گھر ہے بتانا ہوگا۔ یعنی ترتیب سے دو اعداد بتانا ہوگا۔ زمین سے دوسرا منزلہ بائیں

طرف سے تیسری کھڑکی، اس طرح دو ترتیبی اعداد کا استعمال کرنا ہوتا ہے۔

آئیے سمجھ لیں




محور، مبداء اور ربع (Axes, Origin, Quadrants)

دتا بھاؤ کے گھر کے مقام دو ترتیبی اعداد سے حقیقی طور پر بتائے گئے ہیں۔ اسی طرح ایک دوسرے پر عمود، دو خطوط سے فاصلوں کے ذریعے مستوی میں کسی

نقطہ کا مقام صحیح طور پر بتا سکتے ہیں۔

کسی نقطہ کا مستوی میں مقام بتانے کے لیے اس مستوی میں ایک افقی عددی خط کھینچتے ہیں۔ اس عددی خط کو X-محور کہتے ہیں۔

رینے دیکارٹ (1596 - 1650)



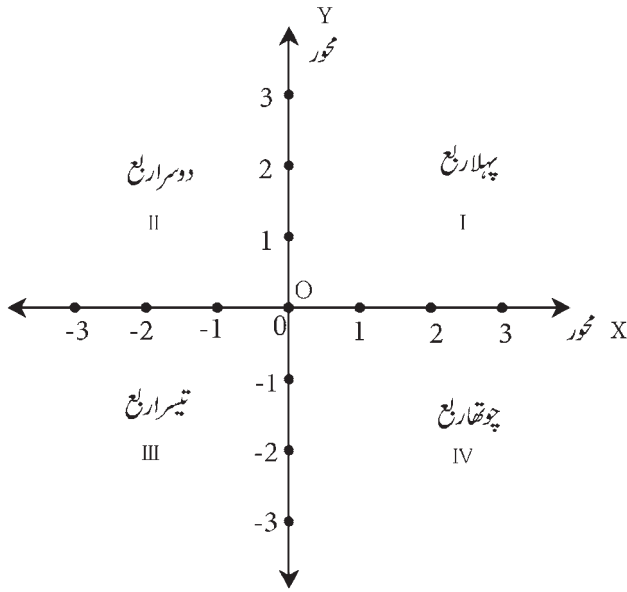
سترہویں صدی عیسوی میں فرانسیسی ریاضی داں رینے دیکارٹ نے مستوی میں نقطہ کا مقام بالکل صحیح طور پر ظاہر کرنے کے لیے ”محددی نظام“ پیش کیا۔ اس نظام کو ”کارتیسین محدودی نظام“ کہتے ہیں۔ دیکارٹ کے نام پر یہ نام دیا گیا ہے۔ دیکارٹ نے سب سے پہلے علم ہندسہ اور الجبرا کے درمیان ربط پیدا کیا۔ جس کی وجہ سے ریاضی میں انقلاب آیا۔

کارتیسین محدودی نظام ہی تجزیاتی علم ہندسہ (Analytical Geometry) کا اساس ہے۔

’لاچومیٹرک‘ رینے دیکارٹ کی پہلی کتاب ہے۔ اس کتاب میں انہوں نے علم ہندسے کے

مطالعہ کے لیے الجبرا کا استعمال کیا۔ مستوی میں نقطہ حقیقی اعداد کی ترتیبی جوڑی سے ظاہر کر سکتے ہیں۔ اسے انہوں نے سب سے پہلے اپنی کتاب میں پیش کیا۔ اس مرتبہ جوڑی کو کارتیسین محدودین کہتے ہیں۔

محددی علم ہندسہ کا استعمال علم طبیعیات، انجینئرنگ، جہاز رانی، علم طبقات الارض اور فن جیسے مختلف شعبوں میں کیا جاتا ہے۔ ٹیکنالوجی کی ترقی میں محدودی علم ہندسہ اہمیت کا کردار ادا کرتا ہے۔ جیوجبرا میں علم ہندسہ اور الجبرا میں ربط واضح طور پر دکھائی دیتا ہے۔ Geometry اور Algebra ان دونوں الفاظ سے ہی ’Geogebra‘ نام دیا گیا ہے۔



شکل 7.1

X-محور پر 0 محدودی نقطہ سے X محور پر عمود، دوسرا خط Y-محور ہے۔ عام طور پر دونوں عددی خط پر 0 عدد ایک ہی نقطہ سے ظاہر کی جاتی ہے۔ اس نقطہ کو مبداء (Origin) کہتے ہیں۔ اسے انگریزی حرف O سے ظاہر کرتے ہیں۔

X-محور پر O کے دائیں طرف مثبت عدد جب کہ بائیں طرف منفی عدد دکھاتے ہیں۔

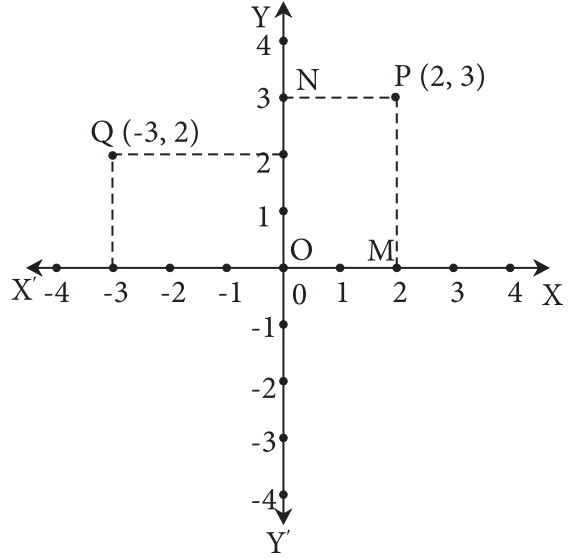
Y-محور پر O کے اوپر مثبت عدد اور نیچے منفی عدد دکھاتے ہیں۔

X اور Y محوروں کی وجہ سے مستوی کے چار حصے ہو جاتے ہیں۔ ہر حصہ کو ربع کہتے ہیں۔ شکل میں دکھائے ہوئے کے

مطابق گھڑی کی غیر ساعت دار سمت سے ربعات کے نمبر شمار

دینے کا رواج ہے۔

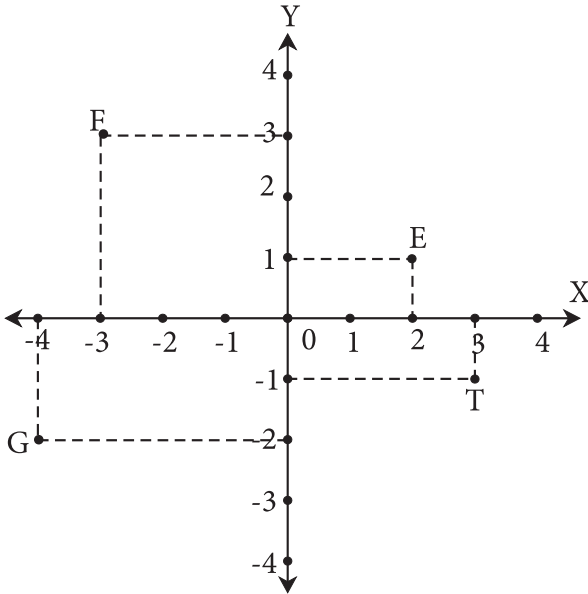
X-محور اور Y-محور کے ذریعے متعین کیے گئے مستوی میں نقطہ P دکھایا گیا ہے۔ اس کا مقام اس کے دونوں محوروں سے فاصلہ سے متعین کرتے ہیں۔ اس کے لیے X-محور \perp قطعہ PM اور Y-محور \perp قطعہ PN بنائے۔ M کا X-محور پر محرد 2 ہے۔ N کا Y-محور پر محرد 3 ہے۔ اس لیے P کا x محرد 2 اور y محرد 3 ہے۔ نقطہ کا مقام بتاتے وقت اس کا x محرد پہلے بتانے کا رواج ہے۔ اس مفروضے کے لحاظ سے p نقطہ کے محردین کا محوروں سے فاصلہ بالترتیب 2، 3 کا تعین کرتا ہے۔ اور نقطہ P کے مقام کے اعداد کو (2, 3) جوڑی سے مختصراً بتاتے ہیں۔



شکل 7.2

نقطہ Q سے X-محور پر QS عمود کھینچا اور Y-محور پر QR عمود کھینچا۔ Q کا X-محور پر محرد -3 اور Y-محور پر محرد 2 ہے۔ اس لیے نقطہ Q کے محردین (-3, 2) ہیں۔

مثال : متضلعہ شکل میں دکھائے ہوئے T, G, F, E نقاط کے محردین لکھیے۔

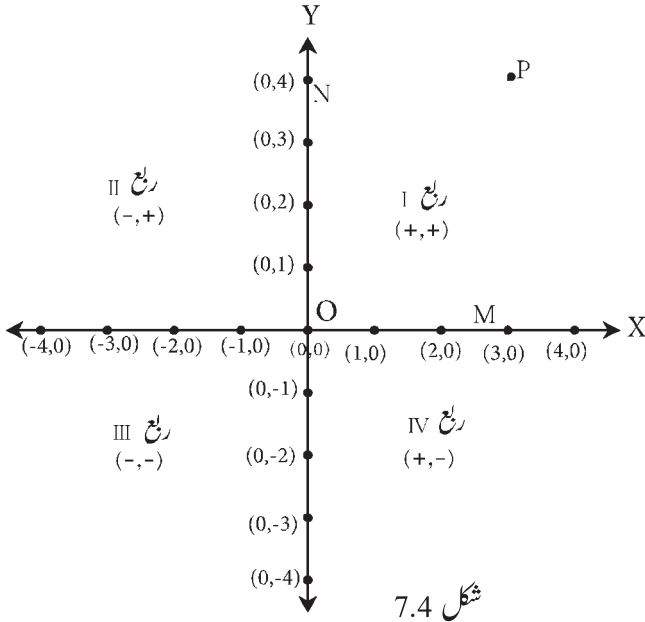


شکل 7.3

- حل :
- نقطہ E کے محردین (2, 1) ہیں۔
 - نقطہ F کے محردین (-3, 3) ہیں۔
 - نقطہ G کے محردین (-4, -2) ہیں۔
 - نقطہ T کے محردین (3, -1) ہیں۔



(Co-ordinate of points on the axes) محوروں پر نقاط کے محددین



شکل 7.4

M نقطہ کا x محدد یعنی نقطہ M کا Y -محور سے فاصلہ ہے۔ اس لیے M کا x محدد 3 ہے۔ اس نقطہ کا اس X -محور سے فاصلہ 0 ہے۔ اس لیے M کا y محدد 0 ہے اور اس بنا پر X -محور پر نقطہ M کے محددین $(3,0)$ ہیں۔ Y -محور پر نقطہ N کا y محدد 4 ہے۔ کیونکہ وہ نقطہ X -محور سے 4 فاصلہ پر ہے اور نقطہ N کا Y -محور سے فاصلہ صفر ہے اس لیے x محدد 0 ہے۔ اس بنا پر Y -محور پر نقطہ N کے محددین $(0,4)$ ہیں۔

اب O مبداء X -اور Y -دونوں محوروں پر واقع ہے۔ اس نقطہ کا X - اور Y -دونوں محوروں سے فاصلہ 0 ہے۔ اس لیے O کے محددین $(0,0)$ ہیں۔

اس بنا پر مستوی میں ہر نقطہ سے محددین کی ایک اور صرف ایک جوڑی (مرتب جوڑی) مربوط ہے۔

اسے دھیان میں رکھیں



- X -محور پر ہر نقطہ کا y محدد صفر ہوتا ہے۔
- Y -محور پر ہر نقطہ کا x محدد صفر ہوتا ہے۔
- مبداء کے محددین $(0,0)$ ہوتے ہیں۔

مثال : درج ذیل نکات کس ربع میں واقع ہیں یا کس محور پر واقع ہیں۔ پچھائیے۔

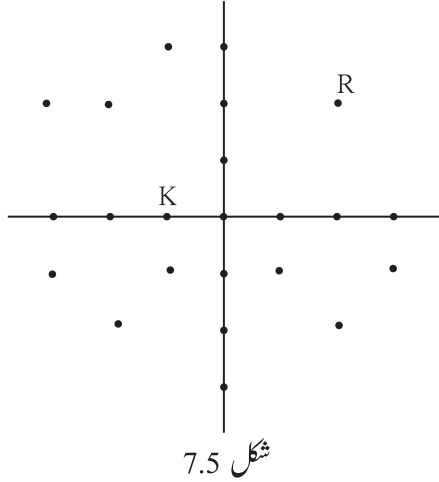
$A(5,7)$, $B(-6,4)$, $C(4,-7)$, $D(-8,-9)$, $P(-3,0)$, $Q(0,8)$

- حل : $A(5,7)$ کا x محدد مثبت اور y محدد مثبت ہے۔ \therefore نقطہ A پہلے ربع میں واقع ہے۔
- $B(-6,4)$ کا x محدد منفی اور y محدد مثبت ہے۔ \therefore نقطہ B دوسرے ربع میں واقع ہے۔
- $C(4,-7)$ کا x محدد مثبت اور y محدد منفی ہے۔ \therefore نقطہ C چوتھے ربع میں واقع ہے۔
- $D(-8,-9)$ کا x محدد منفی اور y محدد منفی ہے۔ \therefore نقطہ D تیسرے ربع میں واقع ہے۔

$P(-3, 0)$ کا y محور صفر ہے۔ \therefore نقطہ P ، X -محور پر واقع ہے۔

$Q(0, 8)$ کا x محور صفر ہے۔ \therefore نقطہ Q ، Y -محور پر واقع ہے۔

عملی کام : اسکول کے میدان پر متصلہ شکل میں دکھائے ہوئے کے مطابق ایک افقی اور ایک عمودی قطار میں طلبہ کو بٹھائیے، جس کی وجہ سے X -محور اور Y -محور بننے لگیں۔



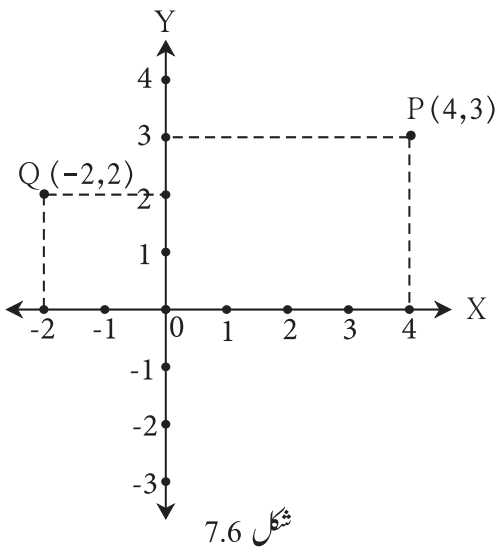
● مختلف رنگوں سے دکھائے ہوئے دھبوں کی جگہ چاروں ربات میں طلبہ کو بٹھائیے۔

● اب مختلف طلبہ کے نام کے پہلے حرف کو ادا کر کے شکل میں دکھائے ہوئے کہ مطابق کھڑا کیجیے اور ان کے محدین پوچھیے۔ مثلاً راجندر $(2, 2)$ اور کرشنا $(-1, 0)$

● اس طرح اس میدان میں عملی کام سے مستوی میں نقاط کے مقام کھیل کھیل اور مزاح سے آسانی سے واضح ہو جائیں گے۔



دیے ہوئے محدین سے مربوط نقاط مرتسم کرنا (To plot the points with given co-ordinates)



فرض کیجیے $P(4, 3)$ اور $Q(-2, 2)$ نقاط کو مرتسم کرنا۔

نقطہ مرتسم کرنے کا مرحلہ :

(i) مستوی میں X -محور اور Y -محور کھینچیے۔ مبداء دکھائیے۔

(ii) اس نقطہ کو دکھانے کے لیے X -محور پر 4 عدد کو دکھانے والے نقطہ

سے Y -محور کے متوازی خط کھینچیے۔

Y -محور پر 3 عدد دکھانے والے نقطہ سے X -محور کے متوازی خط کھینچیے۔

(iii) ان دونوں خطوط کا نقطہ تقاطع $P(4, 3)$ نقطہ ہے۔ یہ نقطہ کس ربع میں ہے؟ مشاہدہ کیجیے۔

(iv) اسی طرح $Q(-2, 2)$ اس نقطہ کو مرتسم کیجیے۔ کیا یہ نقطہ دوسرے ربع میں آیا ہے؟ اسی طرح محدودی نظام سے $R(-3, -4)$ ، $S(3, -1)$ نقاط مرتسم کیجیے۔

مثال : درج ذیل نقاط کس ربع میں ہیں یا کس محور پر؟ لکھیے۔

- (i) $(5, 3)$ (ii) $(-2, 4)$ (iii) $(2, -5)$ (iv) $(0, 4)$
(v) $(-3, 0)$ (vi) $(-2, 2.5)$ (vii) $(5, 3.5)$ (viii) $(-3.5, 1.5)$
(ix) $(0, -4)$ (x) $(2, -4)$

حل :

	محدین	ربع / محور		محدین	ربع / محور
(i)	$(5, 3)$	ربع I	(vi)	$(-2, -2.5)$	ربع III
(ii)	$(-2, 4)$	ربع II	(vii)	$(5, 3.5)$	ربع I
(iii)	$(2, -5)$	ربع IV	(viii)	$(-3.5, 1.5)$	ربع II
(iv)	$(0, 4)$	محور Y	(ix)	$(0, -4)$	محور Y
(v)	$(-3, 0)$	محور X	(x)	$(2, -4)$	ربع IV

مشقی سیٹ 7.1

1. درج ذیل نقاط ان کے محدودین کی بنا پر کس ربع میں یا کس محور پر؟ لکھیے۔

- $A(-3, 2)$, • $B(-5, -2)$, • $K(3.5, 1.5)$, • $D(2, 10)$,
- $E(37, 35)$, • $F(15, -18)$, • $G(3, -7)$, • $H(0, -5)$,
- $M(12, 0)$, • $N(0, 9)$, • $P(0, 2.5)$, • $Q(-7, -3)$

2. درج ذیل نقاط کس ربع میں ہو سکتے ہیں؟

- (i) جن کے دونوں محدودین مثبت ہیں۔
(ii) جن کے دونوں محدودین منفی ہیں۔
(iii) جن کے x محدود مثبت اور y محدود منفی ہے۔
(iv) جن کے x محدود منفی اور y محدود مثبت ہے۔

3. مستوی میں ایک محدودی نظام متعین کیجیے اور درج ذیل نقاط مرتسم کیجیے۔

- $L(-2, 4)$, $M(5, 6)$, $N(-3, -4)$, $P(2, -3)$, $Q(6, -5)$, $S(7, 0)$, $T(0, -5)$

آئیے سمجھ لیں



X-محور کے متوازی خط (Lines parallel to X-axis)

ترسیبی کاغذ پر درج ذیل نقاط مرتب کیجیے۔

$A(5,4)$, $B(2,4)$, $C(-2,4)$, $D(-4,4)$, $E(0,4)$, $F(3,4)$

نقاط کے محردین کا مشاہدہ کیجیے۔

تمام نقاط کے y محرد مساوی ہیں۔ کیا یہ سمجھ میں آیا؟

تمام نقاط ہم خطی ہیں۔

یہ خط کس محور کے متوازی ہے؟

خط DA پر ہر نقطے کا y محرد مساوی ہے یعنی 4 ہے۔ وہ مستقل

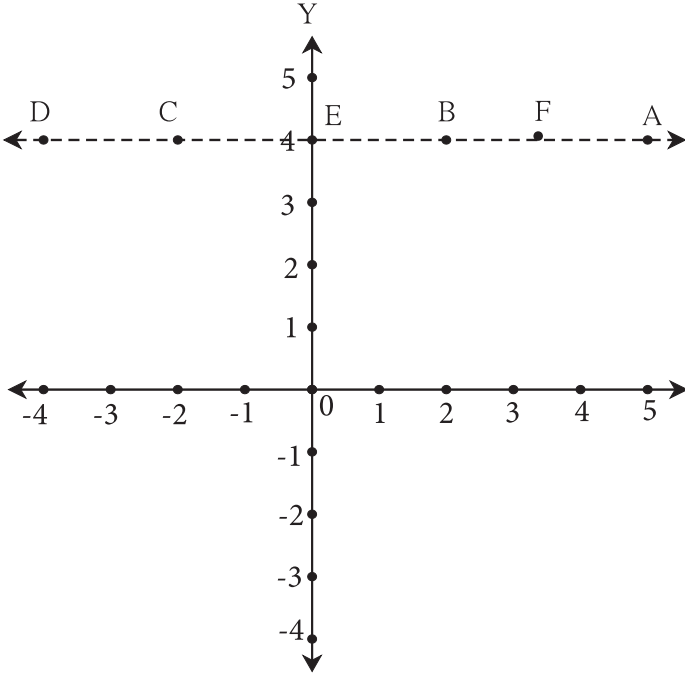
ہے۔ اس لیے خط DA کا بیان $y = 4$ مساوات سے

کرتے ہیں۔ کسی بھی نقطے کا y محرد 4 ہو تب وہ نقطہ اس خط X

پر یعنی خط DA پر واقع ہے۔

X -محور سے 4 اکائی فاصلہ پر متوازی خط کی مساوات

$y = 4$ ہے۔



شکل 7.7

آئیے، بحث کریں



X -محور کے متوازی اور اس سے 6 اکائی فاصلہ پر X -محور کے نیچے کیا ایسا کوئی خط بنا یا جاسکتا ہے؟

$(-3, -6)$ ، $(10, -6)$ ، $(\frac{1}{2}, -6)$ کیا یہ تمام نقاط اس خط پر واقع ہیں؟

اس خط کی مساوات کون سی ہوگی؟

اسے دھیان میں رکھیں



اگر $b > 0$ ہو اور $y = b$ ، X -محور کے متوازی $(0, b)$ نقطہ سے گزرے والا خط کھینچیں تب وہ X -محور کے اس کے اوپر کی طرف متوازی ہوگی

اور $b < 0$ ہو تب وہ خط X -محور کے اس کے نیچے کی طرف کے متوازی ہوگی۔

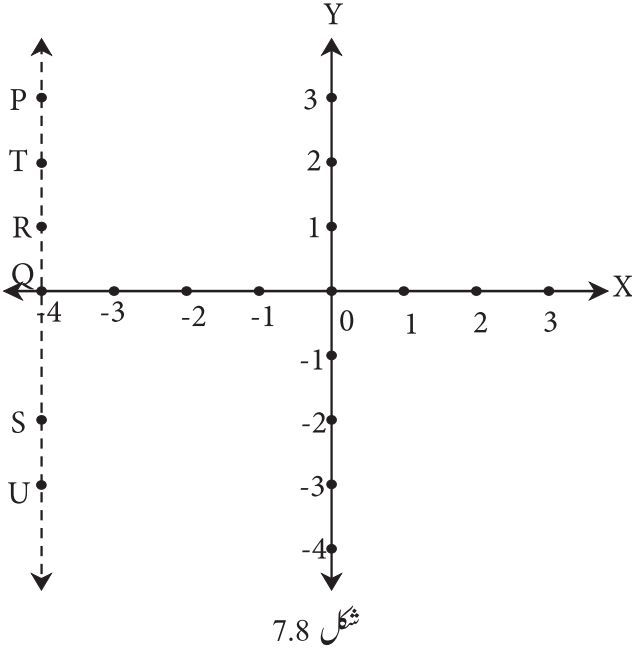
X -محور کے متوازی، خط کی مساوات $y = b$ کی صورت میں آتی ہے۔



Y-محور کے متوازی خط (Lines parallel to Y-axis)

تریبی کاغذ پر درج ذیل نقاط مرتب کیجیے۔

P(-4,3), Q(-4,0), R(-4,1), S(-4,-2), T(-4,2), U(-4,-3)



● نقاط کے محددین کا مشاہدہ کیجیے۔

● کیا آپ کو یہ سمجھ میں آیا کہ تمام نقاط کے x محدد مساوی ہیں؟

● کیا تمام نقاط ہم خطی ہیں؟

● یہ خط کس محور کے متوازی ہے؟

● خط PS پر واقع ہر نقطے کا x محدد مساوی ہے یعنی -4 ہے۔ وہ

مستقل ہے۔ اس لیے خط PS کا بیان $x = -4$ مساوات

سے کرتے ہیں۔ جس نقطے کا x محدد -4 ہو تب وہ نقطہ اس خط پر

یعنی خط PS پر واقع ہوگا۔

● Y-محور کے بائیں طرف 4 اکائی فاصلہ پر متوازی خط کی مساوات

ہے۔ $x = -4$

آئیے، بحث کریں



● کیا ایسا خط کھینچا جاسکتا ہے جو Y-محور کے متوازی اور اس سے 2 اکائی فاصلہ پر دائیں طرف واقع ہے؟

● کیا یہ تمام نقاط اس خط پر واقع ہیں؟ $(2, 10)$, $(2, 8)$, $(2, -\frac{1}{2})$

● اس خط کی مساوات کون سی ہے؟

اسے دھیان میں رکھیں



اگر $x = a$ یہ Y-محور کے متوازی، $(a, 0)$ سے گزرنے والا خط کھینچیں اور $a > 0$ ہو تب وہ خط Y محور کے دائیں جانب ہوتا ہے۔ اگر $a < 0$

ہو تب وہ خط Y-محور کے بائیں جانب ہوتا ہے۔ Y-محور کے متوازی خط کی مساوات $x = a$ کی صورت میں ہوتی ہے۔

اسے دھیان میں رکھیں



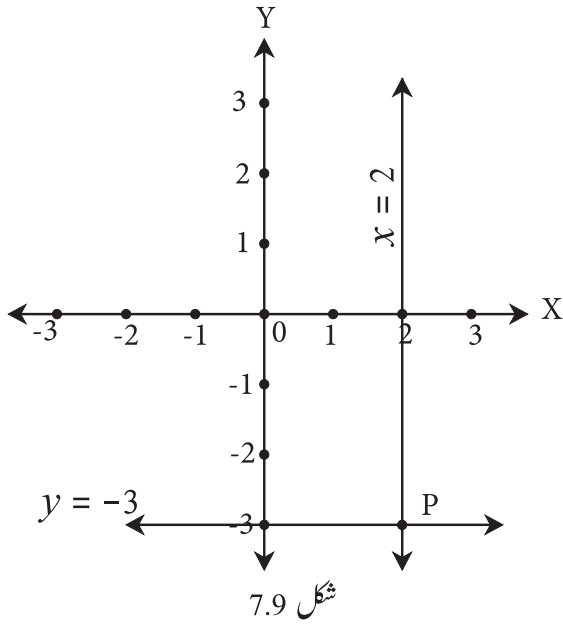
(1) X-محور پر واقع ہر نقطے کا y محدد 0 ہوتا ہے۔ اسکے برعکس جس نقطے کا y محدد 0 ہوتا ہے، وہ X-محور پر واقع ہوتا ہے۔ اس لیے X-محور کی مساوات $y = 0$ لکھتے ہیں۔

(2) Y-محور پر واقع ہر نقطے کا x محدد 0 ہوتا ہے۔ اس کے برعکس جس نقطے کا x محدد 0 ہوتا ہے، وہ Y-محور پر واقع ہوتا ہے۔ اس لیے Y-محور کی مساوات $x = 0$ لکھتے ہیں۔

آئیے سمجھ لیں



خطی مساوات کی ترسیم (Graph of Linear equation)



شکل 7.9

مثال : $x = 2$ اور $y = -3$ ، ان مساواتوں کی ترسیم کھینچیں۔

حل : (i) تریسی کاغذ پر X-محور اور Y-محور کھینچیں۔

(ii) $x = 2$ دیا ہوا ہے۔ اس لیے Y-محور کے دائیں طرف 2 اکائی

فاصلے پر Y-محور کے متوازی خط کھینچیں۔

(iii) $y = -3$ دیا ہوا ہے۔ اس لیے X-محور کے نیچے کی طرف

3 اکائی فاصلے پر X-محور کے متوازی خط کھینچیں۔

(iv) محوروں کے متوازی کھینچنے گئے یہ خطوط دی ہوئی مساواتوں کی ترسیم ہیں۔

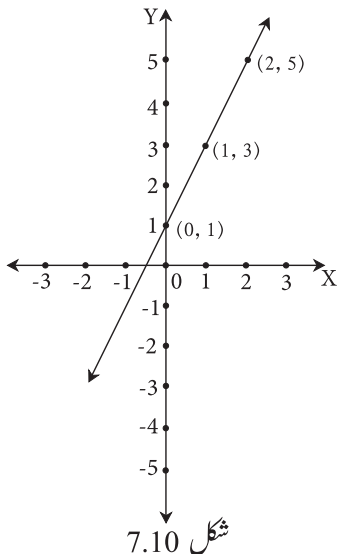
(v) یہ دونوں خطوط ایک دوسرے کو جہاں قطع کرتے ہیں اس P نقطہ

کے محدودین لکھیے۔

(vi) کیا P کے محدودین $(2, -3)$ ہیں؟ اس کی تصدیق کیجیے۔

عام صورت میں خطی مساوات کی ترسیم

عملی کام :



شکل 7.10

تریسی کاغذ پر $(0, 1)$ ، $(1, 3)$ ، $(2, 5)$ نقاط ترسیم کیجیے۔ کیا وہ ہم خطی ہیں؟

جانچ کیجیے۔ اگر ہم خطی ہوں تب ان سے گزرنے والا خط کھینچیں۔

● وہ خط کن کن ربعات سے گذرتا ہے۔ مشاہدہ کیجیے۔

● وہ خط Y-محور کو جس نقطہ پر قطع کرتا ہے اس نقطے کے محدودین لکھیے۔

● اس خط پر تیسرے ربع میں واقع کوئی بھی ایک نقطہ بتائیے۔ اس کے محدودین لکھیے۔

مثال : $2x - y + 1 = 0$ یہ ایک دو متغیری عام صورت کی مساوات ہے۔ اس مساوات کی ترسیم کھینچئے۔

حل : $2x - y + 1 = 0$ یعنی $y = 2x + 1$

x کی کچھ قیمتیں لے کر اور اس کی بناء پر y کی نظیری قیمتیں معلوم کریں گے۔

مثلاً اگر $x = 0$ ، یہ قیمت مساوات میں رکھیں تو $y = 1$ قیمت حاصل ہوگی۔

اس طرح x کی $0, 1, 2, \frac{1}{2}, -2$ قیمتیں لے کر y کی قیمت معلوم کریں گے۔

ان قیمتوں کو مرتب جوڑی کی صورت میں جدول میں لکھیں گے۔

x	0	1	2	$\frac{1}{2}$	-2
y	1	3	5	2	-3
(x, y)	(0, 1)	(1, 3)	(2, 5)	$(\frac{1}{2}, 2)$	(-2, -3)

ان نقاط کو مرتب کریں گے۔ مرتب نقاط ہم خطی ہیں۔ اس کا اطمینان کر لیں گے۔ ان تمام نقاط سے گزرنے والا خط کھینچیں گے۔ یہ خط

یعنی $2x - y + 1 = 0$ کی مساوات کی ترسیم ہے۔

ITC Tools or Links



Geogebra Software کی مدد سے X-محور اور Y-محور کھینچئے۔ مختلف نقاط مرتب کیجئے۔ Algebraic View میں نقاط کے محدودین دیکھیے اور مطالعہ کیجئے۔ محوروں کے متوازی خطوط کی مساواتیں دیکھیے۔ Move Option کا استعمال کر کے خطوط کے مقام بدلتے رہیے۔ X-محور اور Y-محور کی مساواتیں کون کون سی آتی ہیں؟

مشقی سیٹ 7.2

1. ترسیبی کاغذ پر $A(3, 0), B(3, 3), C(0, 3)$ نقاط مرتب کیجئے۔ AB اور BC جوڑیے۔ کون سی شکل حاصل ہوتی ہے۔ اسے لکھیے۔
2. Y-محور کے متوازی اور اس محور کے بائیں طرف 7 اکائی فاصلے پر واقع خط کی مساوات لکھیے۔
3. X-محور کے متوازی اور اس محور کے نیچے 5 اکائی فاصلے پر واقع خط کی مساوات لکھیے۔
4. $Q(-3, -2)$ نقطہ Y-محور کے متوازی واقع خط پر ہے۔ اس خط کی مساوات لکھیے اور اس کی ترسیم کھینچئے۔
5. Y-محور اور $x = -4$ متوازی خطوط ہیں تو ان دونوں خطوط کے درمیان کتنا فاصلہ ہے؟

6. درج ذیل میں سے کون سی مساواتوں کی ترسیم X-محور کے متوازی ہیں اور کون سی مساواتوں کی ترسیم Y-محور کے متوازی ہیں۔ اسے لکھیے۔

(i) $x = 3$ (ii) $y - 2 = 0$ (iii) $x + 6 = 0$ (iv) $y = -5$

7. تریسی کاغذ پر $A(2, 3)$ ، $B(6, -1)$ اور $C(0, 5)$ نقاط مرتسم کیجیے۔ اگر یہ نقاط ہم خطی ہوں تو ان کو شامل کرنے والا خط کھینچیے۔ یہ خط X-محور اور Y-محور کو جن نقاط پر قطع کرتا ہے۔ ان نقاط کے محدودین لکھیے۔

8. درج ذیل مساواتوں کی ترسیم ایک ہی محدودی نظام سے مرتسم کیجیے۔ ان کے نقطہ تقاطع کے محدودین لکھیے۔

$x + 4 = 0$, $y - 1 = 0$, $2x + 3 = 0$, $3y - 15 = 0$

9. درج ذیل مساواتوں کی ترسیم بنائیے۔

(i) $x + y = 2$ (ii) $3x - y = 0$ (iii) $2x + y = 1$

مجموعہ سوالات 7

1. درج ذیل کثیر متبادل سوالوں کے جواب میں سے صحیح متبادل منتخب کیجیے۔

(i) X-محور پر کوئی بھی نقطہ درج ذیل میں سے کس صورت میں ہوتا ہے؟

(A) (b, b) (B) $(0, b)$ (C) $(a, 0)$ (D) (a, a)

(ii) خط $y = x$ ، اس خط پر ہر نقطہ کے محدودین درج ذیل میں سے کس صورت میں ہوتا ہے؟

(A) (a, a) (B) $(0, a)$ (C) $(a, 0)$ (D) $(a, -a)$

(iii) X محور کی مساوات درج ذیل میں سے کون سی ہے؟

(A) $x = 0$ (B) $y = 0$ (C) $x + y = 0$ (D) $x = y$

(iv) $(-4, -3)$ یہ نقطہ کس ربع میں ہے؟

(A) پہلے (B) دوسرے (C) تیسرے (D) چوتھے

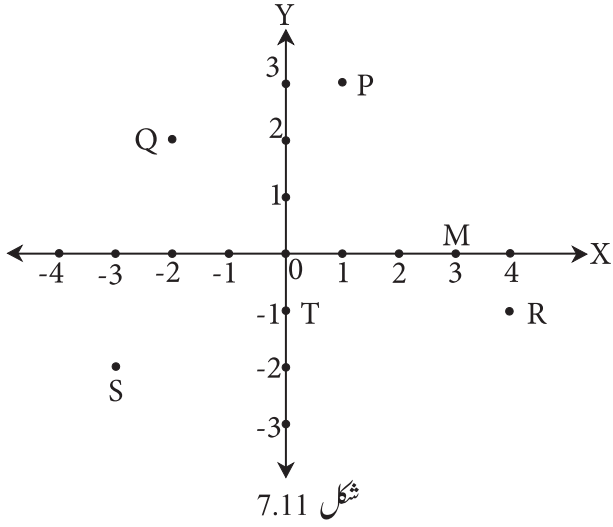
(v) $(-5, 5)$ ، $(6, 5)$ ، $(-3, 5)$ ، $(0, 5)$ ان نقطہ کو شامل کرنے والے خط کی صورت کیسی ہوگی؟

(A) مبداء سے جانے والی (B) X-محور کے متوازی

(C) X-محور کے متوازی (D) ان میں سے کوئی بھی نہیں

(iv) ان نقاط میں سے چوتھے ربع میں کون سے نقاط ہیں؟ $T(-4, 4)$ ، $S(-2, -3)$ ، $R(1, -1)$ ، $Q(3, -4)$ ، $P(-1, 1)$

(A) T اور P (B) R اور Q (C) صرف S (D) R اور P



(2) شکل میں کچھ نقاط دکھائے ہوئے ہیں۔ درج ذیل سوالوں کے جواب لکھیے۔

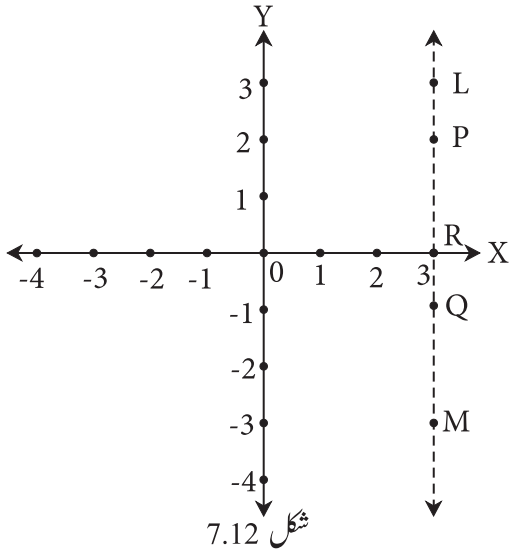
- (i) Q اور R نقاط کے محددین لکھیے۔
- (ii) T اور M نقاط کے محددین لکھیے۔
- (iii) تیسرے ربع میں کون سا نقطہ ہے؟
- (iv) کس نقطہ کا x اور y محدد مساوی ہے۔

(3) درج ذیل نقاط مرتب کیے بغیر لکھیے کہ وہ کس ربع یا محور پر واقع ہیں۔

- (i) (5, -3) (ii) (-7, -12) (iii) (-23, 4)
- (iv) (-9, 5) (v) (0, -3) (vi) (-6, 0)

(4) درج ذیل نقاط ایک ہی محددی نظام سے مرتب کیجیے۔

A(1,3), B(-3,-1), C(1,-4), D(-2,3), E(0,-8), F(1,0)



(5) متصلہ ترتیب میں خط LM یہ Y-محور کے متوازی ہے۔

- (i) خط LM کا Y-محور سے کتنا فاصلہ ہے؟
- (ii) P، Q، R ان نقاط کے محددین لکھیے۔
- (iii) نقطہ L اور نقطہ M کے x محدد میں فرق کتنا ہے؟

(6) X-محور کے متوازی اور X-محور سے 5 اکائی فاصلے پر کتنے خطوط ہیں۔ ان کی مساواتیں لکھیے۔

(7)* کسی بھی حقیقی عدد 'a' لے کر Y-محور اور $x = a$ خط کے درمیان کتنا فاصلہ ہے؟





آئیے، سیکھیں



● مثلثاتی نسبتوں کے درمیان باہمی تعلق
● مخصوص زاویوں کی مثلثاتی نسبتیں

● علم مثلث کا تعارف
● مثلثاتی نسبتیں

علم مثلث کا تعارف (Introduction to trigonometry)



ہم زمین پر فاصلہ ڈوری سے یا چلتے ہوئے ناپ سکتے ہیں۔ لیکن سمندر میں جہاز کا روشنی کے مینار سے فاصلہ کس طرح ناپ سکتے ہیں؟ درخت کی اونچائی کیسے ناپیں گے؟

اوپر دی ہوئی تصاویر کا مشاہدہ کیجیے۔ تصاویر میں سوال ریاضی سے تعلق رکھتا ہے۔ ان سوالوں کے جوابات حاصل کرنے کے لیے ریاضی مضمون کی علم مثلث، شاخ کا استعمال ہوتا ہے۔ علم مثلث کا استعمال انجینئرنگ، علم فلکیات، جہاز رانی وغیرہ شاخوں میں کیا جاتا ہے۔ علم مثلث (Trigonometry) یہ لفظ تین لاطینی الفاظ سے بنایا گیا ہے۔ Tri یعنی تین، gona یعنی ضلع اور metron یعنی ناپ تول۔

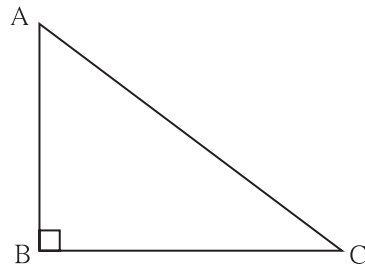
آئیے ذرا یاد کریں



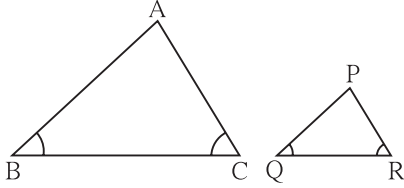
ہم مثلث کا مطالعہ کر چکے ہیں۔ قائمہ الزاویہ مثلث، فیثاغورث کا مسئلہ، مشابہ مثلثوں کی خصوصیات پر مبنی علم مثلث مضمون کی ابتدا ہوتی ہے۔ ان کا اعادہ کریں گے۔

● ΔABC میں $\angle B$ قائمہ الزاویہ ہے۔ جبکہ $\angle B$ یعنی قائمہ زاویہ کے مقابل کا ضلع AC وتر ہے۔
 $\angle A$ کے مقابل کا ضلع BC اور $\angle C$ کے مقابل کا ضلع AB ہے۔ اس مثلث سے متعلق فیثاغورث کے مسئلہ کا بیان:

$$(AB)^2 + (BC)^2 = (AC)^2$$



شکل 8.1



شکل 8.2

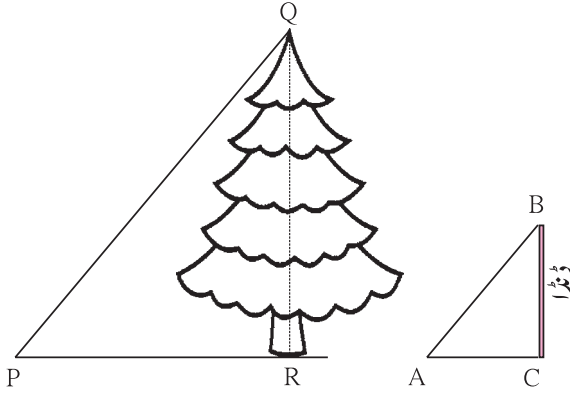
اگر $\Delta ABC \sim \Delta PQR$ ہوتے ہیں ان کے نظیری اضلاع تناسب میں ہوتے ہیں۔

$$\frac{AB}{PQ} = \frac{BC}{QR} = \frac{AC}{PR} \text{ یعنی}$$

کسی بڑے درخت کی اونچائی ناپنا ہوتے ہوئے متشابہ مثلثوں کے خصوصیت کا استعمال کر کے وہ کس طرح معلوم کر سکتے ہیں۔ اسے دیکھیں گے۔

عملی کام :

(یہ تجربہ تیز دھوپ کے دوران کیجیے)



شکل 8.3

QR درخت کی اونچائی ہے۔ BC ایک ڈنڈے کی اونچائی ہے۔

چھوٹے ڈنڈے کو زمین میں کھڑا کر اس کی اونچائی اور اس کے

سایہ کی لمبائی ناپیے۔ درخت کے سایہ کی لمبائی ناپیے۔ سورج کی

شعاعیں متوازی ہونے کی وجہ سے ΔABC اور ΔPQR

مشابہ زاویہ والے یعنی متشابہ مثلث ہیں۔ اسے سمجھ لیں۔ متشابہ مثلثوں کے نظیری اضلاع تناسب میں ہوتے ہیں۔

اس کا استعمال کر کے $\frac{QR}{PR} = \frac{BC}{AC}$ ملتا ہے۔

$$\text{درخت کی اونچائی} = QR = \frac{BC}{AC} \times PR$$

یہ مساوات حاصل ہوتی ہے۔

PR ، BC اور AC کی قیمتیں ہمیں معلوم ہیں۔ یہ قیمتیں مساوات میں رکھ کر QR کی لمبائی یعنی درخت کی اونچائی معلوم کی جاسکتی ہے۔

غور کیجیے



یہ تجربہ صبح 8 بجے کرنے کی بجائے دوپہر 11:30 یا 1:30 بجے کرنا سہولت بخش ہے۔ ایسا کیوں؟

عملی کام :



شکل 8.4

مذکورہ بالا عملی کام کر کے آپ اپنے اطراف اونچے درخت کی اونچائی

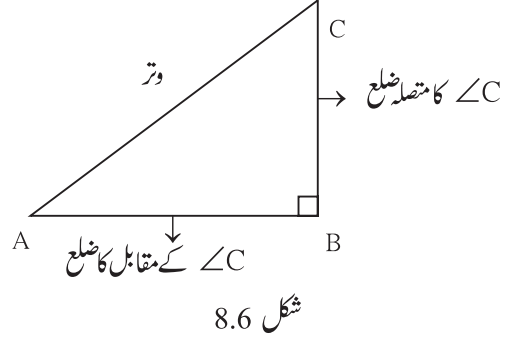
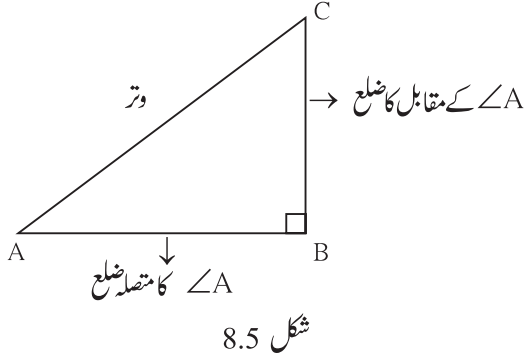
معلوم کیجیے۔ اطراف میں درخت نہ ہو تو کسی کھمبے (ستون) کی اونچائی

معلوم کیجیے۔



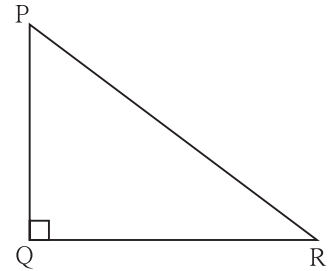
(Terms related to right angled triangle) قائمہ الزاویہ مثلث سے متعلق کچھ اصطلاحات

قائمہ الزاویہ ΔABC میں، $\angle B = 90^\circ$ ہے تب $\angle A$ اور $\angle C$ حادہ زاویہ ہیں۔



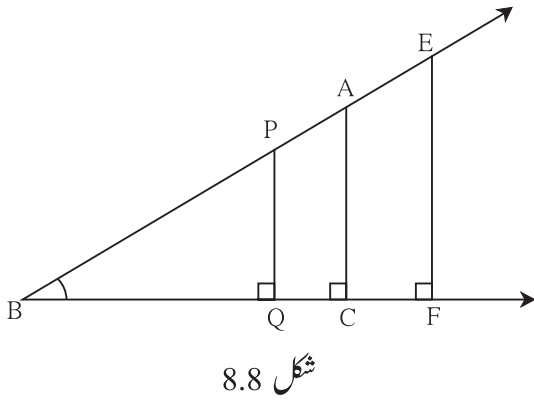
مثال : قائمہ الزاویہ ΔPQR میں،

$\angle P$ کا متصلہ ضلع = ، $\angle P$ کے متقابل کا ضلع =
 $\angle R$ کا متصلہ ضلع = ، $\angle R$ کے متقابل کا ضلع =



مثلثاتی نسبتیں (Trigonometric Ratios)

متصلہ شکل 8.8 میں کچھ قائمہ الزاویہ مثلث دکھائے ہوئے ہیں۔
 ان کا $\angle B$ مشترک زاویہ ہے۔ اس کی وجہ سے تمام قائمہ الزاویہ
 مثلث متشابه ہیں۔



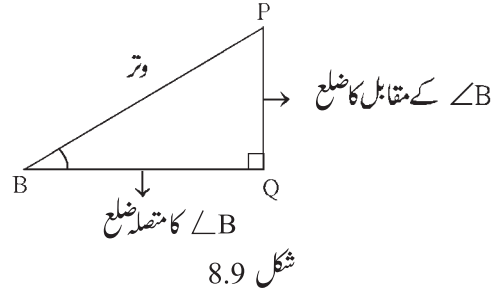
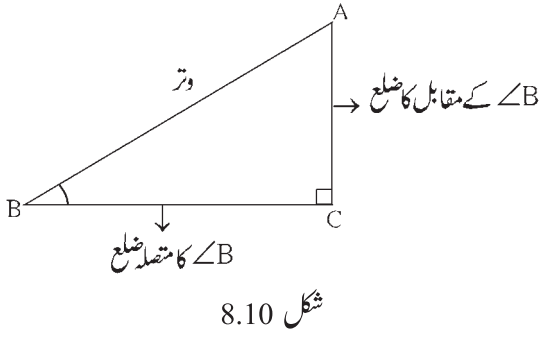
یہاں $\Delta PQB \sim \Delta ACB$

$$\therefore \frac{PB}{AB} = \frac{PQ}{AC} = \frac{BQ}{BC}$$

$$\frac{PQ}{AC} = \frac{PB}{AB} \quad , \quad \therefore \frac{PQ}{PB} = \frac{AC}{AB} \quad \dots \text{(عمل تبدیل)}$$

$$\frac{BQ}{BC} = \frac{PB}{AB} \quad , \quad \therefore \frac{BQ}{PB} = \frac{BC}{AB} \quad \dots \text{(عمل تبدیل)}$$

درج ذیل اشکال 8.9 اور 8.10 کو شکل 8.8 سے علیحدہ کیے گئے مثلثوں کی ہیں۔



(i) $\triangle PQB$ میں،

$$\frac{PQ}{PB} = \frac{\text{∠B کے مقابل کا ضلع}}{\text{وتر}}$$

$\triangle ACB$ میں،

$$\frac{AC}{AB} = \frac{\text{∠B کے مقابل کا ضلع}}{\text{وتر}}$$

مساوی نسبتیں ہیں۔ $\frac{AC}{AB}$ اور $\frac{PQ}{PB}$

$$\frac{PQ}{PB} = \frac{AC}{AB} = \frac{\text{∠B کے مقابل کا ضلع}}{\text{وتر}}$$

اس نسبت کو زاویہ B کی سائن (sine) نسبت کہتے ہیں۔ اس نسبت کو مختصراً $\sin B$ لکھتے ہیں۔

(ii) $\triangle ACB$ اور $\triangle PQB$ میں،

$$\frac{BQ}{PB} = \frac{\text{∠B کا متصلہ ضلع}}{\text{وتر}} \quad \text{اور} \quad \frac{BC}{AB} = \frac{\text{∠B کا متصلہ ضلع}}{\text{وتر}}$$

$$\frac{BQ}{PB} = \frac{BC}{AB} = \frac{\text{∠B کا متصلہ ضلع}}{\text{وتر}}$$

اس نسبت کو زاویہ B کی کوسائن (cosine) نسبت کہتے ہیں اس نسبت کو مختصراً $\cos B$ لکھتے ہیں۔

(iii) $\triangle ACB$ اور $\triangle PQB$ میں،

$$\frac{PQ}{BQ} = \frac{\text{∠B کے مقابل کا ضلع}}{\text{∠B کا متصلہ ضلع}} \quad \text{اور} \quad \frac{AC}{BC} = \frac{\text{∠B کے مقابل کا ضلع}}{\text{∠B کا متصلہ ضلع}}$$

$$\frac{PQ}{BQ} = \frac{AC}{BC} = \frac{\text{∠B کے مقابل کا ضلع}}{\text{∠B کا متصلہ ضلع}}$$

اس نسبت کو زاویہ B کی ٹینجینٹ (Tangent) نسبت کہتے ہیں اس نسبت کو مختصراً $\tan B$ لکھتے ہیں۔

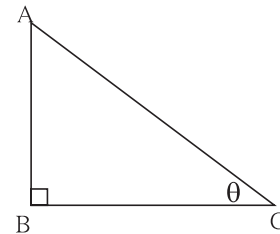
مثال : کبھی کبھی قائمہ الزاویہ مثلث کے حادہ زاویوں کی پیمائشوں کو θ (تھیٹا)،

α (الفا)، β (بیٹا) وغیرہ لاطینی حروف سے ظاہر کرتے ہیں۔ متصلہ شکل

8.11 میں $\triangle ABC$ کے حادہ زاویہ C کی پیمائش θ حروف سے ظاہر کی گئی ہے

ایسے وقت میں $\sin C$ ، $\cos C$ ، $\tan C$ نسبتوں کو بالترتیب $\sin \theta$ ،

$\cos \theta$ ، $\tan \theta$ لکھتے ہیں۔



شکل 8.11

$$\sin C = \sin \theta = \frac{AB}{AC}, \quad \cos C = \cos \theta = \frac{BC}{AC}, \quad \tan C = \tan \theta = \frac{AB}{BC}$$

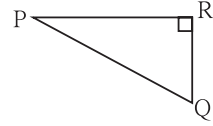


- زاویہ کے مقابل کا ضلع
نسبت $\sin = \frac{\text{وٹر}}$
- زاویہ کا متصلہ ضلع
نسبت $\cos = \frac{\text{وٹر}}$
- زاویہ کے مقابل کا ضلع
نسبت $\tan = \frac{\text{وٹر}}$

مشقی سیٹ 8.1

1. متصلہ شکل 8.12 میں ΔPQR میں $\angle R$ قائمہ زاویہ ہے۔ تب درج ذیل نسبتیں لکھیے۔

- (i) $\sin P$ (ii) $\cos Q$ (iii) $\tan P$ (iv) $\tan Q$

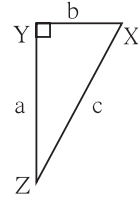


شکل 8.12

2. متصلہ شکل 8.13 میں ΔXYZ قائمہ الزاویہ مثلث ہے۔

$\angle XYZ = 90^\circ$ ہے۔ اضلاع کی لمبائیاں a, b, c دی ہوئی ہیں۔ اس کی بناء پر درج ذیل نسبتیں لکھیے۔

- (i) $\sin X$ (ii) $\tan Z$ (iii) $\cos X$ (iv) $\tan X$

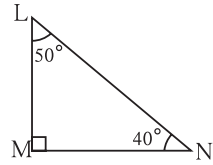


شکل 8.13

3. قائمہ الزاویہ ΔLMN میں $\angle LMN = 90^\circ$ ، $\angle L = 50^\circ$ اور $\angle N = 40^\circ$ ہے۔ اس بناء پر درج

ذیل نسبتیں لکھیے۔

- (i) $\sin 50^\circ$ (ii) $\cos 50^\circ$
(iii) $\tan 40^\circ$ (iv) $\cos 40^\circ$

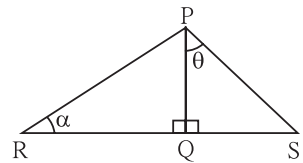


شکل 8.14

4. دی ہوئی شکل 8.15 میں $\angle PRQ = \alpha$ ، $\angle PQS = 90^\circ$ ، $\angle PQR = 90^\circ$ اور $\angle QPS = \theta$

ہو تب درج ذیل مثلثاتی نسبتیں لکھیے۔

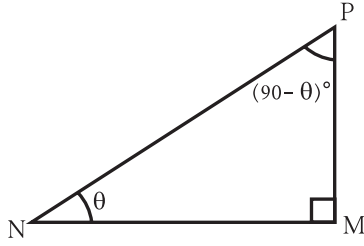
- (i) $\sin \alpha$, $\cos \alpha$, $\tan \alpha$
(ii) $\sin \theta$, $\cos \theta$, $\tan \theta$



شکل 8.15



(Relation among trigonometric ratios) مثلثاتی نسبتوں کے درمیان باہمی تعلق



شکل 8.16 میں ΔPMN قائمہ الزاویہ مثلث ہے۔ $m\angle M = 90^\circ$

$\angle N$ اور $\angle P$ ایک دوسرے کے مکملہ زاویے ہیں۔

اگر $m\angle P = 90 - \theta$ تب $m\angle N = \theta$

شکل 8.16

$$\sin(90 - \theta) = \frac{NM}{PN} \quad \dots(4)$$

$$\cos(90 - \theta) = \frac{PM}{PN} \quad \dots(5)$$

$$\tan(90 - \theta) = \frac{NM}{PM} \quad \dots(6)$$

$$\sin \theta = \frac{PM}{PN} \quad \dots(1)$$

$$\cos \theta = \frac{NM}{PN} \quad \dots(2)$$

$$\tan \theta = \frac{PM}{NM} \quad \dots(3)$$

$$\therefore \sin \theta = \cos(90 - \theta) \quad \dots \text{ [بیان (1) اور (5) سے]}$$

$$\cos \theta = \sin(90 - \theta) \quad \dots \text{ [بیان (2) اور (4) سے]}$$

اب اس پر بھی توجہ دیجیے۔

$$\tan \theta \times \tan(90 - \theta) = \frac{PM}{NM} \times \frac{NM}{PM} \quad \dots \text{ [بیان (3) اور (6) سے]}$$

$$\therefore \tan \theta \times \tan(90 - \theta) = 1$$

$$\text{اسی طرح, } \frac{\sin \theta}{\cos \theta} = \frac{\frac{PM}{PN}}{\frac{NM}{PN}} = \frac{PM}{PN} \times \frac{PN}{NM} = \frac{PM}{NM} = \tan \theta$$

اسے دھیان میں رکھیں



$$\cos(90 - \theta) = \sin \theta,$$

$$\sin(90 - \theta) = \cos \theta$$

$$\frac{\sin \theta}{\cos \theta} = \tan \theta,$$

$$\tan \theta \times \tan(90 - \theta) = 1$$

* مزید معلومات کے لیے

$$\frac{1}{\sin \theta} = \operatorname{cosec} \theta, \quad \frac{1}{\cos \theta} = \sec \theta, \quad \frac{1}{\tan \theta} = \cot \theta$$

یعنی $\operatorname{cosec} \theta$ ، $\sec \theta$ اور $\cot \theta$ بالترتیب $\sin \theta$ ، $\cos \theta$ اور $\tan \theta$ کی معکوس نسبتیں ہیں۔

$$\bullet \sec \theta = \operatorname{cosec} (90 - \theta) \quad \bullet \operatorname{cosec} \theta = \sec (90 - \theta)$$

$$\bullet \tan \theta = \cot (90 - \theta) \quad \bullet \cot \theta = \tan (90 - \theta)$$

آئیے ذرا یاد کریں



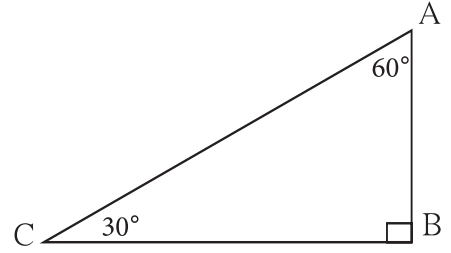
$30^\circ - 60^\circ - 90^\circ$ پیمانوں کے مثلث کی خصوصیت

کسی مثلث کے زاویوں کی پیمائش $30^\circ - 60^\circ - 90^\circ$ ہوں تب ہمیں معلوم ہے کہ 30° زاویہ کے مقابل کا ضلع وتر کے نصف ہوتا ہے۔ اور 60° زاویہ کے مقابل کا ضلع وتر کی لمبائی کے $\frac{\sqrt{3}}{2}$ گنا ہے۔

متصلہ شکل میں، قائمہ الزاویہ ΔABC میں $\angle A = 60^\circ$ ، $\angle C = 30^\circ$

$$\angle B = 90^\circ \text{ ہے۔}$$

$$\therefore AB = \frac{1}{2} AC \text{ اور } BC = \frac{\sqrt{3}}{2} AC$$



شکل 8.17

آئیے سمجھ لیں



30° اور 60° زاویوں کی مثلثاتی نسبتیں (Trigonometric ratios of 30° and 60° angles)

قائمہ الزاویہ ΔPQR میں، اگر $\angle R = 30^\circ$ ، $\angle P = 60^\circ$ ، $\angle Q = 90^\circ$

اور فرض کیجیے $PQ = a$ تب

$$QR = \frac{\sqrt{3}}{2} PR$$

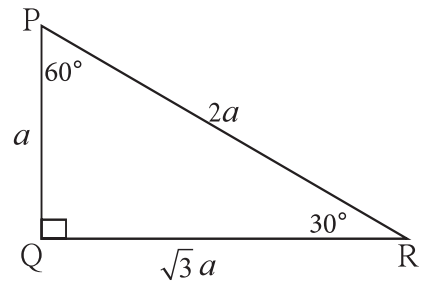
$$QR = \frac{\sqrt{3}}{2} \times 2a$$

$$QR = \sqrt{3} a$$

$$PQ = \frac{1}{2} PR$$

$$a = \frac{1}{2} PR$$

$$\therefore PR = 2a$$



شکل 8.18

\therefore اگر $PQ = a$ ہو تب $PR = 2a$ اور $QR = \sqrt{3} a$

$$\begin{aligned} \sin 60^\circ &= \frac{QR}{PR} = \frac{\sqrt{3}a}{2a} = \frac{\sqrt{3}}{2} \\ \cos 60^\circ &= \frac{PQ}{PR} = \frac{a}{2a} = \frac{1}{2} \\ \tan 60^\circ &= \frac{QR}{PQ} = \frac{\sqrt{3}a}{a} = \sqrt{3} \end{aligned} \quad (ii)$$

$$\begin{aligned} \sin 30^\circ &= \frac{PQ}{PR} = \frac{a}{2a} = \frac{1}{2} \\ \cos 30^\circ &= \frac{QR}{PR} = \frac{\sqrt{3}a}{2a} = \frac{\sqrt{3}}{2} \\ \tan 30^\circ &= \frac{PQ}{QR} = \frac{a}{\sqrt{3}a} = \frac{1}{\sqrt{3}} \end{aligned} \quad (i)$$

قائمہ الزاویہ ΔPQR میں $\angle Q = 90^\circ$ دیا ہوا ہے۔ $\angle P$ اور $\angle R$ ایک دوسرے کے مکملہ زاویہ ہیں۔ اس لیے مکملہ زاویہ کے سائن اور کوسائن نسبتوں میں تعلق کی تصدیق کیجیے۔

$$\sin \theta = \cos(90^\circ - \theta)$$

$$\sin 30^\circ = \cos(90^\circ - 30^\circ) = \cos 60^\circ$$

$$\sin 30^\circ = \cos 60^\circ$$

$$\cos \theta = \sin(90^\circ - \theta)$$

$$\cos 30^\circ = \sin(90^\circ - 30^\circ) = \sin 60^\circ$$

$$\cos 30^\circ = \sin 60^\circ$$

اسے دھیان میں رکھیں



$$\sin 30^\circ = \frac{1}{2}$$

$$\cos 30^\circ = \frac{\sqrt{3}}{2}$$

$$\tan 30^\circ = \frac{1}{\sqrt{3}}$$

$$\sin 60^\circ = \frac{\sqrt{3}}{2}$$

$$\cos 60^\circ = \frac{1}{2}$$

$$\tan 60^\circ = \sqrt{3}$$

(Trigonometric ratios of 45° angle) 45° پیمائش کے زاویہ کی مثلثیاتی نسبتیں (iii)

قائمہ الزاویہ ΔABC میں، $\angle C = 45^\circ$ ، $\angle A = 45^\circ$ ، $\angle B = 90^\circ$

یہ تساوی الساقین قائمہ الزاویہ مثلث ہے۔

فرض کیجیے $AB = a$ ہے تب $BC = a$

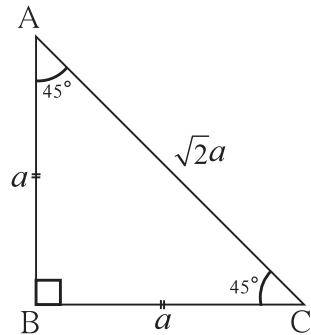
فیثاغورث کے مسئلہ کے رُو سے AC کی لمبائی معلوم کیجیے۔

$$AC^2 = AB^2 + BC^2$$

$$= a^2 + a^2$$

$$AC^2 = 2a^2$$

$$\therefore AC = \sqrt{2}a$$



شکل 8.19

$$\tan 45^\circ = \frac{AB}{BC} = \frac{a}{a} = 1$$

کچھلی شکل 8.19 میں $\angle C = 45^\circ$ ہے۔

$$\sin 45^\circ = \frac{AB}{AC} = \frac{a}{\sqrt{2}a} = \frac{1}{\sqrt{2}}$$

$$\cos 45^\circ = \frac{BC}{AC} = \frac{a}{\sqrt{2}a} = \frac{1}{\sqrt{2}}$$

اسے دھیان میں رکھیں

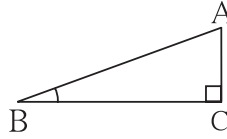
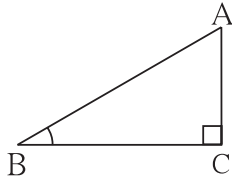


$$\sin 45^\circ = \frac{1}{\sqrt{2}},$$

$$\cos 45^\circ = \frac{1}{\sqrt{2}},$$

$$\tan 45^\circ = 1$$

(iv) 0° اور 90° پیمائشوں کے زاویوں کی مثلثاتی نسبتیں

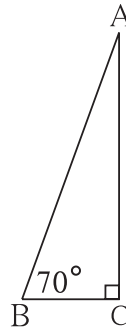
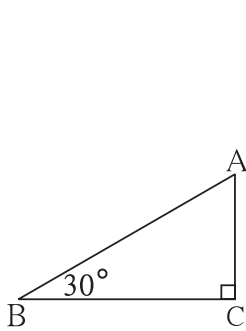


شکل 8.20

قائمہ الزاویہ $\triangle ACB$ میں $\angle C = 90^\circ$ اور $\angle B = 30^\circ$ ہے۔ اس لیے $\sin 30^\circ = \frac{AC}{AB}$ یہ ہمیں معلوم ہے۔ AB کی لمبائی مستقل رکھ کر، $\angle B$ کی پیمائش جیسے جیسے کم ہوتی جاتی ہے۔ ویسے ویسے $\angle B$ کے مقابل کا ضلع AC کی لمبائی کم ہوتی جاتی ہے۔ اس لیے $\angle B$ کی پیمائش کم ہوتی ہے ویسے ویسے $\sin \theta$ کی قیمت بھی کم ہوتی ہے۔

\therefore جب $\angle B$ کی پیمائش 0° ہو جائے گی تب AC کی لمبائی 0 ہو جائے گی۔

$$\therefore \sin 0^\circ = \frac{AC}{AB} = \frac{0}{AB} \quad \therefore \sin 0^\circ = 0$$



شکل 8.21

اب شکل 8.21 میں دیکھیے اس قائمہ الزاویہ مثلث میں $\angle B$ کی پیمائش جیسے جیسے بڑھتی جاتی ہے۔ ویسے ویسے AC کی لمبائی بڑھتی ہوئی نظر آتی ہے۔ $\angle B$ کی پیمائش اگر 90° ہو جاتی ہے۔ تب AB, AC کے مساوی ہو جائے گی۔

$$\therefore \sin 90^\circ = \frac{AC}{AB} \quad \therefore \sin 90^\circ = 1$$

ہم نے قائمہ الزاویہ مثلث کی مثلثاتی نسبتیں دیکھ چکے ہیں۔

$$\sin \theta = \cos (90 - \theta) \quad \text{اور} \quad \cos \theta = \sin (90 - \theta)$$

$$\therefore \cos 0^\circ = \sin (90 - 0)^\circ = \sin 90^\circ = 1$$

$$\text{اور} \quad \cos 90^\circ = \sin (90 - 90)^\circ = \sin 0^\circ = 0$$

اسے دھیان میں رکھیں

$$\sin 0^\circ = 0, \quad \sin 90^\circ = 1, \quad \cos 0^\circ = 1, \quad \cos 90^\circ = 0$$

ہمیں معلوم ہے کہ،

$$\tan \theta = \frac{\sin \theta}{\cos \theta} \quad \therefore \tan 0 = \frac{\sin 0}{\cos 0} = \frac{0}{1} = 0$$

$$\text{لیکن}, \quad \tan 90^\circ = \frac{\sin 90^\circ}{\cos 90^\circ} = \frac{1}{0}$$

لیکن $\frac{1}{0}$ یہ تقسیم نہیں کر سکتے۔ θ حادہ زاویہ بڑا ہوتے ہوتے 90° کے قریب ہوتے جاتا ہے۔ ویسے ویسے $\tan \theta$ تیزی سے خوب بڑھتا جاتا ہے۔ لیکن $\tan 90^\circ$ کی قیمت طے نہیں کر سکتے۔

اسے دھیان میں رکھیں

مخصوص پیمائشوں کے زاویوں کی مثلثاتی نسبتیں

زاویوں کی پیمائش / نسبتیں	0°	30°	45°	60°	90°
sin	0	$\frac{1}{2}$	$\frac{1}{\sqrt{2}}$	$\frac{\sqrt{3}}{2}$	1
cos	1	$\frac{\sqrt{3}}{2}$	$\frac{1}{\sqrt{2}}$	$\frac{1}{2}$	0
tan	0	$\frac{1}{\sqrt{3}}$	1	$\sqrt{3}$	طے نہیں کی جاسکتی

حل کردہ مثالیں :

مثال (1) قیمت معلوم کیجیے :

$$2 \tan 45^\circ + \cos 30^\circ - \sin 60^\circ$$

$$2 \tan 45^\circ + \cos 30^\circ - \sin 60^\circ$$

$$= 2 \times 1 + \frac{\sqrt{3}}{2} - \frac{\sqrt{3}}{2}$$

$$= 2 + 0$$

$$= 2$$

مثال (2) قیمت معلوم کیجیے۔ $\frac{\cos 56^\circ}{\sin 34^\circ}$

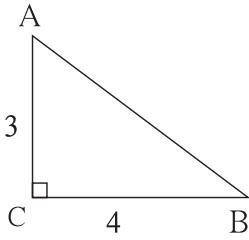
حل : $56^\circ + 34^\circ = 90^\circ$ یعنی 56° اور 34° یہ مکملہ زاویوں کی پیمائشیں ہیں۔

$$\sin \theta = \cos (90 - \theta)$$

$$\therefore \sin 34^\circ = \cos (90 - 34)^\circ = \cos 56^\circ$$

$$\therefore \frac{\cos 56^\circ}{\sin 34^\circ} = \frac{\cos 56^\circ}{\cos 56^\circ} = 1$$

مثال (3) قائمہ الزاویہ ΔACB میں، اگر $\angle C = 90^\circ$ ، $AC = 3$ ، $BC = 4$ ، اور $\angle A$ اور $\angle B$ کی درج ذیل مثلثیاتی نسبتیں معلوم کیجیے۔



شکل 8.22

$\sin A$, $\sin B$, $\cos A$, $\tan B$

حل : قائمہ الزاویہ ΔACB میں فیثاغورث کے مسئلہ کی رو سے

$$AB^2 = AC^2 + BC^2$$

$$= 3^2 + 4^2 = 9 + 16 = 25$$

$$= 5^2$$

$$AB = 5$$

$$\cos A = \frac{AC}{AB} = \frac{3}{5}$$

$$\sin A = \frac{BC}{AB} = \frac{4}{5}$$

$$\tan B = \frac{AC}{BC} = \frac{3}{4}$$

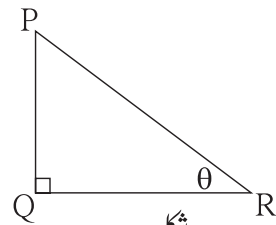
$$\sin B = \frac{AC}{AB} = \frac{3}{5}$$

مثال (4) قائمہ الزاویہ ΔPQR میں $\angle Q = 90^\circ$ ، $\angle R = \theta$ اور اگر $\sin \theta = \frac{5}{13}$ ہو تب $\cos \theta$ اور $\tan \theta$ معلوم کیجیے۔

قائمہ الزاویہ ΔPQR میں $\angle R = \theta$

$$\sin \theta = \frac{5}{13}$$

$$\therefore \frac{PQ}{PR} = \frac{5}{13}$$

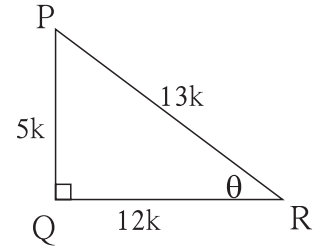


شکل 8.23

∴ فرض کریں، PQ = 5k اور PR = 13k

فیثا غورث کے مسئلہ سے QR معلوم کریں گے۔

$$\begin{aligned} PQ^2 + QR^2 &= PR^2 \\ (5k)^2 + QR^2 &= (13k)^2 \\ 25k^2 + QR^2 &= 169k^2 \\ QR^2 &= 169k^2 - 25k^2 \\ QR^2 &= 144k^2 \\ QR &= 12k \end{aligned}$$



شکل 8.24

اب قائمہ الزاویہ ΔPQR میں PR = 13k، PQ = 5k اور QR = 12k

$$\cos \theta = \frac{QR}{PR} = \frac{12k}{13k} = \frac{12}{13}, \quad \tan \theta = \frac{PQ}{QR} = \frac{5k}{12k} = \frac{5}{12}$$

غور کیجیے



- (1) مذکورہ بالا مثالیں حل کرتے وقت PQ اور PR اضلاع کی لمبائی 5k اور 13k کیوں لی گئی ہیں؟
- (2) کیا PQ اور PR کی لمبائی بالترتیب 5 اور 13 لی جاسکتی ہیں؟ لی جاسکتی ہوں تو تحریر میں کچھ تبدیلی کی جائے گی؟

مشقیاتی نسبتوں کی اہم مساوات :

ΔPQR قائمہ الزاویہ مثلث ہے۔

∠R = θ، فرض کریں، ∠PQR = 90°

$$\sin \theta = \frac{PQ}{PR} \quad \dots (1)$$

$$\cos \theta = \frac{QR}{PR} \quad \dots (2)$$

فیثا غورث کے مسئلہ کی رؤ سے،

$$PQ^2 + QR^2 = PR^2$$

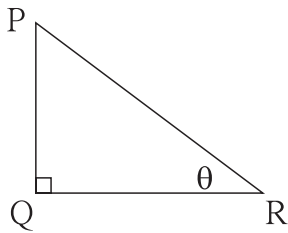
$$\therefore \frac{PQ^2}{PR^2} + \frac{QR^2}{PR^2} = \frac{PR^2}{PR^2} \quad \dots \text{ (طرفین کے ہر رکن کو}$$

PR² سے تقسیم کیا)

$$\therefore \left(\frac{PQ}{PR}\right)^2 + \left(\frac{QR}{PR}\right)^2 = 1$$

$$\therefore (\sin \theta)^2 + (\cos \theta)^2 = 1$$

[بیان (1) اور (2) کی رؤ سے] ...



شکل 8.25

اسے دھیان میں رکھیں

$(\sin \theta)^2$ یعنی $\sin \theta$ کا مربع اسے $\sin^2 \theta$ لکھتے ہیں۔

$\sin^2 \theta + \cos^2 \theta = 1$ یہ مساوات ہم نے فیثا غورث کا مسئلہ استعمال کر کے θ حادہ زاویہ والے قائمہ الزاویہ مثلث کے لیے ثابت کر چکے ہیں۔ $\theta = 90^\circ$ یا $\theta = 0^\circ$ ہو تب بھی یہ مساوات مطمئن ہوتی ہے۔ اس کی تصدیق کیجیے۔

$\sin^2 \theta + \cos^2 \theta = 1$ یہ مساوات کسی بھی پیمائش کے زاویہ کے لیے مطمئن ہوتی ہے۔ اس لیے اسے بنیادی متماثلہ مساوات یا دائی مساوات کہتے ہیں۔

$$(i) 0 \leq \sin \theta \leq 1, 0 \leq \sin^2 \theta \leq 1 \quad (ii) 0 \leq \cos \theta \leq 1, 0 \leq \cos^2 \theta \leq 1$$

مشقی سیٹ 8.2

1. درج ذیل جدول کے ہر ستون میں ایک نسبت دی ہوئی ہے۔ اس کی مدد سے دیگر دو نسبتیں معلوم کیجیے اور خالی جگہ پر کیجیے۔

$\sin \theta$		$\frac{11}{61}$		$\frac{1}{2}$				$\frac{3}{5}$	
$\cos \theta$	$\frac{35}{37}$				$\frac{1}{\sqrt{3}}$				
$\tan \theta$			1			$\frac{21}{20}$	$\frac{8}{15}$		$\frac{1}{2\sqrt{2}}$

2. قیمتیں معلوم کیجیے۔

(i) $5 \sin 30^\circ + 3 \tan 45^\circ$

(ii) $\frac{4}{5} \tan^2 60^\circ + 3 \sin^2 60^\circ$

(iii) $2 \sin 30^\circ + \cos 0^\circ + 3 \sin 90^\circ$

(iv) $\frac{\tan 60}{\sin 60 + \cos 60}$

(v) $\cos^2 45^\circ + \sin^2 30^\circ$

(vi) $\cos 60^\circ \times \cos 30^\circ + \sin 60^\circ \times \sin 30^\circ$

3. اگر $\sin \theta = \frac{4}{5}$ ہو تب $\cos \theta$ معلوم کیجیے۔

4. اگر $\cos \theta = \frac{15}{17}$ ہو تب $\sin \theta$ معلوم کیجیے۔

(1) درج ذیل کثیر متبادل سوالوں کے جواب سے صحیح متبادل منتخب کیجیے۔

(i) درج ذیل میں سے کون سا بیان صحیح ہے؟

(A) $\sin \theta = \cos (90 - \theta)$ (B) $\cos \theta = \tan (90 - \theta)$

(C) $\sin \theta = \tan (90 - \theta)$ (D) $\tan \theta = \tan (90 - \theta)$

(ii) $\sin 90^\circ$ کی قیمت درج ذیل میں سے کون سی ہے؟

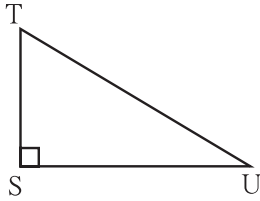
(A) $\frac{\sqrt{3}}{2}$ (B) 0 (C) $\frac{1}{2}$ (D) 1

(iii) $2 \tan 45^\circ + \cos 45^\circ - \sin 45^\circ =$ کتنا؟

(A) 0 (B) 1 (C) 2 (D) 3

(iv) $\frac{\cos 28^\circ}{\sin 62^\circ} =$ کتنا؟

(A) 2 (B) -1 (C) 0 (D) 1

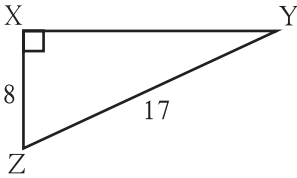


شکل 8.26

(2) قائمہ الزاویہ ΔTSU میں $TS = 5$ ، $\angle S = 90^\circ$ ، $SU = 12$

ہوتب $\sin T$ ، $\cos T$ ، $\tan T$ معلوم کیجیے اسی طرح

$\sin U$ ، $\cos U$ ، $\tan U$ معلوم کیجیے۔

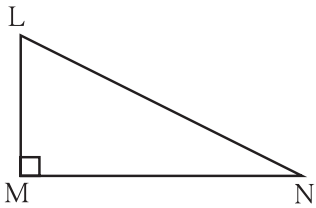


شکل 8.27

(3) قائمہ الزاویہ مثلث ΔYXZ میں $\angle X = 90^\circ$ ، سم $XZ = 8$ ،

سم $YZ = 17$ ہوتب $\sin Y$ ، $\cos Y$ ، $\tan Y$ اور

$\sin Z$ ، $\cos Z$ ، $\tan Z$ معلوم کیجیے۔



شکل 8.28

(4) قائمہ الزاویہ ΔLMN میں $\angle N = \theta$ ، $\angle M = 90^\circ$

$\cos \theta = \frac{24}{25}$ ہوتب $\sin \theta$ اور $\tan \theta$ کی نسبتیں معلوم کیجیے۔ اسی طرح $(\sin^2 \theta)$

اور $(\cos^2 \theta)$ کی قیمت معلوم کیجیے۔

(5) خالی جگہ پر کیجیے۔

(i) $\sin 20^\circ = \cos \square^\circ$

(ii) $\tan 30^\circ \times \tan \square^\circ = 1$

(iii) $\cos 40^\circ = \sin \square^\circ$





آئیے، سیکھیں



- مخروط کی سطحوں کا رقبہ
- مخروط کا حجم
- کرہ کی سطح کا رقبہ
- کرہ کا حجم

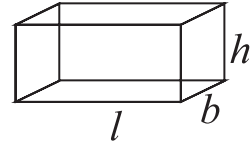
آئیے ذرا یاد کریں



ہم نے گذشتہ جماعت میں مستطیلی منشور (مکعب نما) مکعب، مدور استوانہ جیسے اجسام کی سطح کارقبہ اور حجم معلوم کرنے کا مطالعہ کرچکے ہیں۔
مستطیلی منشور: مستطیلی منشور (مکعب نما) کی لمبائی، چوڑائی اور اونچائی بالترتیب l , b , h ہوتی ہے،

(i) $2(l + b) \times h$ = مستطیلی منشور کی عمودی سطحوں کا رقبہ

یہاں مستطیلی منشور کی عمودی 4 سطحوں کے رقبوں پر غور کیا گیا ہے۔



شکل 9.1

(ii) $2(lb + bh + lh)$ = مستطیلی منشور کی کل سطحوں کا رقبہ

یہاں، مستطیلی منشور کی چھ سطحوں کے رقبوں پر غور کیا گیا ہے۔

(iii) $l \times b \times h$ = مستطیلی منشور کا حجم

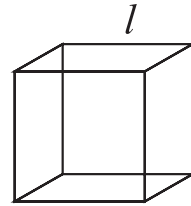
مکعب کا کنارہ (edge) l ہوتی ہے

مکعب:

(i) $6l^2$ = مکعب کی کل سطحوں کا رقبہ

(ii) $4l^2$ = مکعب کی عمودی سطحوں کا رقبہ

(iii) l^3 = مکعب کا حجم



شکل 9.2

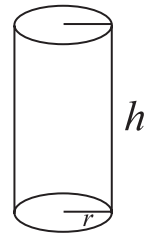
مدور استوانہ کے قاعدہ کا نصف قطر r اور اونچائی h ہوتی ہے

مدور استوانہ:

(i) $2\pi rh$ = مدور استوانہ کی خم دار سطح کا رقبہ

(ii) $2\pi r(r + h)$ = مدور استوانہ کی کل سطح کا رقبہ

(iii) $\pi r^2 h$ = مدور استوانہ کا حجم



شکل 9.3

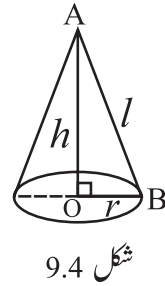
مشقی سیٹ 9.1

1. ایک مستطیلی منشور شکل کے دوائیوں کے بکس کی لمبائی، چوڑائی اور اونچائی بالترتیب 20 سم، 12 سم اور 10 سم ہے تو اس بکس کے عمودی سطحوں کا رقبہ اور کل سطحوں کا رقبہ معلوم کیجیے۔
2. ایک مستطیلی منشور شکل کے بکس کی کل سطحوں کا رقبہ 500 مربع اکائی ہے۔ اس کی چوڑائی اور اونچائی بالترتیب 6 اور 5 اکائی ہے تو اس بکس کی لمبائی کتنی ہوگی؟
3. ایک مکعب کا ضلع 4.5 سم ہے، اس مکعب کے عمودی سطحوں کا رقبہ اور کل سطحوں کا رقبہ معلوم کیجیے۔
4. ایک مکعب کی کل سطحوں کا رقبہ 5400 مربع سم ہے تو اس مکعب کی عمودی سطحوں کا رقبہ معلوم کیجیے۔
5. ایک مستطیلی منشور کا حجم 34.50 مکعب میٹر ہے۔ اس کی چوڑائی اور اونچائی بالترتیب 1.5 میٹر اور 1.15 میٹر ہے تو اس مستطیلی منشور کی لمبائی معلوم کیجیے۔
6. 7.5 سم کنارے والے مکعب کا حجم کتنا؟
7. ایک مدور استوانہ کے قاعدہ کا نصف قطر 20 سم اور اونچائی 13 سم ہے تو اس مدور استوانہ کی خمدار سطح کا رقبہ اور کل رقبہ معلوم کیجیے۔ ($\pi = 3.14$)
8. مدور استوانہ کی خمدار سطح کا رقبہ 1980 مربع سم ہے اور قاعدہ کا نصف قطر 15 سم ہو تو اس مدور استوانہ کی اونچائی معلوم کیجیے۔ ($\pi = \frac{22}{7}$)



مخروط سے متعلق اصطلاحات اور ان کا باہمی تعلق (Term related with a cone and their relation)

- متصلہ شکل 9.4 کی شکل مخروط کی ہے۔ مخروط کے قاعدہ کا مرکز O ہے اور مخروط کا اس A ہے۔
 قطعہ OA نصف قطر OB پر عمود ہے۔ لہذا OA مخروط کی بلندی (h) ہے۔ AB مخروط کی مائل بلندی (l) ہے۔
 $\triangle AOB$ قائمہ الزاویہ مثلث ہے۔
 \therefore فیثاغورث مسلک کی رُو سے،



شکل 9.4

$$AB^2 = AO^2 + OB^2$$

$$\therefore l^2 = h^2 + r^2$$

$$\text{یعنی، } (\text{قاعدہ کا نصف قطر})^2 + (\text{بلندی})^2 = (\text{مائل بلندی})^2$$

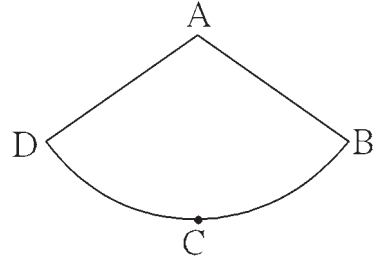
مخروط کی سطح کا رقبہ (Surface Area of a Cone)

مخروط کی دو سطحیں ہوتی ہیں۔ (i) دائروں کی سطح (ii) خمدار سطح

ان میں سے دائرہ کے رقبہ کے ضابطے سے مخروط کے قاعدہ کا رقبہ معلوم کیا جاسکتا ہے۔ مخروط کی خمدار سطح کا رقبہ معلوم کرنے کے لیے ضابطہ کس طرح معلوم کریں گے۔

اس کے لیے مخروط کی خمدار سطح کا مشاہدہ باریک بینی سے کریں گے۔

شکل 9.4 میں مخروط کو اس کی مائل بلندی AB پر سے کاٹ کر کھول دیا گیا ہے۔ اس کی بناوٹ متصلہ شکل 9.5 کے مطابق ملتی ہے۔ اس شکل کو دائرونی پنکھڑی کہتے ہیں۔

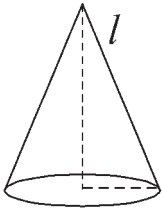


شکل 9.5

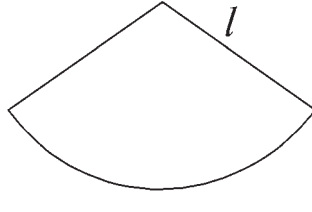
شکل 9.4 اور شکل 9.5 کا موازنہ کیجیے۔ کیا اس بناوٹ پر آپ کے ذہن میں ذیل کی باتیں آتی ہیں؟

- دائرونی پنکھڑی کا نصف قطر AB، یہ مخروط کی مائل بلندی کے مساوی ہے۔
- دائرونی پنکھڑی کا قوس BCD، مخروط کے قاعدہ کے محیط کی تجویلی شکل ہے۔
- A-BCD، دائرونی پنکھڑی کا رقبہ = مخروط کی خمدار سطح کا رقبہ

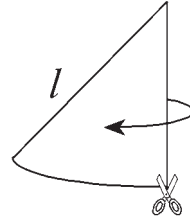
اس بناوٹ پر مخروط کی خمدار سطح کا رقبہ معلوم کرنے کے لیے اس کی بناوٹ کا یعنی دائرونی پنکھڑی کا رقبہ معلوم کرنا ہوگا۔ یہ رقبہ کس طرح معلوم کر سکتے ہیں؟
ذیل کے عملی کام سے سمجھ لیں



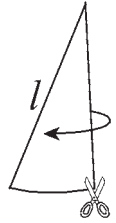
مخروط
شکل 9.6



خمدار سطح کی بناوٹ
شکل 9.7



بناوٹ کے ٹکڑے
شکل 9.8

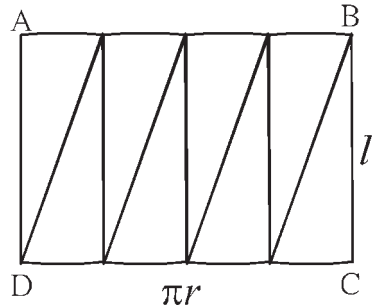


عملی کام :

$$2\pi r = \text{قاعدہ کا محیط}$$

ایک خمدار سطح کی شکل 9.8 میں دکھائے ہوئے کے مطابق ہے۔ جہاں تک ممکن ہو اتنے چھوٹے ٹکڑے کیجیے۔ انہیں شکل 9.9 سے دکھائے ہوئے کے مطابق جوڑیے۔

مخروط کی خمدار سطح کے ٹکڑے اس طرح جوڑنے سے ABCD تقریباً ایک مستطیل حاصل ہوا۔



شکل 9.9

AB اور CD کی کل لمبائی $2\pi r$ ہے۔

\therefore ABCD مستطیل کے ضلع AB کی لمبائی πr اور ضلع CD کی لمبائی πr ہے۔

$l =$ مخروط کی مائل سطح کی اونچائی = مستطیل کے ضلع BC کی لمبائی

\therefore مخروط کی خمدار سطح یعنی مستطیل کا رقبہ ہوگا۔

$$\therefore \text{مخروط کی خمدار سطح کا رقبہ} = \text{مستطیل کا رقبہ} = AB \times BC = \pi r \times l = \pi r l$$

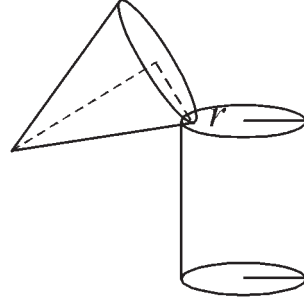
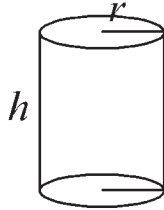
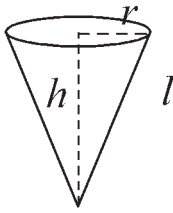
اب، مخروط کی کل سطح کا رقبہ کا ضابطہ معلوم کریں گے۔

$$\begin{aligned} \text{قاعدہ کا رقبہ} + \text{مخروط کی خمدار سطح کا رقبہ} &= \text{مخروط کی کل سطح کا رقبہ} \\ &= \pi r l + \pi r^2 \\ &= \pi r(l + r) \end{aligned}$$

یہاں کیا آپ کے ذہن میں کوئی اہم بات آئی؟ مخروط بند نہیں ہوتا (جو کر کی ٹوپی / جنم دن کی ٹوپی وغیرہ) تب خمدار سطح ہی اس کی ایک سطح ہوتی ہے۔
یعنی ضابطہ سے اس کا کل رقبہ $\pi r l$ ضابطہ سے ملتا ہے۔

عملی کام :

ایک کارڈ بورڈ لیجیے۔ اس کے ذریعے ایک مخروط اور ایک بند مدور استوانہ بنائیے۔ یعنی قاعدہ کا نصف قطر اور بلندی مساوی والا ایک مخروط اور ایک طرف سے بند مدور استوانہ بنائیے۔ یعنی مخروط کی بلندی (عمودی اونچائی) اور مدور استوانہ کی اونچائی مساوی ہو ایسا ایک مخروط اور مدور استوانہ بنائیے۔
مخروط کو باریک بالوسے پورا بھر لیجیے وہ بالو مدور استوانہ میں انڈیلیے۔ مدور استوانہ پورا بھرنے تک یہی عمل کیجیے۔
مدور استوانہ پورا بھرنے کے لئے کتنے مخروط بھر کر بالو ڈالا گیا؟ شمار کیجیے۔



شکل 9.10

مدور استوانہ بھرنے کے لئے بالوسے بھرے ہوئے تین مخروط لگے۔

آئیے سمجھ لیں



مخروط کا حجم (Volume of a Cone)

$$\begin{aligned} \text{مدور استوانے کا حجم} &= \text{مخروط کا حجم} \times 3 \\ \therefore 3 \times \text{مخروط کا حجم} &= \pi r^2 h \\ \therefore \text{مخروط کا حجم} &= \frac{1}{3} \times \pi r^2 h \end{aligned}$$

اسے دھیان میں رکھیں



(i) مخروط کے قاعدہ کا رقبہ $= \pi r^2$

(ii) مخروط کی خمدار سطح کا رقبہ $= \pi r l$

(iii) مخروط کی کل سطح کا رقبہ $= \pi r(l + r)$

(iv) مخروط کا حجم $= \frac{1}{3} \times \pi r^2 h$

حل کردہ مثالیں :

مثال (1) مخروط کے قاعدہ کا دیا ہوا نصف قطر (r) اور دی ہوئی بلندی (h) لے کر اس کی مائل بلندی (l) معلوم کیجیے۔

<p>(ii) سم $r = 9$، سم $h = 12$ $l^2 = r^2 + h^2$ $\therefore l^2 = (9)^2 + (12)^2$ $\therefore l^2 = 81 + 144$ $\therefore l^2 = 225$ $\therefore l = 15$ سم</p>	<p>(i) سم $r = 6$، سم $h = 8$ $l^2 = r^2 + h^2$ $\therefore l^2 = (6)^2 + (8)^2$ $\therefore l^2 = 36 + 64$ $\therefore l^2 = 100$ $\therefore l = 10$ سم</p>
---	---

مثال (2) ایک مخروط کا نصف قطر 12 سم اور بلندی 16 سم ہے۔ اس مخروط کی مائل بلندی، خمدار سطح کا رقبہ اور کل سطح کا رقبہ معلوم کیجیے۔

($\pi = 3.14$)

<p>(ii) مخروط کی خمدار سطح کا رقبہ $= \pi r l$ $= 3.14 \times 12 \times 20$ $= 753.6$ مربع سم</p> <p>(iii) مخروط کی کل سطح کا رقبہ $= \pi r(l + r)$ $= 3.14 \times 12(20+12)$ $= 3.14 \times 12 \times 32$ $= 1205.76$ مربع سم</p>	<p>(i) سم $r = 12$، سم $h = 16$ $l^2 = r^2 + h^2$ $\therefore l^2 = (12)^2 + (16)^2$ $\therefore l^2 = 144 + 256$ $\therefore l^2 = 400$ $\therefore l = 20$ سم</p>
--	---

مثال (3) ایک مخروط کی کل سطح کا رقبہ 704 مربع سم اور قاعدہ کا نصف قطر 7 سم ہو تو مخروط کی مائل بلندی معلوم کیجیے۔ ($\pi = \frac{22}{7}$)

$$\begin{aligned} \text{مخروط کی کل سطح کا رقبہ} &= \pi r(l + r) \\ \therefore 704 &= \frac{22}{7} \times 7(l + 7) \\ \therefore \frac{704}{22} &= l + 7 \\ \therefore 32 &= l + 7 \\ \therefore 32 - 7 &= l \\ \therefore l &= 25 \text{ سم} \end{aligned}$$

مثال (4) : ایک مخروط کے قاعدہ کا رقبہ 1386 مربع سم ہے اور مخروط کی بلندی 28 سم ہو تو، مخروط کی خماریح کا رقبہ معلوم کیجیے۔ $(\pi = \frac{22}{7})$

$$l^2 = r^2 + h^2$$

$$\therefore l^2 = (21)^2 + (28)^2$$

$$\therefore l^2 = 441 + 784$$

$$\therefore l^2 = 1225$$

$$\therefore l = 35 \text{ سم}$$

$$\text{مخروط کی خماریح کا رقبہ} = \pi r l$$

$$= \frac{22}{7} \times 21 \times 35$$

$$= 22 \times 21 \times 5$$

$$= 2310 \text{ مربع سم}$$

$$\text{حل : مخروط کے قاعدہ کا رقبہ} = \pi r^2$$

$$\therefore 1386 = \frac{22}{7} \times r^2$$

$$\therefore \frac{1386 \times 7}{22} = r^2$$

$$\therefore 63 \times 7 = r^2$$

$$\therefore 441 = r^2$$

$$\therefore r = 21 \text{ سم}$$

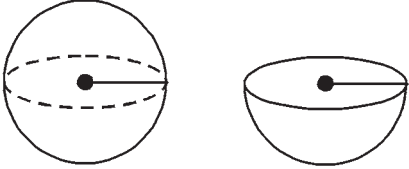
مشقی سیٹ 9.2

1. مخروط کی بلندی 12 سم اور ماٹل بلندی 13 سم ہے تب مخروط کے قاعدہ کا نصف قطر کتنا؟
2. ایک مخروط کی کل سطح کا رقبہ 7128 مربع سم اور مخروط کے قاعدہ کا نصف قطر 28 سم ہو تو مخروط کا حجم معلوم کیجیے۔ $(\pi = \frac{22}{7})$
3. ایک مخروط کی خماریح کا رقبہ مربع سم 251.2 اور قاعدہ کا نصف قطر 8 سم ہو تو مخروط کی ماٹل بلندی اور عمودی بلندی معلوم کیجیے۔ $(\pi = 3.14)$
4. 6 میٹر نصف قطر اور 8 میٹر ماٹل بلندی کے پترے کی بند مخروطی شکل بنانے کے لیے ₹10 فی مربع میٹر خرچ ہو تو ایسا مخروط بنانے کے لیے درکار خرچ معلوم کیجیے۔ $(\pi = \frac{22}{7})$
5. مخروط کا حجم 6280 مکعب سم ہے، قاعدہ کا نصف قطر 20 سم ہے تو مخروط کی بلندی معلوم کیجیے۔ $(\pi = 3.14)$
6. مخروط کی خماریح کا رقبہ 188.4 مربع سم اور ماٹل بلندی 10 سم ہے تو مخروط کی بلندی معلوم کیجیے۔ $(\pi = 3.14)$
7. ایک مخروط کا حجم 1232 مکعب سم ہے اور بلندی 24 سم ہے تو اس مخروط کی خماریح کا رقبہ معلوم کیجیے۔ $(\pi = \frac{22}{7})$
8. ایک مخروط کی خماریح کا رقبہ 2200 مربع سم ہے اور اس کی ماٹل بلندی 50 سم ہے تو اس مخروط کی کل سطح کا رقبہ اور حجم معلوم کیجیے۔ $(\pi = \frac{22}{7})$
- 9*. ایک مخروطی خیمہ میں 25 افراد رہتے ہیں۔ ہر ایک کوز میں پر 4 مربع میٹر زمین درکار ہے۔ اگر خیمہ کی بلندی 18 میٹر ہو تو خیمہ کا حجم کتنا ہے؟

10*. ایک کھیت میں مویشیوں کے لیے سوکھا چارمخروطی شکل میں ڈھیر بنا کر رکھا ہوا ہے۔ ڈھیر کی اونچائی 2.1 میٹر ہے اور قاعدہ کا قطر 7.2 میٹر ہے۔ تب چارے کے ڈھیر کا حجم معلوم کیجیے۔ بارش ہونے کا امکان نظر آنے پر ایسے موقع پر اس ڈھیر کو پلاسٹک سے ڈھانکنا ہو تو کسان کو کتنے مربع میٹر پلاسٹک کا کاغذ درکار ہوگا؟ ($\sqrt{17.37} = 4.17$ اور $\pi = \frac{22}{7}$ لیجیے)



کرہ کی سطح کارقبہ (Surface Area of Sphere)



شکل 9.11

$$4\pi r^2 = \text{کھوکھلے کرہ کی خمدار سطح کارقبہ}$$

$$\therefore 2\pi r^2 = \text{نصف کرہ کی خمدار سطح کارقبہ}$$

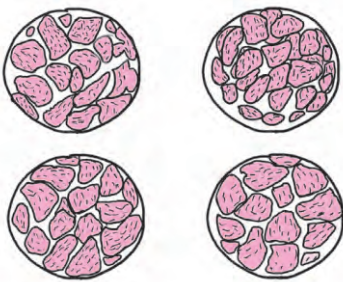
$$\begin{aligned} \text{دائرہ کارقبہ} + \text{خمدار سطح کارقبہ} &= \text{ٹھوس نصف کرہ کی کل سطح کارقبہ} \\ &= 2\pi r^2 + \pi r^2 \\ &= 3\pi r^2 \end{aligned}$$

عملی کام :

ایک موٹھی لیجیے۔ اس کے دو نصف حصے کیجیے۔



ایک نصف کرہ مسطح کاغذ پر اونڈھا رکھ کر اس کے گرد پنسل سے دائرہ بنائیے۔
ایسے چار دائرے بنائیے۔ اب موٹھی کی چار مساوی پھانکیں بنائیے۔



ہر پھانک کے چھٹکوں کے باریک باریک ٹکڑے کیجیے۔ ایک دائرہ ایک پھانک کے ٹکڑوں سے تقریباً بھر جائے گا۔ اس طرح اس بنا پر چاروں دائرے پورے بھر جائیں گے۔

$$\begin{aligned} \text{دائرہ کارقبہ} \times 4 &= \text{کرہ کی خمدار سطح کارقبہ} \\ &= 4\pi r^2 \end{aligned}$$

حل کردہ مثالیں :

(1) ایک کرہ کا نصف قطر 7 سم ہے، تب اس کرہ کی خمدار سطح کا رقبہ معلوم کیجیے۔
(2) ایک کرہ کی خمدار سطح کا رقبہ 1256 مربع سم ہے تو اس کرہ کا نصف قطر معلوم کیجیے۔ ($\pi = 3.14$)

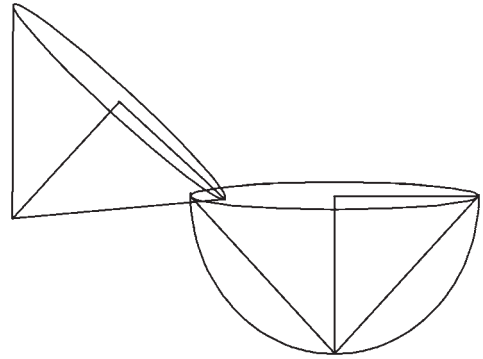
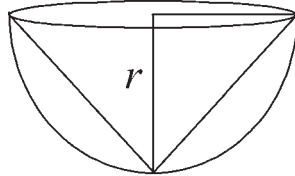
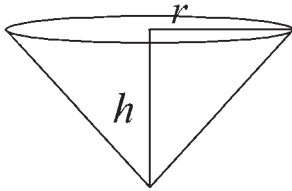
$$\begin{aligned} \text{کرہ کی خمدار سطح کا رقبہ} &= 4\pi r^2 \\ \therefore 1256 &= 4 \times 3.14 \times r^2 \\ \therefore \frac{1256}{4 \times 3.14} &= r^2 \\ \therefore \frac{31400}{314} &= r^2 \\ \therefore 100 &= r^2 \\ \therefore 10 &= r \\ \therefore r &= 10 \text{ سم} \end{aligned}$$

$$\begin{aligned} \text{کرہ کی خمدار سطح کا رقبہ} &= 4\pi r^2 \\ &= 4 \times \frac{22}{7} \times (7)^2 \\ &= 4 \times \frac{22}{7} \times 7 \times 7 \\ &= 88 \times 7 \\ &= 616 \\ \text{مربع سم} &= 616 \\ \text{کرہ کی خمدار سطح کا رقبہ} &= 616 \end{aligned}$$

عملی کام :

ایک مخروط اور ایک نصف کرہ اس طرح لیجیے کہ، نصف کرہ کا نصف قطر اور مخروط کے قاعدہ کا نصف قطر اور نصف کرہ کا نصف قطر مساوی ہے۔

مخروط بالواسے پورا بھریئے۔ پورا بھرا ہو مخروط نصف کرہ میں انڈیلیے۔ نصف کرہ مکمل طور پر بھرنے کے لیے کتنے مخروط درکار ہوں گے۔ اسے دیکھیے۔



شکل 9.12

$$\begin{aligned} \text{نصف کرہ کا حجم} &= 2 \times \text{کرہ کا حجم} \\ &= \frac{4}{3} \pi r^3 \\ \therefore \text{کرہ کا حجم} &= \frac{4}{3} \pi r^3 \end{aligned}$$

$$\begin{aligned} \text{ایک نصف کرہ پورا بھرنے کے لیے دو مخروط بھر کر بالوالگے۔} \\ \therefore 2 \times \text{مخروط کا حجم} &= \text{نصف کرہ کا حجم} \\ \therefore \text{مخروط کا حجم} &= 2 \times \text{نصف کرہ کا حجم} \\ &= 2 \times \frac{1}{3} \times \pi r^2 h \\ &= 2 \times \frac{1}{3} \times \pi r^2 \times r \\ &= \frac{2}{3} \pi r^3 \end{aligned}$$



$$\text{کرہ کا حجم} = \frac{4}{3} \pi r^3$$

$$\text{نصف کرہ کا حجم} = \frac{2}{3} \pi r^3$$

$$\text{ٹھوس کرہ کی کل سطح کا رقبہ} = 2\pi r^2 + \pi r^2 = 3\pi r^2$$

حل کردہ مثالیں :

مثال (1) ایک کرہ کا نصف قطر 21 سم ہے تو اس کرہ کا حجم معلوم کیجیے۔
($\pi = \frac{22}{7}$)

مثال (2) 113040 مکعب سم والے کرہ کا نصف قطر معلوم کیجیے۔
($\pi = 3.14$)

حل :

$$\text{کرہ کا حجم} = \frac{4}{3} \pi r^3$$

$$113040 = \frac{4}{3} \times 3.14 \times r^3$$

$$\frac{113040 \times 3}{4 \times 3.14} = r^3$$

$$\frac{28260 \times 3}{3.14} = r^3$$

$$\therefore 9000 \times 3 = r^3$$

$$\therefore r^3 = 27000$$

$$\therefore r = 30 \text{ سم}$$

کرہ کا نصف قطر 30 سم ہے۔

حل :

$$\text{کرہ کا حجم} = \frac{4}{3} \pi r^3$$

$$= \frac{4}{3} \times \frac{22}{7} \times (21)^3$$

$$= \frac{4}{3} \times \frac{22}{7} \times 21 \times 21 \times 21$$

$$= 88 \times 441$$

$$\therefore \text{کرہ کا حجم} = 38808 \text{ مکعب سم}$$

\therefore کرہ کا حجم 38808 مکعب سم ہے۔

مثال (3) خمدار سطح کا رقبہ 314 مربع سم والے کرہ کا حجم کتنا؟ ($\pi = 3.14$)

$$\text{کرہ کا حجم} = \frac{4}{3} \pi r^3$$

$$= \frac{4}{3} \times 3.14 \times r^3$$

$$= \frac{4}{3} \times 3.14 \times 125$$

$$= 523.33 \text{ مکعب سم}$$

$$\text{کرہ کی خمدار سطح کا رقبہ} = 4\pi r^2$$

$$314 = 4 \times 3.14 \times r^2$$

$$\frac{314}{4 \times 3.14} = r^2$$

$$\frac{31400}{4 \times 314} = r^2$$

$$\therefore \frac{100}{4} = r^2$$

$$\therefore 25 = r^2$$

$$\therefore r = 5 \text{ سم}$$

مشقی سیٹ 9.3

1. ذیل میں دیے ہوئے عدد کروں کے نصف قطر کو ظاہر کرتے ہیں۔

- (i) سم 4 (ii) سم 9 (iii) سم 3.5

تو ان کروں کی خمدار سطحوں کا رقبہ اور حجم معلوم کیجیے۔ ($\pi = 3.14$)

2. 5 سم نصف قطر والے لٹھوس نصف کرہ کی خمدار سطح کا رقبہ اور کل سطح کا رقبہ معلوم کیجیے۔ ($\pi = 3.14$)

3. 2826 مربع سم خمدار سطح کا رقبہ والے کرہ کا حجم معلوم کیجیے۔ ($\pi = 3.14$)

4. 38808 مکعب سم حجم والے کرہ کی خمدار سطح کا رقبہ معلوم کیجیے۔ ($\pi = \frac{22}{7}$)

5. ایک نصف کرہ کا حجم 18000π مکعب سم ہے۔ اس کرہ کا قطر معلوم کیجیے۔

مجموعہ سوالات 9

1. 0.9 میٹر قطر اور 1.4 میٹر لمبائی والے روڈ رولر (محرک دھمس) کی 500 گردشوں سے کتنی زمین دبائی جائے گی؟ ($\pi = \frac{22}{7}$)

2. ایک مستطیلی منشور کی شکل کا گھر بلوچھلی گھر (ماہی خانہ) (aquarium) بنانے کے لیے 2 ملی میٹر موٹی کانچ کا استعمال کیا گیا۔ ماہی خانہ (کی دیوار

کی) باہر سے لمبائی، چوڑائی اور اونچائی بالترتیب سینٹی میٹر میں $60.4 \times 40.4 \times 40.2$ ہے۔ تو اس ماہی خانہ میں زیادہ سے زیادہ کتنا پانی سمائے گا؟

3. ایک مخروط کے قاعدے کا نصف قطر اور بلندی کی نسبت 12 : 5 ہے۔ مخروط کا حجم 314 مکعب میٹر ہے۔ اس کی بلندی اور مائل بلندی معلوم کیجیے۔

($\pi = 3.14$)

4. ایک کرہ کا حجم 904.32 مکعب سم ہے تو اس کرہ کا نصف قطر معلوم کیجیے۔ ($\pi = 3.14$)

5. ایک مکعب کی کل سطح کا رقبہ 864 مربع سم ہے تو اس کا حجم معلوم کیجیے۔

6. جس کرہ کی سطح کا رقبہ 154 مربع سم ہے۔ اس کرہ کا حجم معلوم کیجیے۔

7. ایک مخروط کی کل سطح کا رقبہ 616 مربع سم ہے۔ اس کی مائل بلندی، قاعدہ کے نصف قطر کے تین گنا ہو تو مائل بلندی معلوم کیجیے۔

8. دائروی کنویں کا اندرونی قطر 4.20 میٹر اور کنویں کی گہرائی 10 میٹر ہے تو اس کی اندرونی خمدار سطح کا رقبہ کتنا ہے؟ کنویں کی اندرونی خمدار سطح پر اسٹر

کاری (پلاسٹر) کرنے کے لیے فی مربع میٹر ₹52 کے نرخ سے کتنا خرچ ہوگا؟

9. ایک محرک دھمس (روڈ رولر) کی لمبائی 2.1 میٹر اور اس کا قطر 1.4 میٹر ہے۔ ایک میدان کی ہموار کاری کے دوران رولر نے 500 گردشیں مکمل

کرتا ہے تو رولر نے کتنے مربع میٹر میدان ہموار کیا ہوگا؟ ہموار کاری کا نرخ ₹7 فی مربع میٹر ہو تو کتنا خرچ ہوگا؟



1. علم ہندسہ کے بنیادی تصورات

1.1 مشقی سیٹ

- (i) 3 (ii) 3 (iii) 7 (iv) 1
(v) 3 (vi) 5 (vii) 2 (viii) 7
- (i) 6 (ii) 8 (iii) 10 (iv) 1 (v) 3 (vi) 12
- (i) P-R-Q (ii) ہم خطی نہیں ہیں (iii) A-C-B (iv) ہم خطی نہیں ہیں
(v) X-Y-Z (vi) ہم خطی نہیں ہیں
- مثلاً 2 اور 18 5. 9 اور 25 6. (i) 4.5 (ii) 6.2 (iii) $2\sqrt{7}$ 7.

1.2 مشقی سیٹ

- (i) نہیں (ii) نہیں (iii) ہاں 2. 4 3. 5 4. $BP < AP < AB$
- (i) شعاع RS یا شعاع RT (ii) شعاع PQ (iii) قطعہ QR
(iv) شعاع SR, شعاع ST وغیرہ (v) شعاع RQ اور شعاع RT وغیرہ (vi) شعاع RQ اور شعاع RQ وغیرہ
(vii) نقطہ S
- (i) نقطہ L اور نقطہ U، نقطہ P اور نقطہ R (ii) نقطہ A اور نقطہ C، نقطہ D اور نقطہ P
(iii) $d(U,V) = 10$, $d(P,C) = 6$, $d(V,B) = 3$, $d(U,L) = 2$

1.3 مشقی سیٹ

- (i) اگر کوئی ذو اربعۃ الاضلاع متوازی الاضلاع ہو تب اس ذو اربعۃ الاضلاع کے مقابل کے زاویے متماثل ہوتے ہیں۔
(ii) اگر کوئی ذو اربعۃ الاضلاع مستطیل ہو تب اس ذو اربعۃ الاضلاع کے وتر متماثل ہوتے ہیں۔
(iii) اگر کوئی مثلث متساوی الساقین مثلث ہو تو اس مثلث کے راس اور قاعدہ کے وسطی نقطہ کو جوڑنے والا قطعہ قاعدہ پر عمود ہوتا ہے۔
- (i) اگر دو خطوط اور ان کا تقاطع دیا ہو اور بننے والے متبادلہ زاویے متماثل ہوں تب وہ دونوں خطوط متوازی ہوتے ہیں۔
(ii) دو متوازی خطوط کو تقاطع قطع کرنا ہو تو بننے والے داخلہ زاویوں کی جوڑی متمم ہوتی ہے۔
(iii) اگر کوئی ذو اربعۃ الاضلاع کے وتر متماثل ہوں تب وہ ذو اربعۃ الاضلاع مستطیل ہوتا ہے۔

مجموعہ سوالات - 1

- (i) A (ii) C (iii) C (iv) C (v) B
- (i) غلط (ii) غلط (iii) صحیح (iv) غلط
- (i) 3 (ii) 8 (iii) 9 (iv) 2 (v) 6 (vi) 22 (vii) 165 4. 1 اور 15
- (i) 10.5 (ii) 9.1 (6) 6. 8 اور 6

2. متوازی خطوط

2.1 مشقی سیٹ

- (i) 95° (ii) 95° (iii) 85° (iv) 85°
- $\angle a = 70^\circ, \angle b = 70^\circ, \angle c = 115^\circ, \angle d = 65^\circ$
- $\angle a = 135^\circ, \angle b = 135^\circ, \angle c = 135^\circ$
- (i) 75° (ii) 75° (iii) 105° (iv) 75°

2.2 مشقی سیٹ

- نہیں
- $\angle ABC = 130^\circ$

مجموعہ سوالات - 2

- (i) C (ii) C (iii) A (iv) B (v) C
- $x = 130^\circ$ $y = 50^\circ$
- $x = 126^\circ$ 6. $f = 100^\circ$ 7. $g = 80^\circ$

3. مثلث

3.1 مشقی سیٹ

- 110° 2. 45° 3. $80^\circ, 60^\circ, 40^\circ$ 4. $30^\circ, 60^\circ, 90^\circ$
- $60^\circ, 80^\circ, 40^\circ$ 6. $\angle DRE = 70^\circ, \angle ARE = 110^\circ$
- $\angle AOB = 125^\circ$ 9. $30^\circ, 70^\circ, 80^\circ$

3.2 مشقی سیٹ

- (i) ضل ضل ضل (ii) ضل ضل (iii) ضل ضل (iv) وتر ضلع
- (i) ضل ضل زا $\angle BAC \cong \angle QPR$, قطعہ $AB \cong$ قطعہ PQ , قطعہ $AC \cong$ قطعہ PR
(ii) ضل ضل زا $\angle TPQ \cong \angle TSR$, $\angle TQP \cong \angle TRS$, قطعہ $PQ \cong$ قطعہ SR
- وتر ضلع $\angle ACB \cong \angle QRP$, $\angle ABC \cong \angle QPR$, قطعہ $AC \cong$ قطعہ QR
- ضل ضل ضل $\angle MLN \cong \angle MPN$, $\angle LMN \cong \angle MNP$, $\angle LNM \cong \angle PMN$

3.3 مشقی سیٹ

- $x = 50^\circ, y = 60^\circ, m\angle ABD = 110^\circ, m\angle ACD = 110^\circ$
- اکائی 7.5 3. اکائی 6.5 4. $l(PG) = 5$ سم, $l(PT) = 7.5$ سم

3.4 مشقی سیٹ

- سم 2 2. 28° 3. $\angle QPR, \angle PQR$ 4. ضلع NA, ضلع FN

3.5 مشقی سیٹ

- $\frac{XY}{LM} = \frac{YZ}{MN} = \frac{XZ}{LN}$, $\angle X \cong \angle L$, $\angle Y \cong \angle M$, $\angle Z \cong \angle N$
- $l(QR) = 12$ سم, $l(PR) = 10$ سم

مجموعہ سوالات - 3

1. (i) D (ii) B (iii) B

5. ذرا بڑے اضلاع

مشقی سیٹ 5.1

- $m\angle XWZ = 135^\circ$, $m\angle YZW = 45^\circ$, $l(WY) = 10$ سم
- $x = 40^\circ$, $\angle C = 132^\circ$, $\angle D = 48^\circ$
- 25 سم, 50 سم, 25 سم, 50 سم
- 60° , 120° , 60° , 120°
- $\angle A = 70^\circ$, $\angle B = 110^\circ$, $\angle C = 70^\circ$, $\angle R = 110^\circ$

مشقی سیٹ 5.3

- BO = 4 سم, $\angle ACB = 35^\circ$
- QR = 7.5 سم, $\angle PQR = 105^\circ$, $\angle SRQ = 75^\circ$
- $\angle IMJ = 90^\circ$, $\angle JIK = 45^\circ$, $\angle LJK = 45^\circ$ 4. سم = 14.5, احاطہ = 58
- (i) غلط (ii) غلط (iii) صحیح (iv) صحیح (v) صحیح (vi) غلط

مشقی سیٹ 5.4

- $\angle J = 127^\circ$, $\angle L = 72^\circ$
- $\angle B = 108^\circ$, $\angle D = 72^\circ$

مشقی سیٹ 5.5

- XY = 4.5 سم, YZ = 2.5 سم, XZ = 5.5 سم

مجموعہ سوالات - 5

- (i) D (ii) C (iii) D 2. 25 سم 3. $6.5\sqrt{2}$ سم
- 24 سم, 32 سم, 24 سم, 32 سم 5. PQ = 26 سم 6. $\angle MPS = 65^\circ$

6. دائرہ

مشقی سیٹ 6.1

- 20 سم 2. 5 سم 3. اکائی 32 4. اکائی 9

مشقی سیٹ 6.2

- 12 سم 2. 24 سم

مجموعہ سوالات - 6

- (i) A (ii) C (iii) A (iv) B (v) D (vi) C (vii) D 2. 2:1 4. اکائی 24

7. محدودی علم ہندسہ

مشقی سیٹ 7.1

1. ربع I : نقطہ D، ربع I : نقطہ K، ربع III : نقطہ B، ربع II : نقطہ A، ربع I : نقطہ E، ربع IV : نقطہ H، ربع IV : نقطہ G، ربع IV : نقطہ F، ربع I : نقطہ E، ربع III : نقطہ O، ربع -Y : نقطہ P، ربع -Y : نقطہ N، ربع -X : نقطہ M
2. (i) ربع I (ii) ربع III (iii) ربع IV (iv) ربع II

مشقی سیٹ 7.2

1. مربع 2. $x = -7$ 3. $y = -5$ 4. $x = -3$ 5. اکائی 4
6. (i) ربع -Y (ii) ربع -X (iii) ربع -Y (iv) ربع -X 7. (5, 0) پر ربع -X، (0, 5) پر ربع -Y
8. $(-4, 1)$ ، $(-1.5, 1)$ ، $(-1.5, 5)$ ، $(-4, 5)$

مجموعہ سوالات - 7

1. (i) C (ii) A (iii) B (iv) C (v) C (vi) B
2. (i) Q $(-2, 2)$ ، R $(4, -1)$ (ii) T $(0, -1)$ ، M $(3, 0)$ ، (iii) S (iv) O نقطہ
3. (i) ربع IV (ii) ربع III (iii) ربع II (iv) ربع II (v) ربع -Y (vi) ربع -X
5. (i) 3 (ii) P $(3, 2)$ ، Q $(3, -1)$ ، R $(3, 0)$ (iii) 0 6. دو خط $y = 5$ ، $y = -5$ 7. $|a|$

8. علم مثلث

مشقی سیٹ 8.1

1. (i) $\frac{QR}{PQ}$ (ii) $\frac{QR}{PQ}$ (iii) $\frac{QR}{PR}$ (iv) $\frac{PR}{QR}$
2. (i) $\frac{a}{c}$ (ii) $\frac{b}{a}$ (iii) $\frac{b}{c}$ (iv) $\frac{a}{b}$
3. (i) $\frac{MN}{LN}$ (ii) $\frac{LM}{LN}$ (iii) $\frac{LM}{MN}$ (iv) $\frac{MN}{LN}$
4. (i) $\frac{PQ}{PR}$ ، $\frac{RQ}{PR}$ ، $\frac{PQ}{RQ}$ (ii) $\frac{QS}{PS}$ ، $\frac{PQ}{PS}$ ، $\frac{QS}{PQ}$

مشقی سیٹ 8.2

1. $\sin \theta : \frac{12}{37}, \frac{1}{\sqrt{2}}, \frac{\sqrt{2}}{\sqrt{3}}, \frac{21}{29}, \frac{8}{17}, \frac{1}{3}$; $\cos \theta : \frac{60}{61}, \frac{1}{\sqrt{2}}, \frac{\sqrt{3}}{2}, \frac{20}{29}, \frac{15}{17}, \frac{4}{5}, \frac{2\sqrt{2}}{3}$
 $\tan \theta : \frac{12}{35}, \frac{11}{60}, \frac{1}{\sqrt{3}}, \sqrt{2}, \frac{3}{4}$

2. (i) $\frac{11}{2}$ (ii) $\frac{93}{20}$ (iii) 5 (iv) $\frac{2\sqrt{3}}{\sqrt{3}+1}$ (v) $\frac{3}{4}$ (vi) $\frac{\sqrt{3}}{2}$ 3. $\frac{3}{5}$ 4. $\frac{8}{17}$

مجموعہ سوالات - 8

1. (i) A (ii) D (iii) C (iv) D
 2. $\sin T = \frac{12}{13}$, $\cos T = \frac{5}{13}$, $\tan T = \frac{12}{5}$, $\sin U = \frac{5}{13}$, $\cos U = \frac{12}{13}$, $\tan U = \frac{5}{12}$
 3. $\sin Y = \frac{8}{17}$, $\cos Y = \frac{15}{17}$, $\tan Y = \frac{8}{15}$, $\sin Z = \frac{15}{17}$, $\cos Z = \frac{8}{17}$, $\tan Z = \frac{15}{8}$
 4. $\sin \theta = \frac{7}{25}$, $\tan \theta = \frac{7}{24}$, $\sin^2 \theta = \frac{49}{625}$, $\cos^2 \theta = \frac{576}{625}$
 5. (i) 70 (ii) 60 (iii) 50

9. سطح کار قبہ اور حجم

1. مربع سم 640، مربع سم 1120 2. اکائی 20 3. مربع سم 81، مربع سم 121.50 4. مربع سم 3600
 5. میٹر 20 6. مکعب سم 421.88 7. مربع سم 1632.80، مربع سم 4144.80 8. سم 21

مشقی سیٹ 9.2

1. سم 5 2. مکعب سم 36960 3. سم 6، سم 10 4. ₹2640 5. سم 15 6. سم 8
 7. مربع سم 550 8. مربع سم 2816، مکعب سم 9856 9. مکعب سم 600
 10. مکعب میٹر 28.51، مکعب میٹر 47.18

مشقی سیٹ 9.3

1. (i) مربع سم 200.96، مکعب سم 267.95 (ii) مربع سم 1017.36، مکعب سم 3052.08
 (iii) مربع سم 153.86، مکعب سم 179.50
 2. مربع سم 157، مربع سم 235.5 3. مکعب سم 14130 4. مربع سم 5544 5. سم 60

مجموعہ سوالات - 9

1. مربع میٹر 1980 2. مکعب سم 96801.6 3. میٹر 12، میٹر 13 4. سم 6 5. مکعب سم 1728
 6. مکعب سم 179.67 7. سم 21 8. مربع سم 132، ₹6864 9. مربع سم 4620، ₹32340



عملی کام کی بیاض نویں جماعت ریاضی (حصہ I اور حصہ II)

اُردو
ذریعہ تعلیم

قیمت
۵۵ روپے



- ❖ حکومت سے منظور شدہ نصاب اور درسی کتاب پر مبنی۔
- ❖ قدر پیمائی کے طریقے کے مطابق تمام اسباق پر مبنی عملی کاموں کی شمولیت۔
- ❖ مختلف سرگرمیوں، تصویروں، شکلوں وغیرہ سے مزین۔
- ❖ معروضی اور کثیر متبادل سوالوں کے ساتھ۔
- ❖ زبانی امتحان کے لیے کارآمد سوالوں کی شمولیت۔
- ❖ مشق کے لیے مزید سوالوں کے جواب لکھنے کے لیے زیادہ سے زیادہ جگہ دستیاب۔

پاٹھیہ پبلیکیشنز کے تمام علاقائی ڈپو میں عملی بیاض برائے فروخت دستیاب ہیں۔

- (1) Maharashtra State Textbook Stores and Distribution Centre, Senapati Bapat Marg, Pune 411004 ☎ 25659465
 (2) Maharashtra State Textbook Stores and Distribution Centre, P-41, Industrial Estate, Mumbai - Bengaluru Highway, Opposite Sakal Office, Kolhapur 416122 ☎ 2468576 (3) Maharashtra State Textbook Stores and Distribution Centre, 10, Udyog Nagar, S. V. Road, Goregaon (West), Mumbai 400062 ☎ 28771842
 (4) Maharashtra State Textbook Stores and Distribution Centre, CIDCO, Plot no. 14, W-Sector 12, Wavanja Road, New Panvel, Dist. Rajgad, Panvel 410206 ☎ 274626465 (5) Maharashtra State Textbook Stores and Distribution Centre, Near Lekhanagar, Plot no. 24, 'MAGH' Sector, CIDCO, New Mumbai-Agra Road, Nashik 422009 ☎ 2391511 (6) Maharashtra State Textbook Stores and Distribution Centre, M.I.D.C. Shed no. 2 and 3, Near Railway Station, Aurangabad 431001 ☎ 2332171 (7) Maharashtra State Textbook Stores and Distribution Centre, Opposite Rabindranath Tagore Science College, Maharaj Baug Road, Nagpur 440001 ☎ 2547716/2523078 (8) Maharashtra State Textbook Stores and Distribution Centre, Plot no. F-91, M.I.D.C., Latur 413531 ☎ 220930 (9) Maharashtra State Textbook Stores and Distribution Centre, Shakuntal Colony, Behind V.M.V. College, Amravati 444604 ☎ 2530965



ebalbharati



پاٹھیہ پبلیکیشنز، بال بھارتی کے توسط سے دسویں جماعت کے لیے

ای-لرننگ (Audio-Visual) مواد دستیاب

- بازو میں دیا ہوا Q.R. کوڈ اسکین کر کے ای-لرننگ مواد حاصل کرنے کے لیے اندراج کریں۔
- Google Play Store سے ebalbharati ایپ ڈاؤن لوڈ کر کے ای-لرننگ مواد کے لیے مطالبہ درج کریں۔



www.ebalbharati.in | www.balbharati.in



महाराष्ट्र राजीव पाठ्ये पुस्तक नरुती वा बह्युस करु सुशुदुधुन डनुडुल, डुनु - ॡॡॡॡॡॡ

उदुदु गणुत इ. ॡ वी डुग-ॡ

₹ 61.00